
3. PREVERJANJE ZNANJA PRED OCENJEVANJEM - elektrotehnika

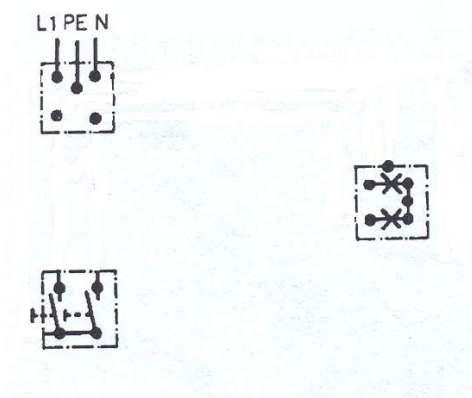
Ime in priimek: _____

Točke: 35

Ocena: _____

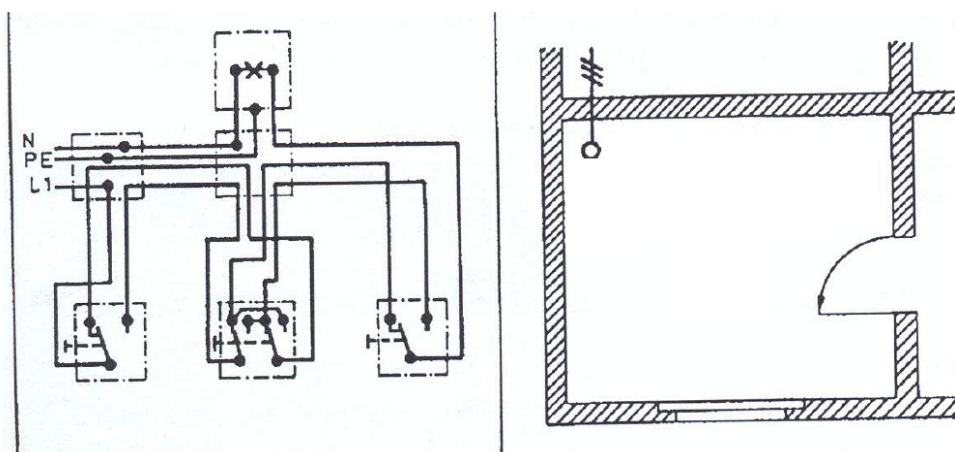
1. Poveži shemo stikala.

4

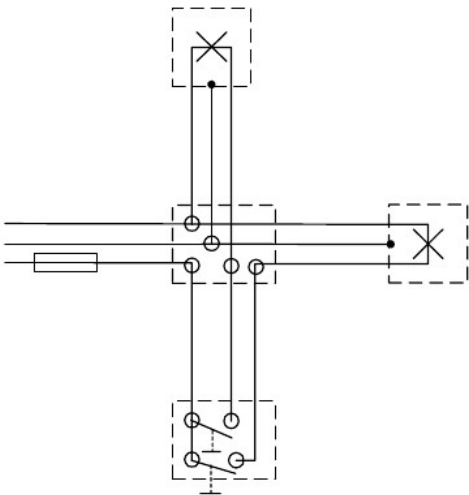


2. Kateri tip stikal je tu prisoten? Vriši v desno skico simbole stikal in njihovo vezavo!

7



Izvedite tokokrog, ščiten z navadno nizko napetostno varovalko, kjer s serijskim stikalom ločeno vklopljamo ni izklopljamo dve žarnici. Na koncu preverite pravilnost delovanja vezja.



4. Napiši ime oznake.

