



Allegato alla Prova d'esame 1 (contiene 10 figure)

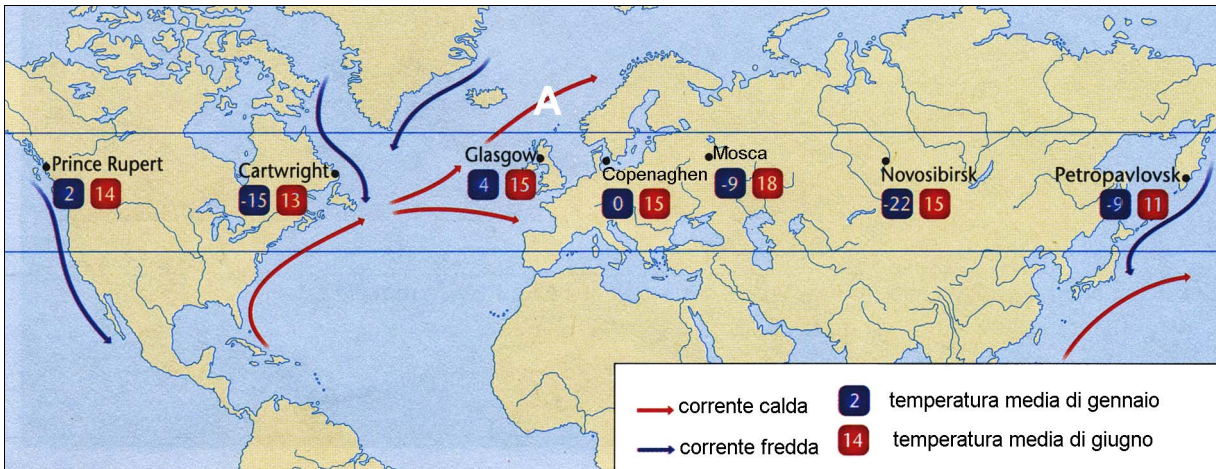


Figura 1

(Fonte: Senegačnik, J., e altri, 2008: Obča geografija za 1. letnik gimnazij. Delovni zvezek, p. 20. Modrijan. Ljubljana)

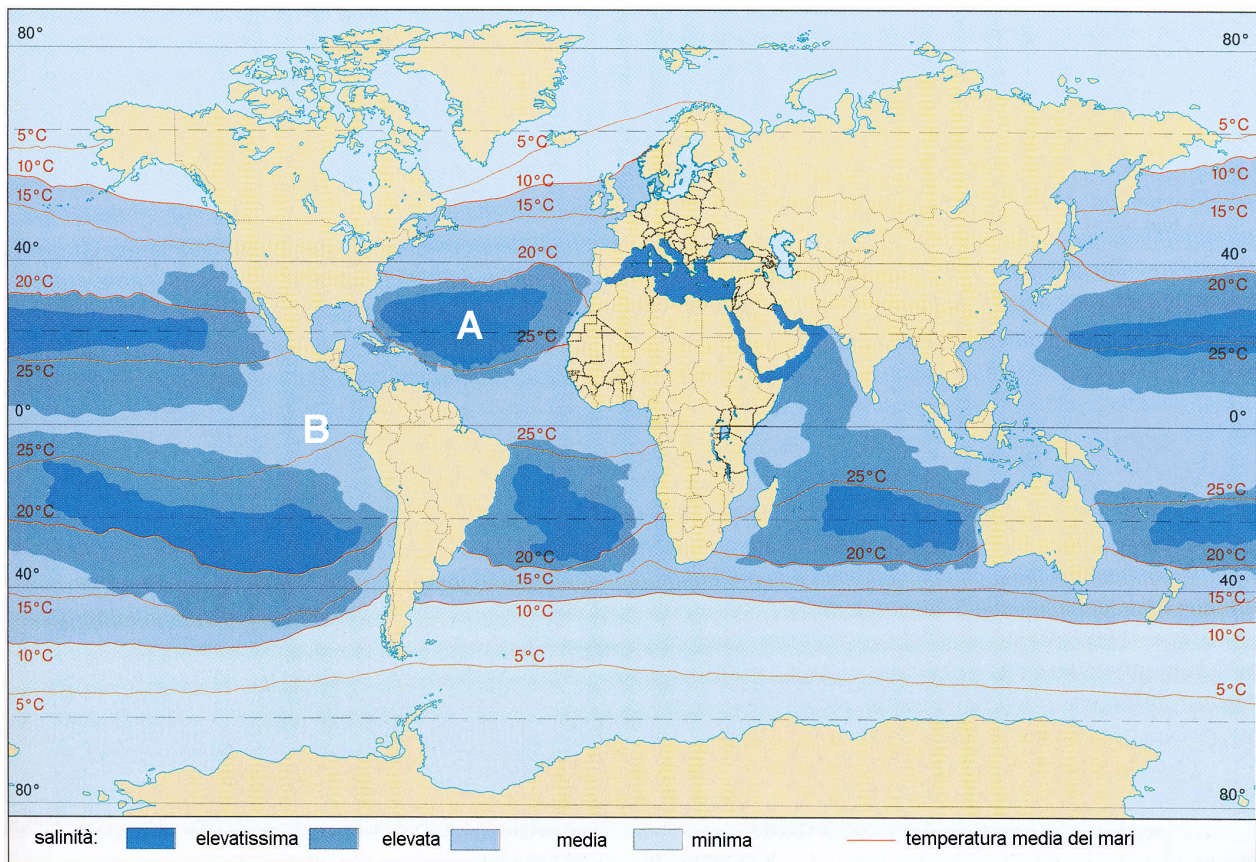


Figura 2

(Fonte: Cunder, K., e altri, 2001: Obča geografija za 1. letnik gimnazij, p. 99. Mladinska knjiga. Ljubljana)

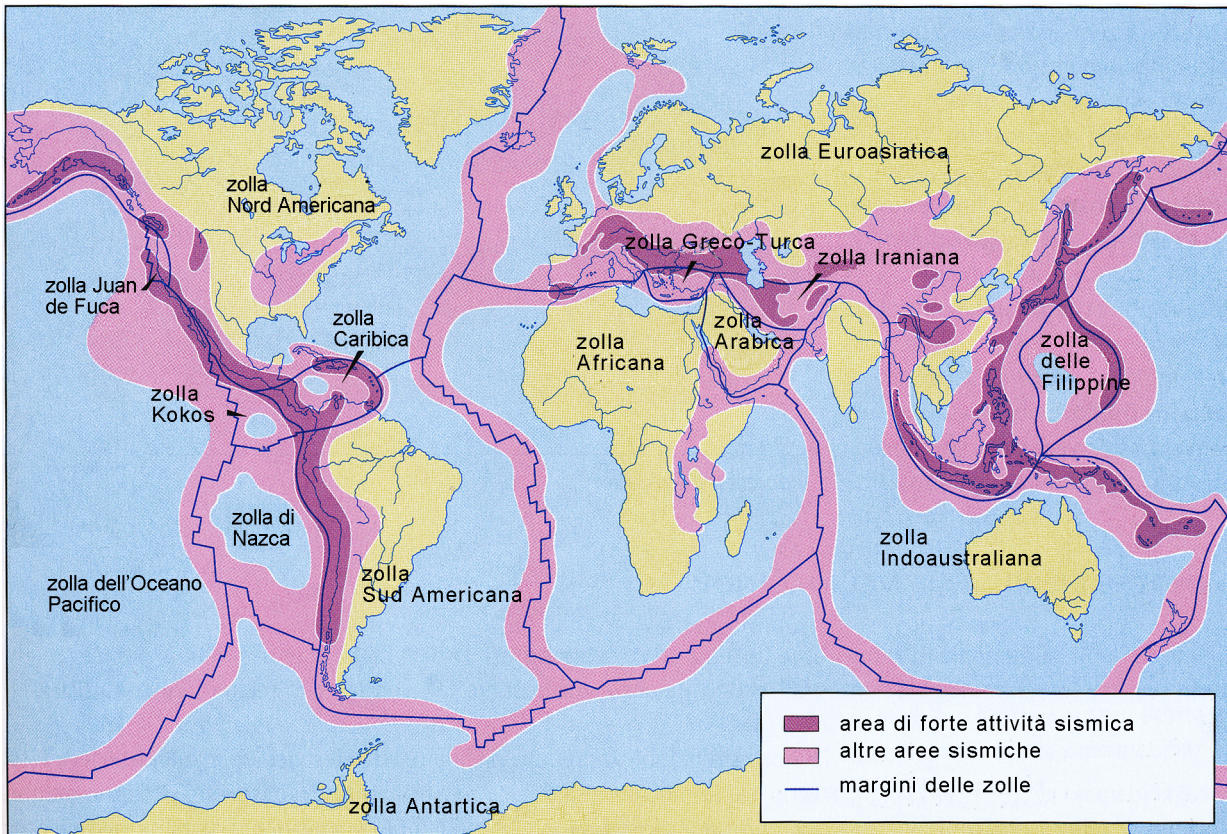


Figura 3

(Fonte: Senegačnik, J., e altri, 2009: Obča geografija za 1. letnik gimnazij, p. 25. Modrijan. Ljubljana)

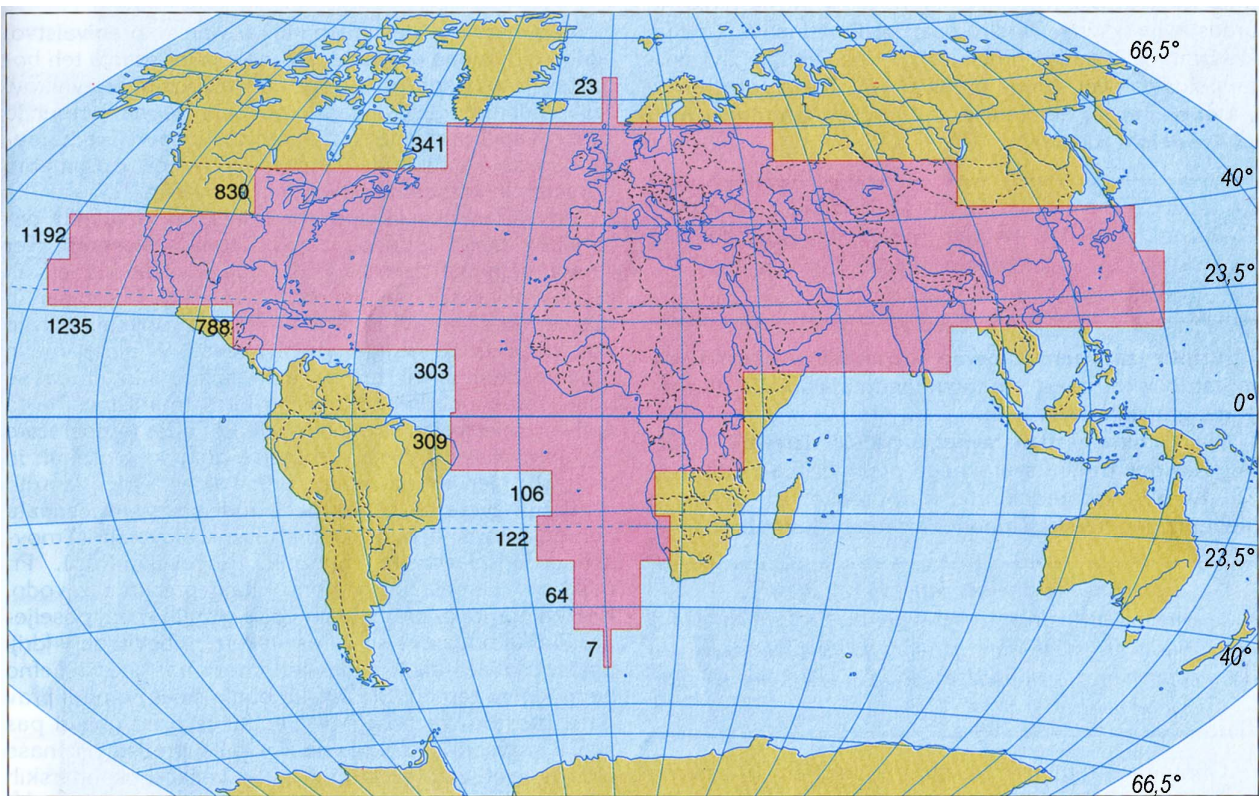


Figura 4: Numero di abitanti (in milioni) in rapporto alla latitudine (1990)

(Adattato da: Kunaver, J., e altri, 1997: Geografija za srednje šole, p. 151. DZS. Ljubljana)



Figura 5

(Fonte: http://quezi.com/wp-content/uploads/2009/02/a_cree_woman.jpg. Consultato il: 2. 2. 2011.)



Figura 6: Crescita della popolazione tra gli anni 2000 e 2010 (in % per singoli stati federali)

(Fonte: Collins Student World Atlas, p. 66. Harper Collins Publishers. London, 2009)



Figura 7

(Fonte: <http://www.google.si/imgres?imgurl=http://www.kazakhstanbirdtours.com/images/steppe%2520grassland.jpg>. Consultato il: 10. 3. 2011.)



Figura 8

(Fonte: <http://www.modrijan.si/slv/content/download/4210/53665/version/1/file/Makija.jpg>. Consultato il: 10. 3. 2011.)

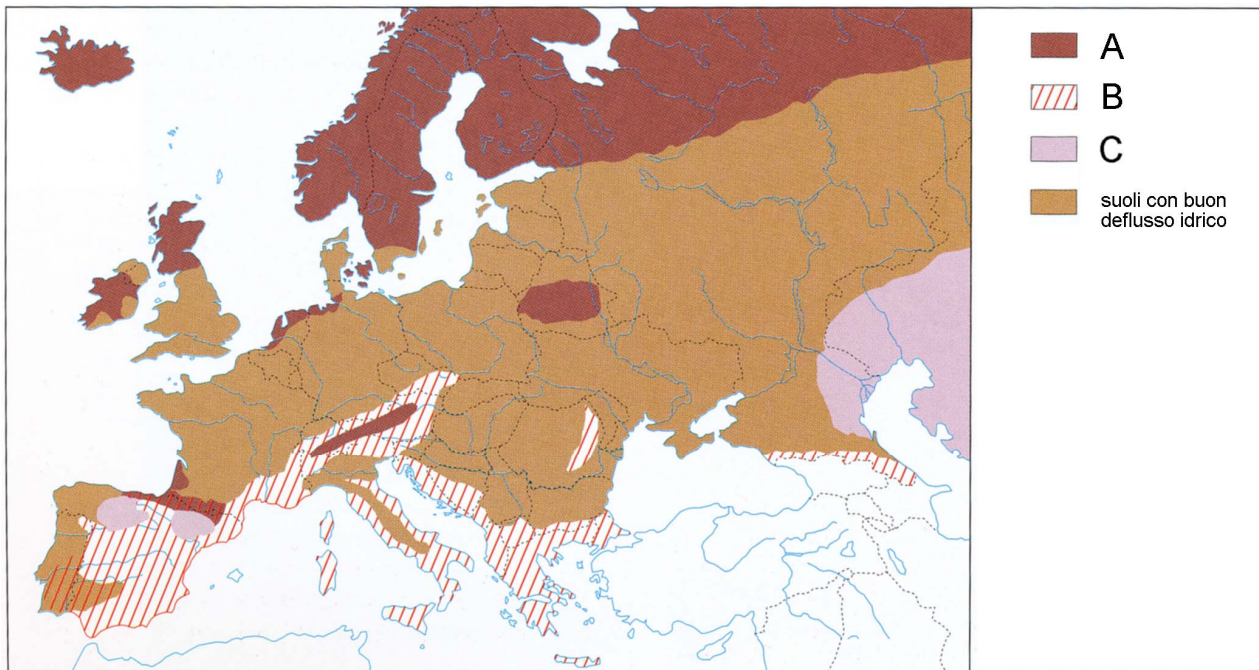


Figura 9

(Fonte: Bola Zupančič, K., e altri, 2002: Geografske značilnosti Evrope za 2. in 3. letnik gimnazij, p. 54. Mladinska knjiga. Ljubljana)



Figura 10

(Fonte: Bola Zupančič, K., e altri, 2002: Geografske značilnosti Evrope za 2. in 3. letnik gimnazij, p. 56. Mladinska knjiga. Ljubljana)