



Codice del candidato:

Državni izpitni center



M 1 6 2 5 0 1 2 1 I

SESSIONE AUTUNNALE

GEOGRAFIA

≡ Prova d'esame 1 ≡

Geografia generale – Regioni selezionate

Lunedì, 29 agosto 2016 / 90 minuti

Materiali e sussidi consentiti:

Al candidato è consentito l'uso della penna stilografica o della penna a sfera.

Al candidato viene consegnata una scheda di valutazione.

La prova d'esame comprende un allegato a colori.

MATURITÀ GENERALE

INDICAZIONI PER I CANDIDATI

Leggete con attenzione le seguenti indicazioni.

Non aprite la prova d'esame e non iniziate a svolgerla prima del via dell'insegnante preposto.

Incollate o scrivete il vostro numero di codice negli spazi appositi su questa pagina in alto a destra e sulla scheda di valutazione.

La prova d'esame si compone di 25 quesiti, risolvendo correttamente i quali potete conseguire fino a un massimo di 50 punti. Il punteggio conseguibile in ciascun quesito viene di volta in volta espressamente indicato.

Scrivete le vostre risposte negli spazi appositamente previsti **all'interno della prova** utilizzando la penna stilografica o la penna a sfera. Formulate delle frasi complete e leggibili: in caso di errore, tracciate un segno sulla risposta scorretta e scrivete accanto a essa quella corretta. Alle risposte e alle correzioni scritte in modo illeggibile verranno assegnati 0 punti.

Abbiate fiducia in voi stessi e nelle vostre capacità. Vi auguriamo buon lavoro.

La prova si compone di 12 pagine (1-12), di cui 2 vuote. L'allegato a colori si compone di 4 pagine (13-16).

Non scrivete nel campo grigio.



Pagina vuota

VOLTATE IL FOGLIO.




Geografia generale

1. Risolvete il cruciverba con l'aiuto della figura 1 nell'allegato a colori.

Orizzontali: 1. Mare che bagna le coste orientali della Grecia, contrassegnato dalla lettera A.

2. Canale che separa la Gran Bretagna dalla parte continentale dell'Europa, contrassegnato dalla lettera B.

Verticale: 1. Golfo contrassegnato dalla lettera C.



(2 punti)

2. Descrivete due dei motivi della superiore salinità, nei confronti del Mar Nero, della zona centrale dell'oceano Atlantico che nella figura 1 dell'allegato a colori è contrassegnata dalla lettera D.

1 _____

2 _____

(2 punti)



3. Con l'aiuto della figura 1, indicate il tipo di costa alla foce del fiume Tamigi. Indicate il motivo per cui, in occasione di forti precipitazioni, l'alto livello delle acque di questo fiume provocava spesso alluvionamenti a Londra.



Figura 1

(Adattato da: <http://im.ft-static.com/content/images/df22cefe-52ae-11e2-aff0-00144feab49a.img?width=327&height=219&title=&desc=uk%20airports>. Consultato il 14. 3. 2014.)

Tipo di costa: _____

Motivo: _____
(2 punti)

4. Accanto alle affermazioni presenti nella tabella, segnate la lettera Z se si riferiscono alla corrente del Golfo, la lettera B se si riferiscono alla corrente del Benguela, la lettera O se si riferiscono a tutte e due le correnti marine.

Sposta l'acqua dalle alte alle basse latitudini.	
La corrente marina è direzionata dai venti occidentali.	
Scorre nell'oceano Atlantico.	
Durante il suo percorso si riscalda.	

(2 punti)

5. Spiegate l'influsso della corrente delle Canarie sulle caratteristiche delle precipitazioni della fascia costiera.

(2 punti)



Il mondo 1

6. Cerchiate la lettera che precede l'affermazione errata sul clima monsonico in Asia.
- A I venti monsonici sono la conseguenza del differente riscaldamento del mare e della terraferma.
 - B Le precipitazioni monsoniche raggiungono anche il Sud-est della Cina.
 - C La maggior parte delle precipitazioni si ha durante il monsone umido invernale.

(1 punto)

7. Nella figura 2 le lettere da A fino a E contrassegnano cinque zone del mondo. Indicate quali di esse indicano le due zone con la minore quantità di precipitazioni e, conseguentemente, con la vegetazione spontanea più modesta.

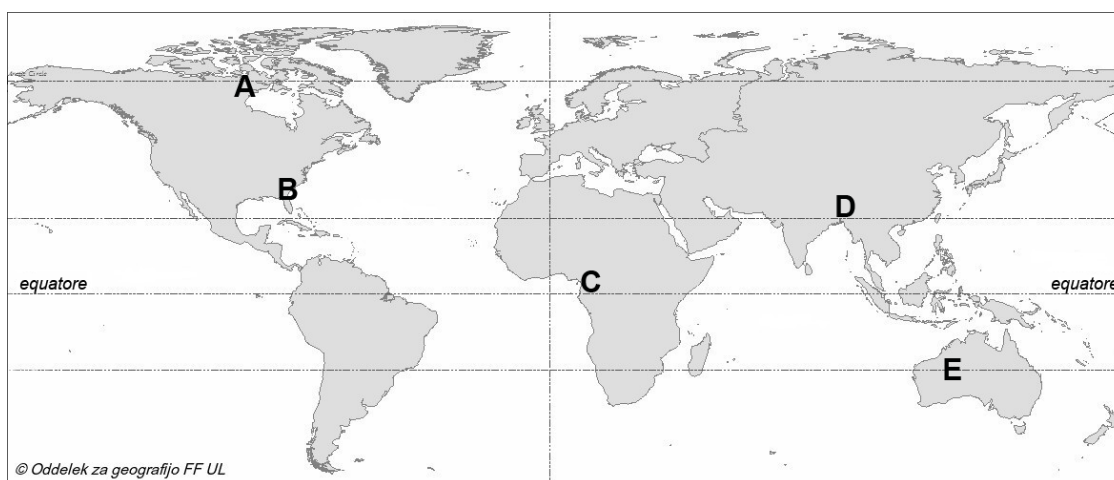


Figura 2

Zona 1: _____

Zona 2: _____

(2 punti)

8. Indicate il tipo di vegetazione della regione rappresentata nella figura 2 dell'allegato a colori, e segnate la lettera corrispondente al diagramma climatico che, nella sottostante figura 3, ne rappresenta le caratteristiche climatiche.

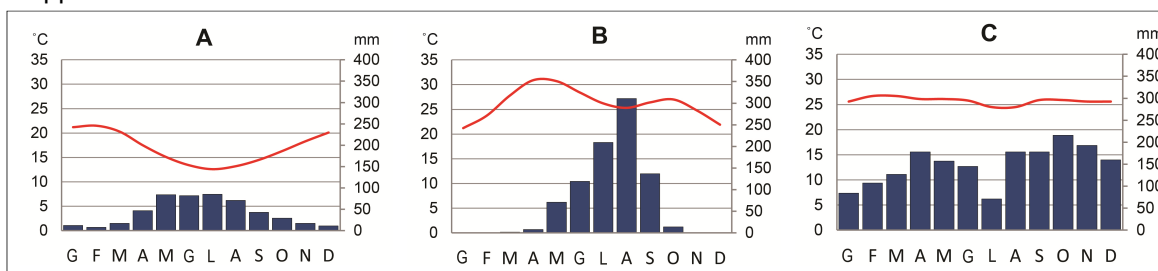


Figura 3

(Adattato da: Vintar Mally, K., 2012: Geografija Podсахarske Afrike, p. 38. Znanstvena založba Filozofske fakultete, Lubiana)

Tipo di vegetazione: _____

Lettera del diagramma climatico: _____

(2 punti)



9. Indicate il tipo di clima nel quale in America del Nord, a ovest del meridiano 100, si ha la steppa-prateria a erbe basse. Descrivete la caratteristica in virtù della quale il tipo di suolo prevalente di questa zona si differenzia da quello delle zone della steppa-prateria a erbe alte.

Tipo di clima: _____

Descrizione: _____

_____ (2 punti)

10. La figura 3 nell'allegato a colori rappresenta le cause della riduzione della foresta tropicale pluviale nella pianura brasiliana dell'Amazzonia. Indicate la causa rappresentata nella sezione A del grafico.
Con la descrizione della causa geografico-naturale e delle relative conseguenze, spiegate perché gran parte delle ex aree forestali non sono più utilizzate dall'agricoltura.

Causa: _____

Spiegazione: _____

_____ (3 punti)



Il mondo 2

11. Completate le frasi in modo adeguato.

Le conseguenze delle conquiste coloniali appaiono anche nelle lingue parlate. Gran parte degli abitanti dell'America latina perciò parla la lingua _____. Nello stato sudamericano più esteso invece prevale la lingua _____.

(2 punti)

12. Descrivete due cause geografico-antropiche per i maggiori introiti ottenuti dagli stati che possedevano colonie.

1 _____

2 _____

(2 punti)

13. La figura 4 rappresenta i contorni dei continenti. Segnate la lettera del contorno che rappresenta il continente in cui un solo stato vi possedeva colonie, e quello in cui vi era il numero più alto di stati possessori di colonie.



Figura 4

(Adattato da: http://www.wpclipart.com/geography/continents/large_blanks/. Consultato il 13. 3. 2014.)

Lettera del continente con un colonizzatore: _____

Lettera del continente con il numero più alto di colonizzatori: _____

(2 punti)

14. Cerchiate le lettere che precedono le due affermazioni che descrivono nel modo più corretto le conseguenze del neocolonialismo nelle ex colonie.

- A Gli stati sono ancora molto dipendenti dall'agricoltura di piantagione e dall'estrazione mineraria.
- B Gli ex stati madre, per rafforzare la propria influenza economica, si adoperano al mantenimento della stabilità politica delle rispettive ex colonie.
- C A causa dell'intromissione degli stati più sviluppati, l'industria si sviluppa rapidamente.
- D Lo sviluppo economico è spesso disturbato dal sorgere di contrasti interetnici.

(2 punti)



15. In alcuni casi i colonizzatori hanno favorito anche sviluppi positivi negli stati colonizzati; è aumentato il reddito, sono stati creati nuovi posti di lavoro. Spiegate ancora due conseguenze positive del colonialismo negli stati africani e latinoamericani.

1 _____

2 _____

(2 punti)



Europa 1

16. Tra gli stati elencati, cerchiare quello che giace interamente sullo scudo baltico.

Lituania Norvegia Finlandia Danimarca

(1 punto)

17. Aiutatevi con la figura 4 dell'allegato a colori che rappresenta l'estensione della glaciazione pleistocenica dell'ultimo periodo glaciale. Innanzi alle affermazioni segnate SÌ se l'affermazione è esatta, NO se errata.

_____ Nel Pleistocene la glaciazione continentale ha inglobato le Alpi.

_____ A Sud delle aree glacializzate, durante la glaciazione si è formato un sedimento di origine eolica.

(2 punti)

18. La figura 5 dell'allegato a colori rappresenta le aree delle acque geotermali in una delle regioni dell'Europa centrale. Indicate il nome di questa regione e indicate il processo per mezzo del quale questa regione si è formata.

Regione: _____

Processo: _____

(2 punti)

19. Indicate il nome della penisola dell'Europa meridionale intorno alla quale vi è la maggiore presenza di vulcani attivi, e descrivete la causa dell'attività vulcanica.

Penisola: _____

Descrizione: _____

(2 punti)

20. La figura 6 dell'allegato a colori rappresenta i rami agricoli della Gran Bretagna. Indicate il ramo agricolo che nella legenda è contrassegnato dalla lettera D. Spiegate inoltre l'influsso che il rilievo ha su questo ramo dell'agricoltura.

Ramo agricolo: _____

Spiegazione: _____

(3 punti)

**Europa 2**

21. Tra le descrizioni, cerchiatene due che caratterizzano l'industria britannica.

Fascia del sole	industria ad alta tecnologia	industrializzazione precoce
Silicon valley	maggiore esportatrice di legname	non importa materie prime

(2 punti)

22. Cerchiate SÌ, se l'affermazione è esatta, NO se errata.

SÌ NO La Francia produce la maggior parte dell'elettricità nelle centrali nucleari.

SÌ NO La pioggia acida nella penisola scandinava è per gran parte conseguenza dell'industria svedese.

(2 punti)

23. La figura 7 dell'allegato a colori rappresenta una via della città polacca di Katowice, che giace in una delle regioni industriali più vecchie d'Europa. Indicate il nome della regione in cui si trova la città e indicate l'attività che, assieme all'industria, ha annerito gli edifici.

Regione: _____

Attività: _____

(2 punti)

24. La figura 8 dell'allegato a colori rappresenta un impianto industriale in disuso in Russia. Descrivete tre motivi che hanno portato al fallimento dell'impianto industriale.

1 _____

2 _____

3 _____

(2 punti)

25. Con l'aiuto della figura 9 dell'allegato a colori, spiegate un cambiamento avvenuto nell'industria finlandese della lavorazione del legno alla fine del XX secolo.

(2 punti)



Pagina vuota



M 1 6 2 5 0 1 2 1 1 3

Allegato a colori (alla Prova d'esame 1)

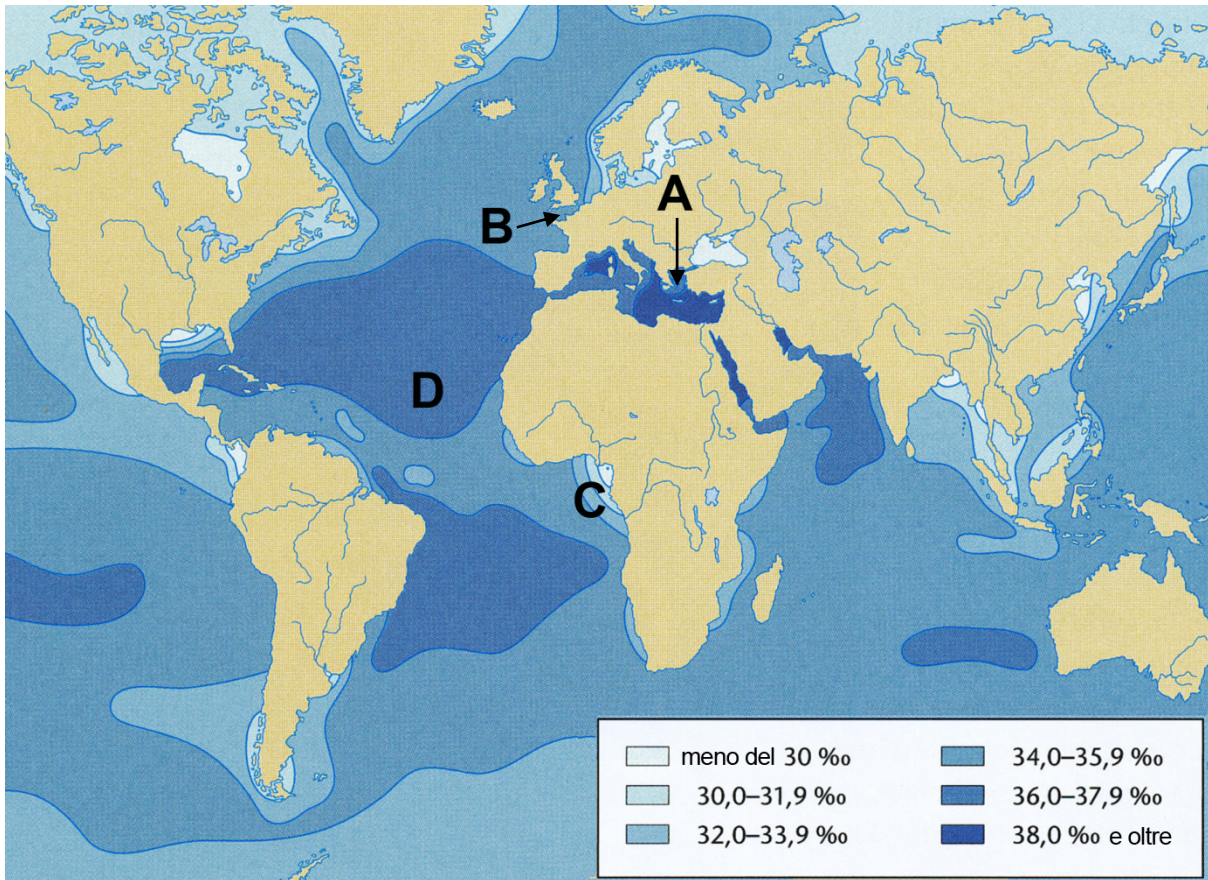


Figura 1: Salinità media della superficie delle acque marine mondiali

(Adattato da: Senegačnik, J., et al., 2009: Obča geografija za 1. letnik gimnazij, p. 123. Modrijan. Lubiana)



Figura 2

(Fonte: K. Vintar Mally)




Figura 3: Cause della riduzione della foresta tropicale pluviale nella pianura brasiliana dell'Amazzonia (Adattato da: <http://www.mongabay.com/brazil.html>. Consultato l'8. 3. 2014.)



Figura 4

(Adattato da: Atlas sveta za osnovne in srednje šole, p. 29. Mladinska knjiga. Lubiana, 2010)



M 1 6 2 5 0 1 2 1 1 5

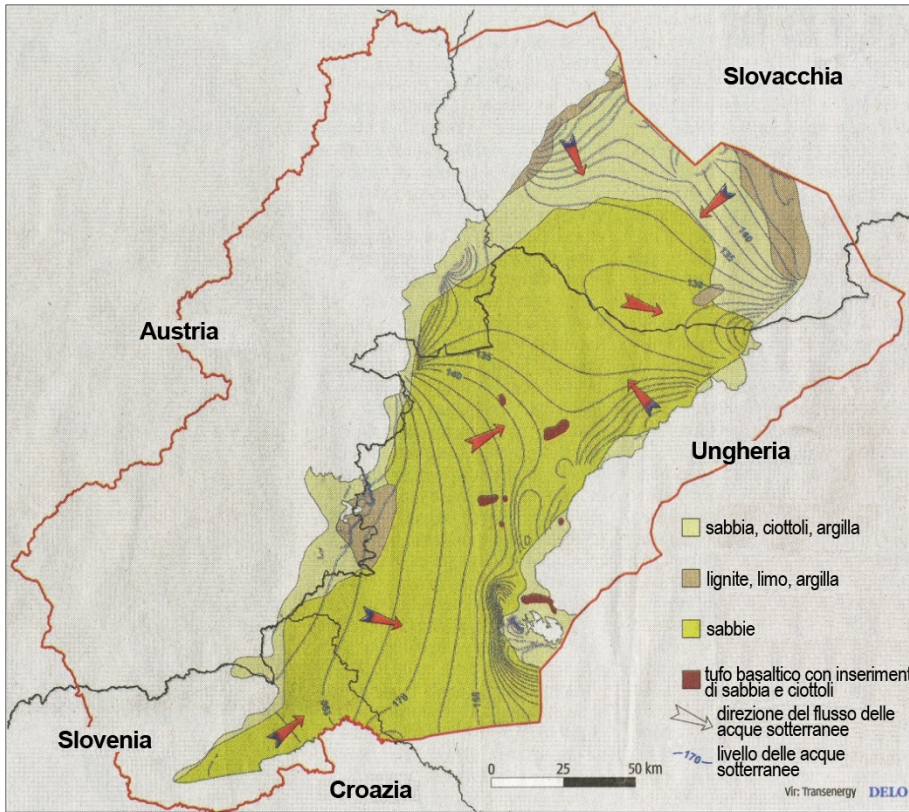


Figura 5: Principali strati geotermali sabbiosi

(Adattato dal quotidiano Delo, p. 15, 27. 3. 2014, Lubiana)

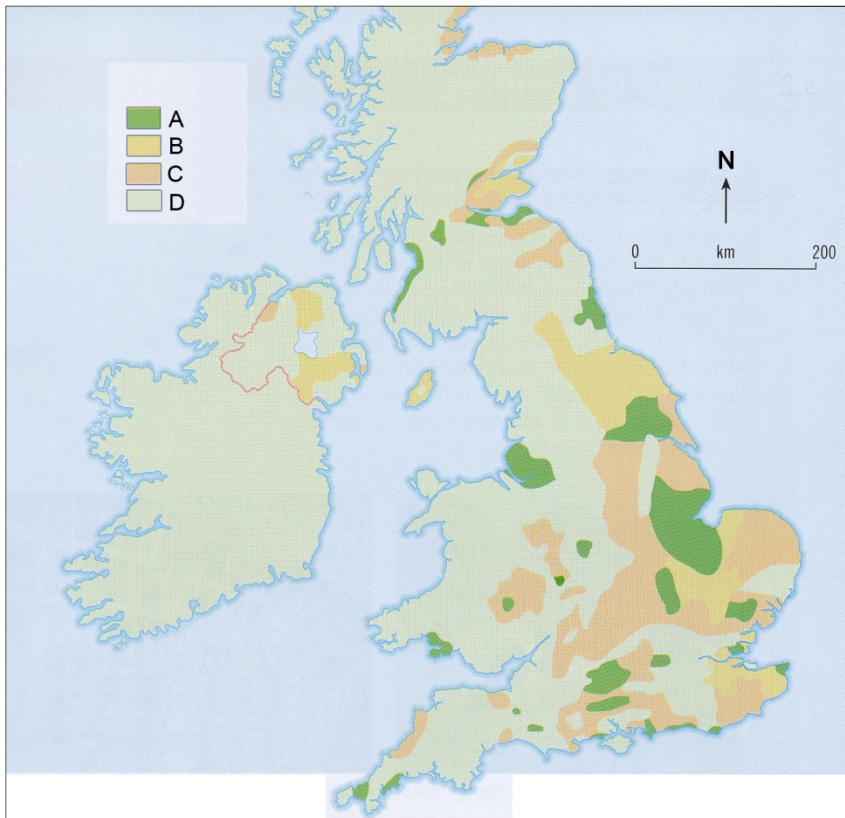


Figura 6

(Adattato da: Chapman, S., et al., 1998: Complete Geography, p. 67. Oxford University Press. Oxford)



Figura 7

(Fonte: <http://www.panoramio.com/photo/26382795>. Consultato il 3. 5. 2014.)



Figura 8

(Fonte: Senegačnik, J., et al., 2006: Evropa. Geografija za 2. in 3. letnik gimnazij, p. 48. Modrijan. Lubiana)

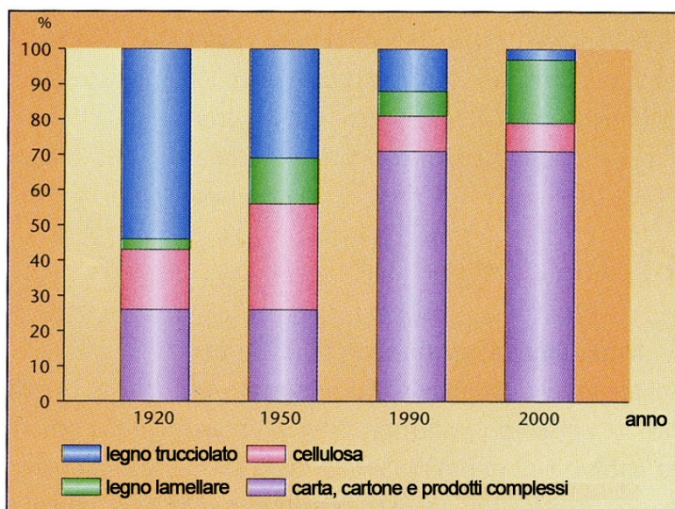


Figura 9: Trasformazione della struttura dell'esportazione dell'industria della lavorazione del legno finlandese nel periodo 1920–2000

(Adattato da: Senegačnik, J., et al., 2006: Evropa. Geografija za 2. in 3. letnik gimnazij, p. 102. Modrijan. Lubiana)