



Codice del candidato:

Državni izpitni center



SESSIONE PRIMAVERILE

GEOGRAFIA

≡ Prova d'esame 1 ≡

Geografia generale - Regioni selezionate

Lunedì, 2 giugno 2008 / 100 minuti

Al candidato è consentito l'uso della penna stilografica o della penna a sfera.

Al candidato vengono consegnate due schede di valutazione.

La prova d'esame comprende un allegato a colori.

MATURITÀ GENERALE

INDICAZIONI PER I CANDIDATI

Leggete con attenzione le seguenti indicazioni.

Non aprite la prova d'esame e non iniziate a svolgerla prima del via dell'insegnante preposto.

Incollate o scrivete il vostro numero di codice negli spazi appositi su questa pagina in alto a destra e sulle due schede di valutazione.

La prova d'esame si compone di 31 quesiti, risolvendo correttamente i quali potete conseguire fino a un massimo di 60 punti. Il punteggio conseguibile in ciascun quesito viene di volta in volta espressamente indicato.

Scrivete le vostre risposte negli spazi appositamente previsti **all'interno della prova** utilizzando la penna stilografica o la penna a sfera. Formulate delle frasi complete e leggibili: in caso di errore, tracciate un segno sulla risposta scorretta e scrivete accanto ad essa quella corretta. Alle risposte e alle correzioni scritte in modo illeggibile verrà assegnato il punteggio di zero (0).

Abbiate fiducia in voi stessi e nelle vostre capacità. Vi auguriamo buon lavoro.

La prova si compone di 20 pagine, di cui 2 bianche. L'allegato a colori ha 4 pagine.

Pagina bianca

VOLTATE IL FOGLIO.

A1 – GEOGRAFIA GENERALE

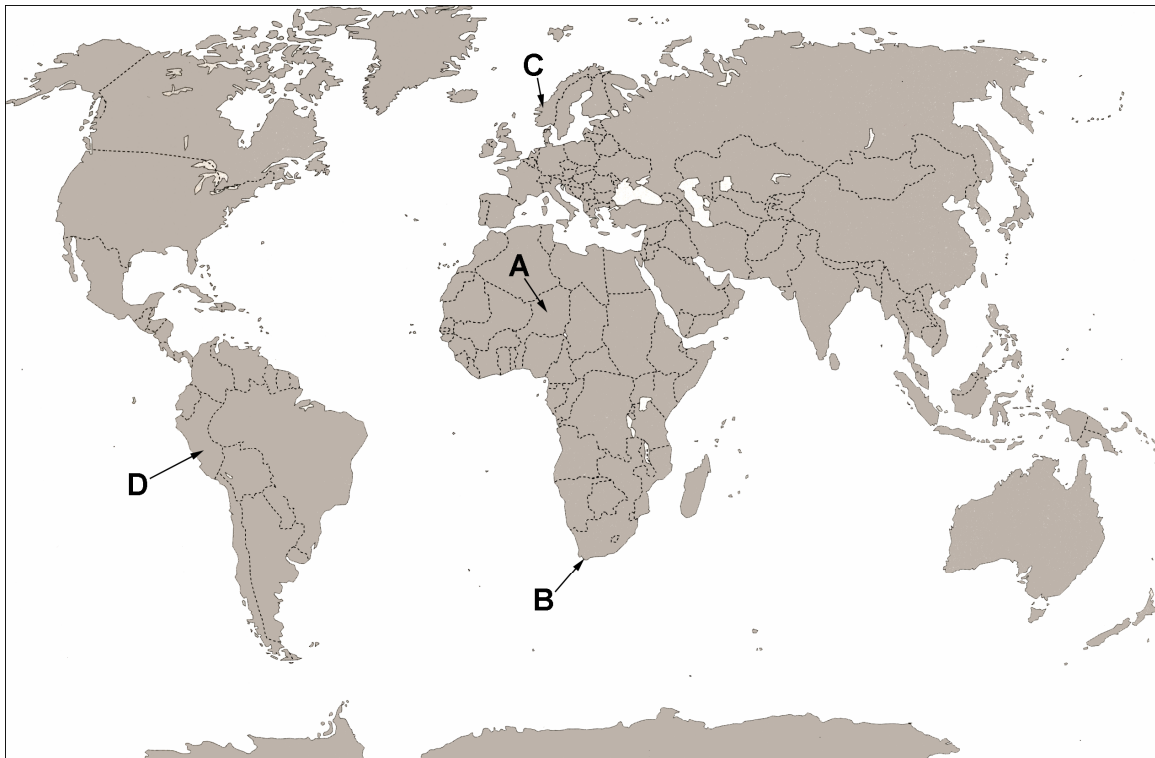
1. Segnate, nell'apposito spazio che precede **le morfologie** riportate nella colonna di sinistra, la **lettera** che rappresenta il corrispondente **processo modellatore esogeno** riportato nella colonna di destra.

_____	morena	
_____	forra	A accumulazione
_____	falesia	
_____	duna	B erosione
_____	stalattite	

(2 punti)

2. **Gli allegati 1, 2, 3 e 4 (Allegato alla Prova d'esame 1)** rappresentano **caratteristiche del rilievo** di aree che nella **cartina n.1** sono contrassegnate dalle lettere **A, B, C e D**. Sotto la cartina, segnate accanto alle lettere il numero del corrispondente allegato.

Cartina n.1



(Fonte: Kunaver, J., in drugi, 1996: *Obča geografija, delovni zvezek*, p. 68. DZS. Ljubljana)

A _____

C _____

B _____

D _____

(2 punti)

3. Indicate il nome del **tipo di morfologia del rilievo** rappresentato negli **allegati 3 e 4 (Allegato alla Prova d'esame 1)**.

Allegato 3: _____

Allegato 4: _____

(2 punti)

4. Indicate il nome della **morfologia** rappresentata nell'**allegato 4 (Allegato alla Prova d'esame 1)** e descrivetene il processo di **formazione**.

Morfologia: _____

Descrizione: _____

_____ (2 punti)

5. I territori modellati dall'azione **glaciale montana** non sono idonei all'insediamento antropico, anche se d'altro canto possono presentare numerosi vantaggi. Indicate **due impedimenti** rispetto all'insediamento e **due vantaggi** legati allo sviluppo economico di questo tipo di territori.

Impedimenti:

1 _____

2 _____

Vantaggi per lo sviluppo economico:

1 _____

2 _____

_____ (2 punti)

A2 – GEOGRAFIA GENERALE

6. Spiegate la seguente affermazione: »Il grado di urbanizzazione dell' Australia è dell' 85 %«.

(1 punto)

7. Elencate tre **differenze** fra le **città** ed i centri abitati della **periferia**.

1 _____

2 _____

3 _____

(2 punti)

8. Indicate il nome della **città**, tra le più grandi al mondo, contrassegnata nell'**allegato 5 (Allegato alla Prova d'esame 1)** dalla lettera **A**; indicate inoltre in quale **continente** ed in quale **fascia termica planetaria** si riscontra il **maggior numero di grandi città**.

Città: _____ Continente: _____

Fascia termica: _____

(2 punti)

9. Spiegate una delle cause per cui **gran parte delle città** si sono sviluppate **lungo la costa**.

(1 punto)

10. Spiegate perchè le città **degli stati meno sviluppati** sono afflitte dalla **carenza di** appartamenti e posti di lavoro, nonché da un **elevato inquinamento** atmosferico.

Causa della carenza di appartamenti e posti di lavoro: _____

Causa dell'inquinamento atmosferico: _____

(2 punti)

11. La Slovenia si colloca tra gli stati con un alto grado di suburbanizzazione. Indicate **due effetti della suburbanizzazione** sui sobborghi di periferia.

1 _____

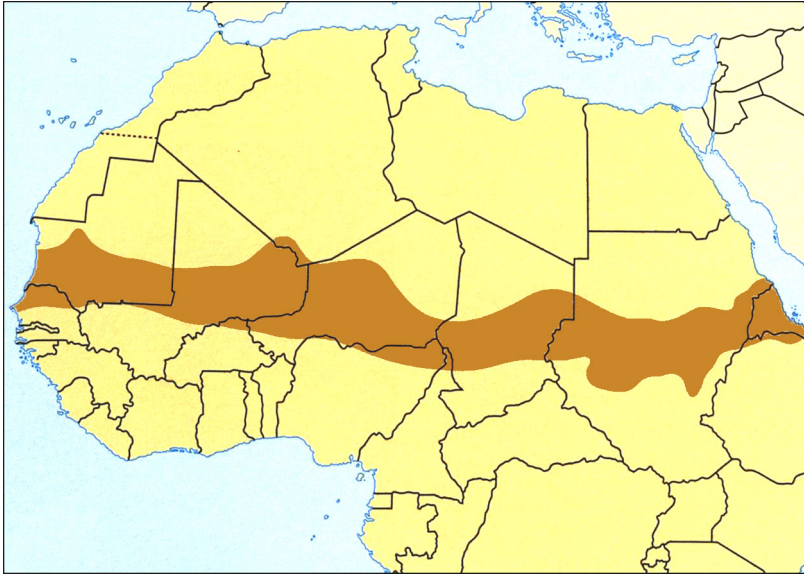
2 _____

(2 punti)

B1 – IL MONDO

12. Indicate il nome della regione evidenziata, nella **cartina n. 2**, dalla tinta più scura.

Cartina n. 2



(Fonte: Senegačnik, J., 2004: Svet, p. 52. Modrijan. Ljubljana)

(1 punto)

13. La siccità che colpisce la regione africana, evidenziata nella **cartina n. 2** dalla tinta più scura, provoca ingenti danni economici. Indicate due delle **cause** che provocano la desertificazione di questa regione.

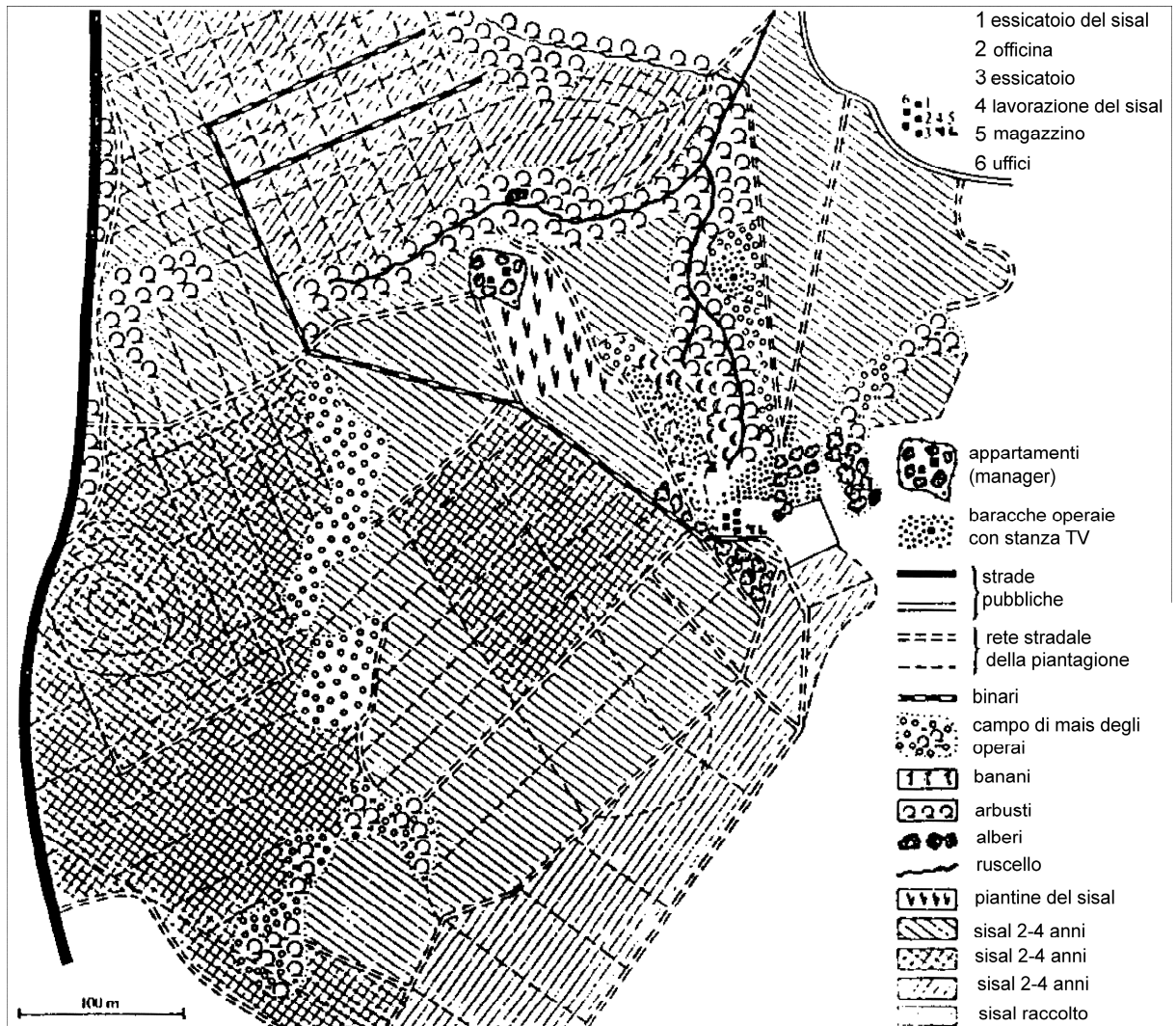
1 _____

2 _____

(1 punto)

14. In **Kenia**, nel possedimento rappresentato dalla **figura n. 1**, viene coltivato il **sisal**. Indicate il tipo di **agricoltura** praticata in questo **possedimento** e spiegate il **motivo** per cui essa si è affermata in alcune **regioni dell'Africa**.

Figura n. 1



(Fonte: Praxis Geographie 11/92)

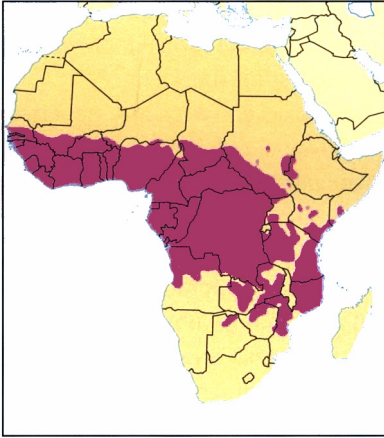
Tipo di agricoltura: _____

Spiegazione: _____

(2 punti)

15. La **cartina n. 3** rappresenta la distribuzione della **malattia del sonno** in Africa. Indicate il nome del **trasmettitore** di questa malattia e spiegare come essa **influisca** sull' **agricoltura** di questa parte dell' Africa.

Cartina n. 3



(Fonte: Senegačnik, J., 2004: Svet, p. 51. Modrijan. Ljubljana)

Trasmettitore: _____

Spiegazione: _____

(2 punti)

16. Gran parte della popolazione africana pratica ancora l' **agricoltura di sussistenza**, comprendente varie forme di attività che dipendono dalle condizioni climatiche. Indicate la forma di attività maggiormente **diffusa nel bacino del Congo** e descrivetela.

Forma di agricoltura di sussistenza: _____

Descrizione: _____

(2 punti)

17. La **coltivazione di una sola** o di un numero limitato di **colture da esportazione** è una caratteristica tipica di alcuni stati africani.
Descrivete **l'effetto** esercitato dall'agricoltura a **monocolture sull'ambiente** di questi stati e spiegate perchè questa forma di agricoltura porti, spesso, al loro **indebitamento**.

Effetto dell' agricoltura a monocolture: _____

Indebitamento: _____

(2 punti)

B2 – IL MONDO

18. Cerchiate la parola **SÌ** se l'affermazione è esatta, e la parola **NO** se essa è errata.

- SÌ NO L' Australia si trova interamente nell'emisfero meridionale.
 SÌ NO L' Australia è situata tra l' Oceano indiano e l' Atlantico.
 SÌ NO L' Australia ha un'estensione minore di quella europea.
 SÌ NO Sydney è la capitale dell' Australia.

(2 punti)

19. Scrivete il nome della tipica **pianta australiana** rappresentata nell' **allegato 6 (Allegato alla Prova d'esame 1)** e indicate la **causa** dei frequenti **incendi** che colpiscono frequentemente i boschi australiani.

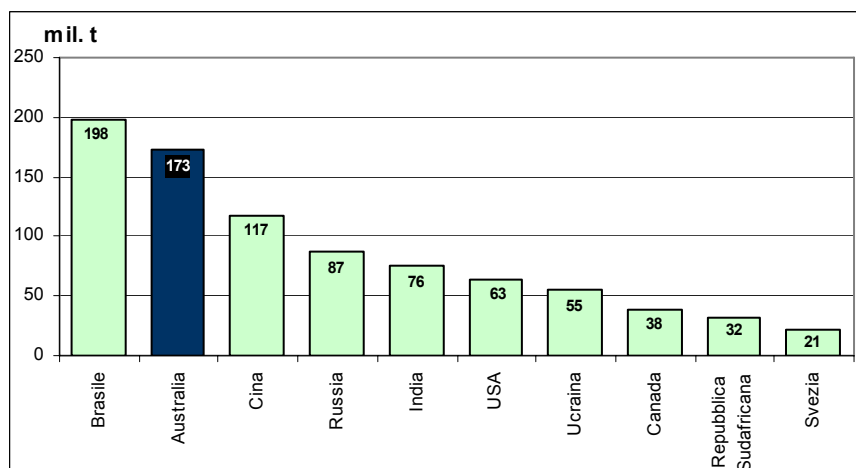
Pianta: _____

Causa degli incendi: _____

(2 punti)

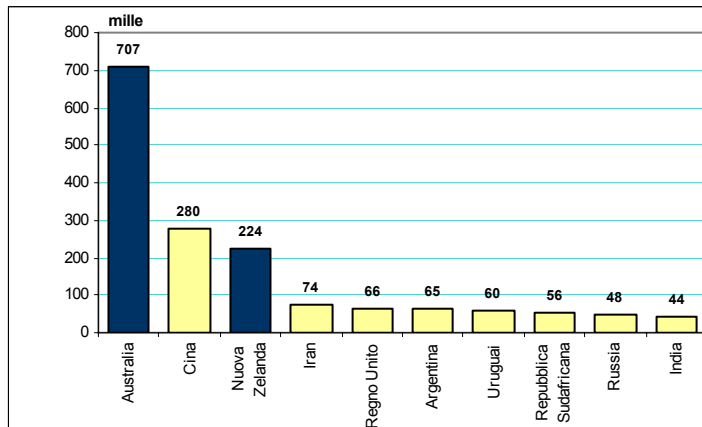
20. I **grafici n. 1, 2, 3 e 4** rappresentano la produzione di **oro, minerali di ferro, bauxite e lana** registrata nel 2000 in alcuni stati. Tra di essi troviamo ai primi posti anche l' Australia. Nell'apposito spazio che trovate sotto a ciascun grafico indicate il tipo di produzione da esso rappresentata.

Grafico n. 1



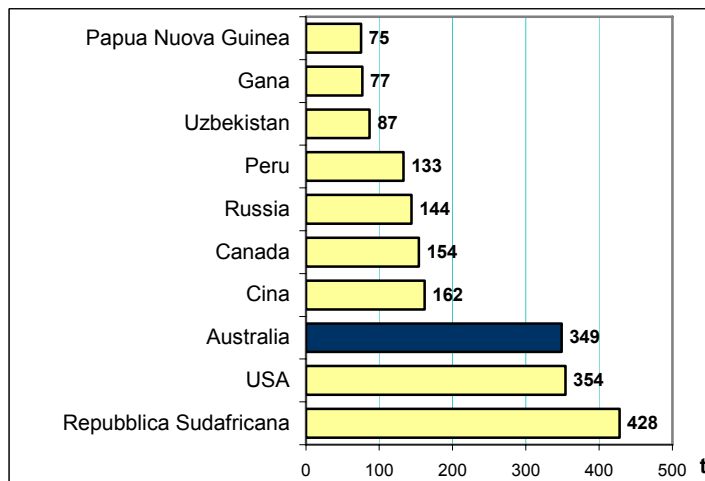
(Fonte: adattato da Šegota, T., Filipčić, A., 2004: *Geografija Australije i Oceanije*, p. 43. Meridijani. Samobor)

Grafico n. 2



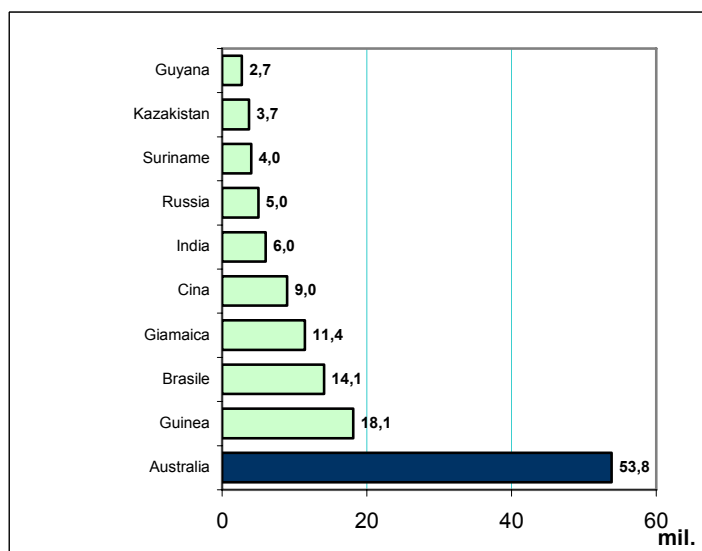
(Fonte: adattato da Šegota, T., Filipčić, A., 2004: Geografija Australije i Oceanije, p. 61. Meridijani. Samobor)

Grafico n. 3



(Fonte: adattato da Šegota, T., Filipčić, A., 2004: Geografija Australije i Oceanije, p. 42. Meridijani. Samobor)

Grafico n. 4



(Fonte: adattato da Šegota, T., Filipčić, A., 2004: Geografija Australije i Oceanije, p. 46. Meridijani. Samobor)

(2 punti)

21. Descrivete due provvedimenti con cui l' Australia, negli ultimi due decenni, ha incentivato lo **sviluppo multiculturale** del proprio stato.

1 _____

2 _____

(2 punti)

22. Indicate una caratteristica comune all' **Australia** e alla **Repubblica Sudafricana** per quanto riguarda rispettivamente la **posizione geografica** e l'**economia**.

Posizione geografica: _____

Economia: _____

(2 punti)

C1 – L' EUROPA

23. I mari di tutto il mondo sono un'importante fonte alimentare per l'umanità. Elencate altre **quattro risorse o attività importanti** per la società e legate allo sfruttamento del mare.

1 _____ 2 _____
3 _____ 4 _____
(2 punti)

24. Cerchiate la parola **SÌ** se l'affermazione è esatta, e la parola **NO** se essa è errata.

Sì NO Nei mari freddi vive un numero minore di specie animali, ma il peso complessivo degli organismi è maggiore rispetto a quello dei mari caldi.

Sì NO Nell'economia norvegese la pesca è importante soprattutto per la conservazione dei posti di lavoro nelle aree meridionali meno sviluppate.

Sì NO L'energia geotermica in Islanda è una conseguenza dell'avvicinamento delle placche litosferiche Nordamericana ed Euroasiatica.

(2 punti)

25. Presentate rispettivamente una spiegazione della maggiore densità di popolamento dell'Islanda **meridionale** e dell'importanza della produzione **energetica** in Norvegia.

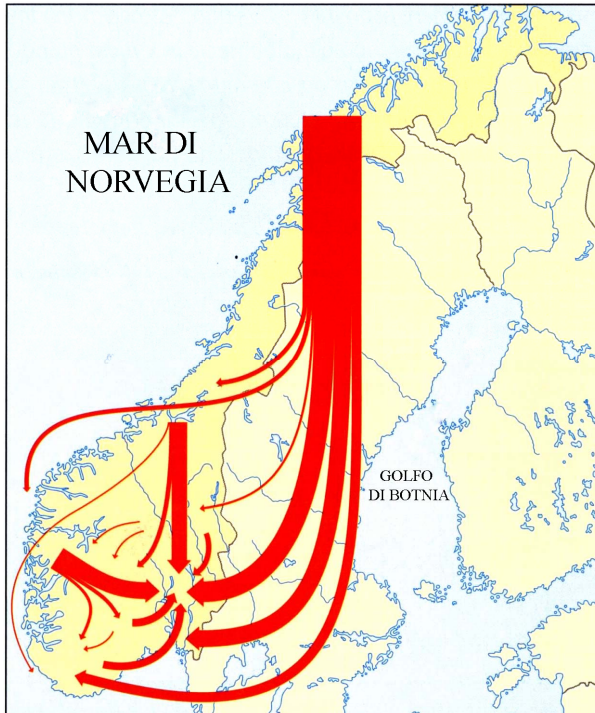
Islanda: _____

Norvegia: _____

(2 punti)

26. La **cartina n. 4** rappresenta le migrazioni della popolazione nel territorio norvegese negli anni 1995–1997. Indicate il nome della città in cui si è riversata la **maggior parte del flusso migratorio** e spiegate uno dei **motivi geografico-antropici** che hanno condizionato tali spostamenti.

Cartina n. 4



(Fonte: Senegačnik, J., in drugi, 2006: Evropa, p. 98. Modrijan. Ljubljana)

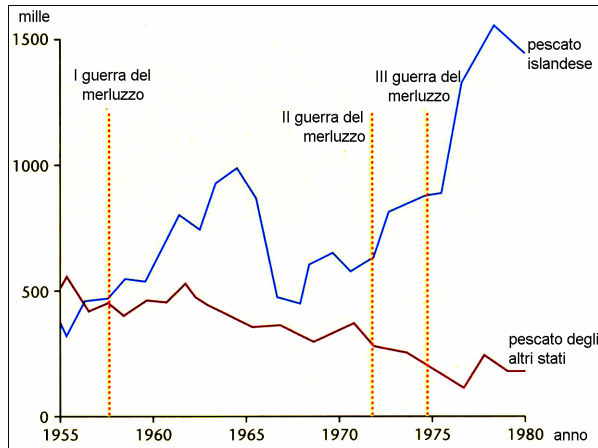
Città: _____

Spiegazione: _____

(2 punti)

27. Il **grafico n. 5** rappresenta la quantità di pescato nell'area di pesca islandese negli anni 1955–1980. Spiegate perchè **dopo la II guerra mondiale** è aumentata la quantità di pescato degli **altri stati** di quest'area. Spiegate anche perchè si è creato un **conflitto** tra l'**Islanda** e gli **altri stati** della regione culminato nelle cosiddette **guerre del merluzzo**.

Grafico n. 5



(Fonte: Senegačnik, J., in drugi, 2006: Evropa, p. 97. Modrijan. Ljubljana)

Aumento del pescato: _____

Guerre del merluzzo: _____

(2 punti)

C2 – L' EUROPA

28. I numeri 1, 2, 3 e 4, sulla **cartina n. 5** contrassegnano alcuni stati dell'Europa sudorientale. Indicate il nome delle loro **capitali**.

Cartina n. 5



(Fonte: Senegačnik, J., in drugi, 2006: *Evropa, delovni zvezek*, p. 150. Modrijan. Ljubljana)

1 _____

2 _____

3 _____

4 _____

(2 punti)

29. Descrivete tre caratteristiche **geografico-antropiche** dell' Europa sudorientale.

1 _____

2 _____

3 _____

(2 punti)

30. Nell' **allegato 7 (Allegato alla Prova d'esame 1)** è rappresentata la **composizione etnica** del **Kosovo** nel 2007 e sono evidenziate le zone operative delle **forze di pace**. Spiegate il motivo della presenza delle forze di pace e indicate due motivazioni del calo della **popolazione serba** in questo territorio.

Motivo della presenza delle forze di pace: _____

Motivazioni del calo di popolazione serba:

1 _____

2 _____

(3 punti)

31. Dopo l'entrata nell' **Unione europea** della **Bulgaria** e della **Romania**, gli investimenti stranieri nel settore turistico dei due paesi sono aumentati. Indicate quale tipo di turismo si sta sviluppando più rapidamente degli altri e descrivete tre trasformazioni del territorio conseguenti a questo tipo di sviluppo.

Tipo di turismo: _____

Trasformazioni:

1 _____

2 _____

3 _____

(3 punti)

Pagina bianca