



Allegato alla Prova d'esame 2 (contiene 5 figure)

A



B



C





D



Figura 1

(Fonte: <http://kolednik.files.wordpress.com/2009/08/ove.jpg>. Consultato il: 1. 3. 2011.)



Quartiere industriale inglese nel 1950 (sopra) e nel 2010 (sotto)

Figura 2

(Fonte: Senegačnik, J., in drugi, 2009: Obča geografija za 1. letnik gimnazij, p. 175. Modrijan. Ljubljana)




Figura 3: Rappresentazione semplificata del territorio dal mare alle alpi durante l'estate nel presente

(Fonte: Ogrin, D., 2010: Podnebje se spreminja. Navodila in pojasnila za uporabo stenskih slik, risba: Sedmak, A., Založba i2, Ljubljana)




Figura 4: Rappresentazione semplificata del territorio dal mare alle alpi durante l'estate alla fine del 12. secolo

(Fonte: Ogrin, D., 2010: Podnebje se spreminja. Navodila in pojasnila za uporabo stenskih slik, risba: Sedmak, A., Založba i2, Ljubljana)

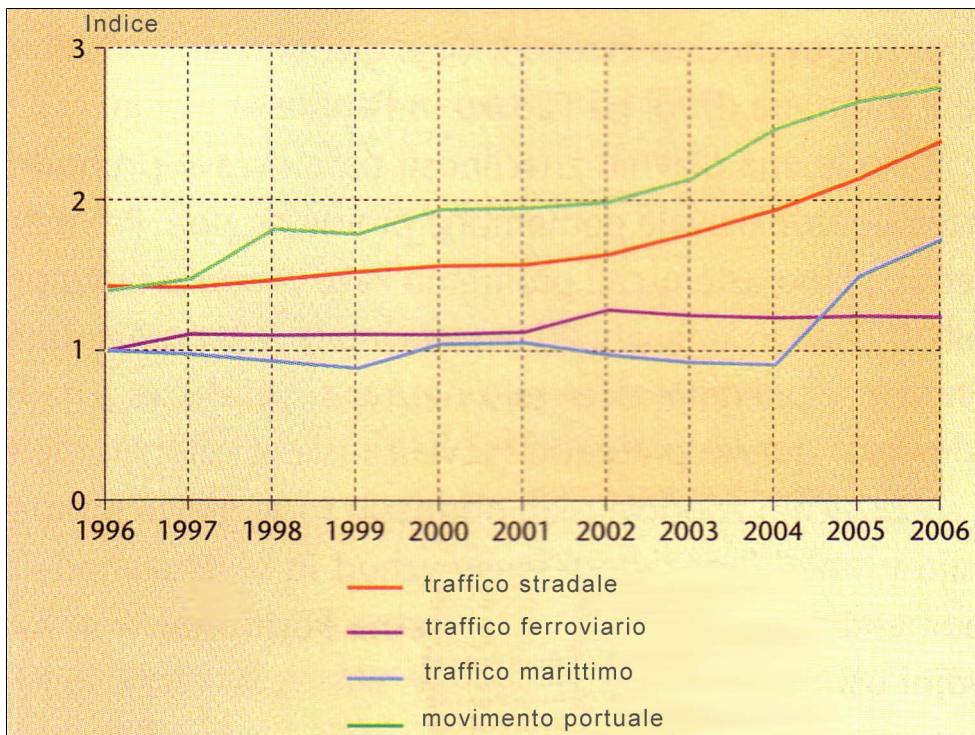


Figura 5: Trasporto e movimento merci nel periodo 1996–2005
(Base di confronto 1992.)

(Fonte: Senegačnik, J., 2008: Slovenija 1, Geografija za 3. letnik gimnazij, p. 100. Modrijan. Ljubljana)

Pagina vuota