



Codice del candidato:

Državni izpitni center



SECONDA SESSIONE D'ESAME

GEOGRAFIA

≡ Prova d'esame 2 ≡

Venerdì, 1 settembre 2006 / 80 minuti

*Al candidato è consentito l'uso della penna stilografica o della penna a sfera.
Al candidato vengono consegnate due schede di valutazione.*

MATURITÀ GENERALE

INDICAZIONI PER I CANDIDATI

Leggete attentamente le seguenti indicazioni. Non tralasciate nulla.

Non voltate pagina e non iniziate a risolvere i quesiti prima del via dell'insegnante preposto.

Incollate o scrivete il vostro numero di codice nello spazio apposito su questa pagina in alto a destra e sulle schede di valutazione.

Rispondete con frasi complete e non con singole parole. Scrivete le risposte negli spazi appositi, usando la penna stilografica o a sfera. Scrivete in modo leggibile. **Le soluzioni degli esercizi della prova d'esame non vanno scritte a matita.**

A lato degli esercizi, a destra, è segnato il punteggio conseguibile.

Riflettete e pianificate bene le vostre risposte. Abbiate fiducia in voi stessi e nelle vostre capacità.

Buon lavoro.

Questa prova d'esame ha 12 pagine, di cui 1 vuota.

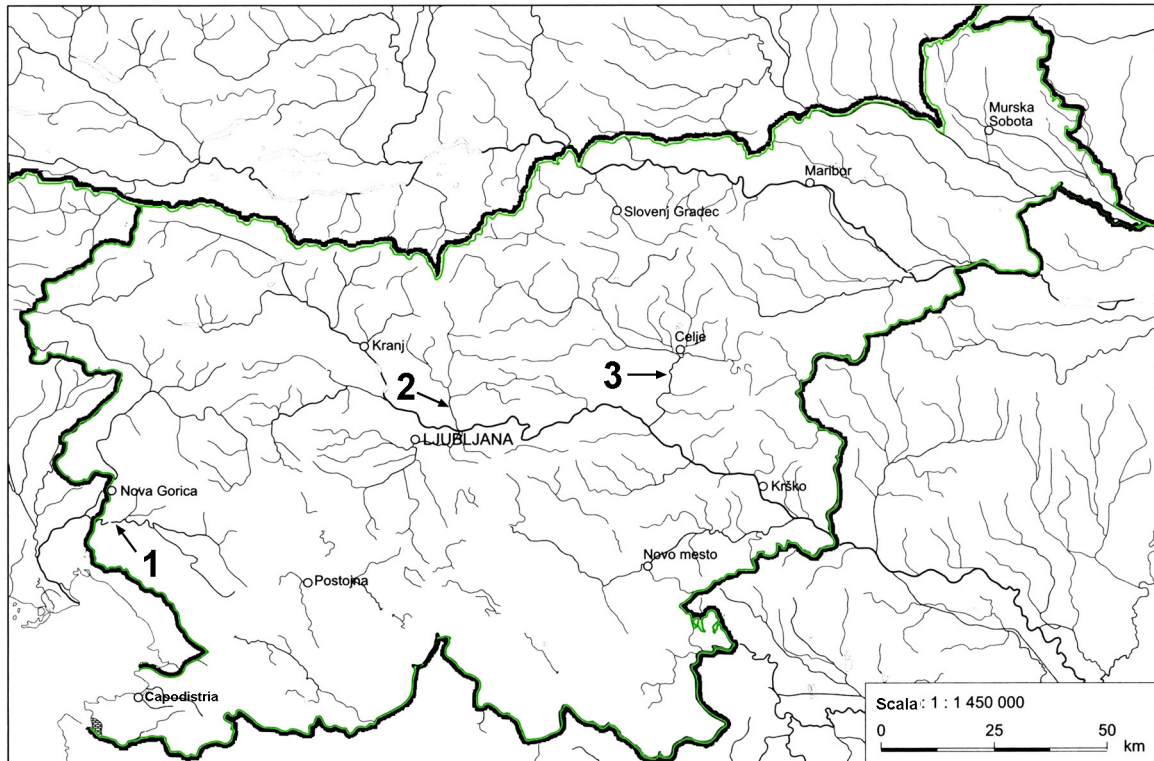
PAGINA VUOTA

Voltate pagina.

D1 – LA SLOVENIA

1. La **cartina n. 1** rappresenta il reticolo idrografico della Slovenia. Sulla cartina tracciate la **linea spartiacque** (sul territorio della Slovenia) tra il bacino idrografico del **Drava** e del **Mura**.

Cartina n. 1



(Fonte: Lipovšek, I., e altri, 2002: *Geografija Slovenije 1. Delovni zvezek*, p. 20. DZS. Ljubljana)

(1 punto)

2. Segnate, accanto ai numeri, i **nomi dei fiumi** contrassegnati sulla **cartina n. 1**.

1 _____

2 _____

3 _____

(2 punti)

3. Spiegate perché il fiume, che sulla **cartina n. 1** è contrassegnato dal **numero 2**, nel suo corso inferiore risulta nella **IV categoria di qualità** delle acque.

(1 punto)

4. Accanto al tipo di acqua sotterranea riportata, indicate il nome della **macroregione** nella quale essa è **maggiormente diffusa**.

Falda acquifera: _____


Sorgenti carsiche: _____

(2 punti)

5. Osservate il livello della falda acquifera (livello piezometrico) nella **figura n. 1** e cerciate la risposta esatta.

La **figura n. 1** rappresenta la **situazione della falda acquifera dopo** un lungo **periodo di siccità**? Motivate la vostra risposta.

Figura n. 1



(Fonte: Senegačnik, J., e altri, 2003: Obča geografija. Delovni zvezek, p. 37. Modrijan. Ljubljana)

SI NO

Spiegazione: _____

(2 punti)

6. La **falda acquifera carsica** è molto più esposta ai pericoli di **inquinamento** rispetto alla falda acquifera normale. Fornite due spiegazioni a tale proposito.

1 _____

2 _____

(2 punti)

D2 – LA SLOVENIA

7. Nel 2003 il tasso di natalità in Slovenia era del 8,7 ‰, mentre il tasso di mortalità era del 9,7 ‰. A quanto ammontava il **tasso di incremento naturale** della popolazione?

Incremento naturale della popolazione: _____ ‰

(1 punto)

8. I **grafici n. 1, 2 e 3** rappresentano le piramidi di età della popolazione slovena negli anni **1931, 1961 e 2001**. Determinate l'**anno** di appartenenza per ciascuna **piramide d'età**.

Grafico n. 1

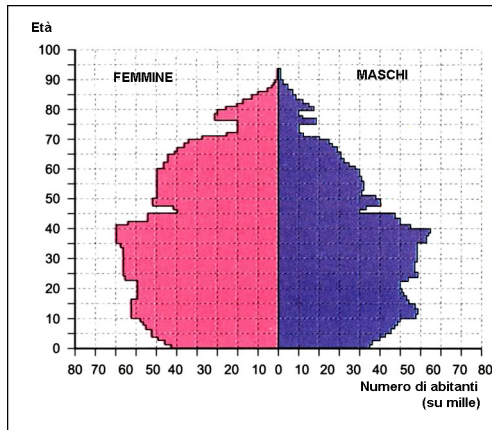


Grafico n. 2

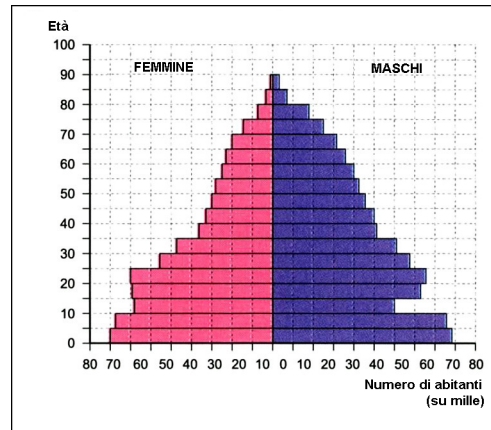
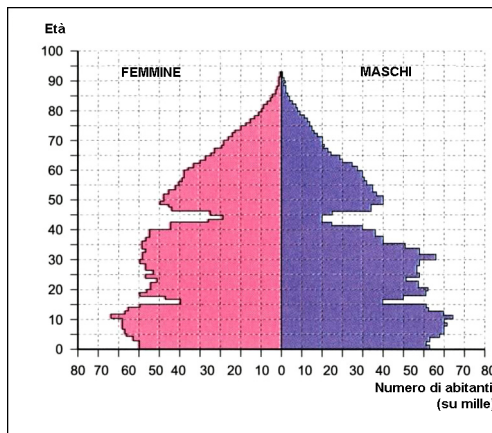


Grafico n. 3



(Fonte: Geografski atlas Slovenije za osnovno in srednje šole, p. 71. Tehniška založba Slovenije. Ljubljana, 2004)

1 _____ 2 _____ 3 _____

(2 punti)

9. Indicate **due provvedimenti** con i quali il governo potrebbe, in futuro, incentivare le **nascite** in Slovenia.

1 _____

2 _____

(2 punti)

10. Nella tabella, accanto alla **descrizione**, inserite il corrispondente **termine**, da scegliere fra quelli sottoelencati.

Profughi	Emigranti	Emigranti temporanei	Immigranti
Descrizione		Termine	
Persone che si sono trasferite in un altro stato.			
Persone temporaneamente all'estero per lavoro.			
Persone che hanno abbandonato la patria d'origine a causa di persecuzioni politiche, religiose, razziali oppure a causa di catastrofi naturali.			
Persone che per vari motivi sono giunti da un'altro stato.			

(2 punti)

11. Dopo il 1960 la Slovenia è diventata meta dell'immigrazione di lavoratori provenienti dalle repubbliche della ex Jugoslavia. Indicate una delle **conseguenze** della loro immigrazione in **Slovenia**.

(1 punto)

12. Dopo la prima guerra mondiale, gli Sloveni sono emigrati prevalentemente negli **USA** ed in **Canada**; dopo la seconda guerra mondiale, invece, essi sono prevalentemente emigrati in **Argentina**. Spiegate i **principali motivi** dell' **emigrazione** per ciascuno dei due periodi.

Dopo la prima guerra mondiale: _____

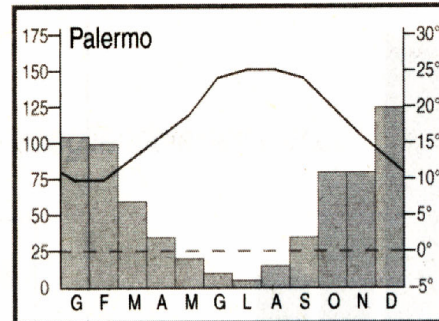
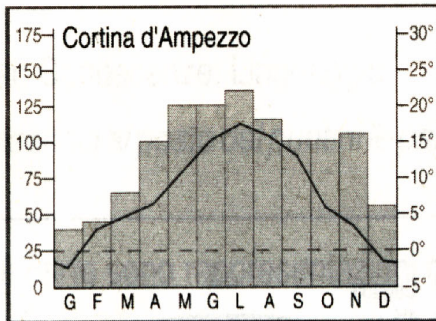
Dopo la seconda guerra mondiale: _____

(2 punti)

E1 – L'ITALIA

13. Osservate i seguenti grafici climatici e completate le frasi.

Grafico n. 4



(Fonte: Bacchi, G, 2000: Attraverso i territori, p. 38, Bulgarini)

A Palermo il mese più piovoso è _____

A Cortina in dicembre e gennaio la temperatura è _____

(1 punto)

14. I due riquadri sottostanti esprimono **due diverse** situazioni meteorologiche che si manifestano, sul territorio italiano, in due differenti stagioni. Indicate, per ciascuna situazione, il **nome delle stagioni**.

area anticiclonica-Mediterraneo occidentale-anticiclone delle Azzorre-bello stabile

Stagione: _____

area anticiclonica-nord Italia-anticiclone russo-siberiano-tempo sereno-aria fredda-nebbia

Stagione: _____

(1 punto)

15. Completate le seguenti frasi.

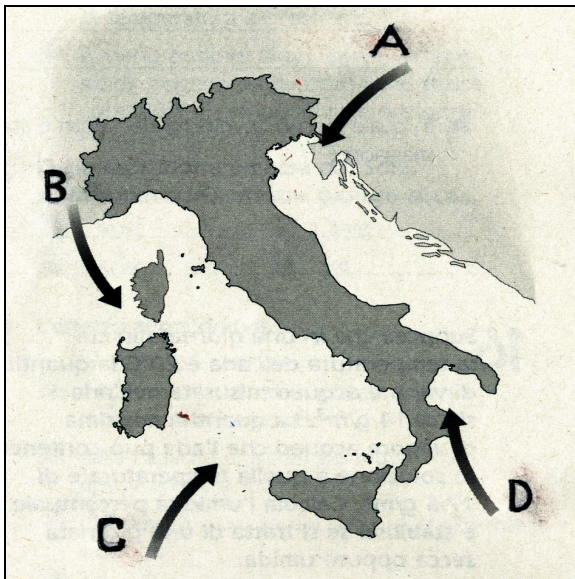
La disposizione delle Alpi è molto importante per il clima italiano perché _____

La regione padana ha un clima di tipo continentale perché _____

(2 punti)

16. Indicate il nome dei principali venti locali negli spazi sotto la cartina n. 2.

Cartina n. 2



(Fonte: Gainotti, A., 2001: Questo pianeta, p. 100, Zanichelli, Milano)

A: _____

B: _____

C: _____

D: _____

(2 punti)

17. Inserite al posto degli spazi vuoti le parole appropriate scegliendole dall'elenco.

piene nevi autunno-inverno estate-primavera regime portate
alveo circolare glaciale vulcanica tettonica

I fiumi italiani che hanno un _____ alpino hanno le
_____ massime in primavera-estate, quando si sciolgono le
_____, mentre i fiumi con un regime appenninico sono in piena in
_____. I laghi prealpini sono di origine _____ e sono
caratteristici per la loro forma allungata, mentre quelli di origine _____,
dell'Italia centrale, hanno una forma _____.

(4 punti)

E2 – L'ITALIA

18. Per ciascuna affermazione, cerchiare la lettera **V** se essa è vera e la lettera **F** se essa è falsa.

La popolazione italiana è aumentata di molto nell'ultimo secolo.

V**F**

La densità di popolazione dell'Italia è tra le più basse d'Europa.

V**F**

Le zone più popolate d'Italia sono quelle di montagna e collina.

V**F**

L'Italia è attualmente un paese di emigrazione.

V**F**

La popolazione italiana è uniformemente distribuita.

V**F**

La popolazione urbana in Italia è in forte aumento.

V**F**

(2 punti)

19. Completate le seguenti frasi.

A Le principali migrazioni interne hanno avuto le seguenti direzioni: _____

B Gli immigrati extracomunitari provengono soprattutto da

(2 punti)

20. Rispondete alle seguenti domande:

A Le principali città dell'Italia del Nord sorgono sulla costa o all'interno?

B Quali zone della penisola sono meno ricche di città?

(2 punti)

21. Cerchiate la lettera che precede le lingue parlate dalle minoranze linguistiche in Italia:

A francese B greco C turco D ladino E polacco

F albanese G russo H sloveno I spagnolo L tedesco

(2 punti)

22. Le aree metropolitane italiane sono 12. Elencatene 6.

(2 punti)