



Codice del candidato:

Državni izpitni center



M 0 7 2 5 0 1 1 2 1

SECONDA SESSIONE D'ESAME

GEOGRAFIA

≡ Prova d'esame 2 ≡

Giovedì, 30 agosto 2007 / 80 minuti

Al candidato è consentito l'uso della penna stilografica o della penna a sfera.

Al candidato vengono consegnate due schede di valutazione.

La prova d'esame comprende un allegato a colori.

MATURITÀ GENERALE

INDICAZIONI PER I CANDIDATI

Leggete attentamente le seguenti indicazioni. Non tralasciate nulla.

Non voltate pagina e non iniziate a risolvere i quesiti prima del via dell'insegnante preposto.

Incollate o scrivete il vostro numero di codice nello spazio apposito su questa pagina in alto a destra e sulle schede di valutazione.

Rispondete con frasi complete e non con singole parole. Scrivete le risposte negli spazi appositi, usando la penna stilografica o a sfera. Scrivete in modo leggibile. Le risposte illeggibili e le correzioni non chiare verranno valutate zero (0) punti.

A fianco degli esercizi, a destra, è segnato il punteggio conseguibile.

Abbiate fiducia in voi stessi e nelle vostre capacità.

Buon lavoro.

Questa prova d'esame ha 12 pagine, di cui 2 bianche. L'allegato a colori ha 2 pagine.

PAGINA BIANCA

Voltate pagina.

D1 – LA SLOVENIA

1. Indicate il nome delle **macroregioni** della Slovenia rappresentate dagli **allegati 1, 2 e 3** (**Allegato alla Prova d'esame 2**).

Allegato 1: _____

Allegato 2: _____

Allegato 3: _____

(2 punti)

2. Collegate le **attività geologiche** descritte nella colonna di sinistra alle **ere geologiche** riportate nella colonna di destra, segnando le lettere corrispondenti a queste ultime negli spazi vuoti che precedono le attività medesime:

_____ intenso corrugamento delle Alpi

_____ erosione glaciale del rilievo

_____ intensa formazione di calcari

A paleozoico

B mesozoico

C terziario

D quaternario

(2 punti)

3. Spiegate due dei **processi** che contribuirono in modo decisivo alla **formazione delle colline subpannoniche**.

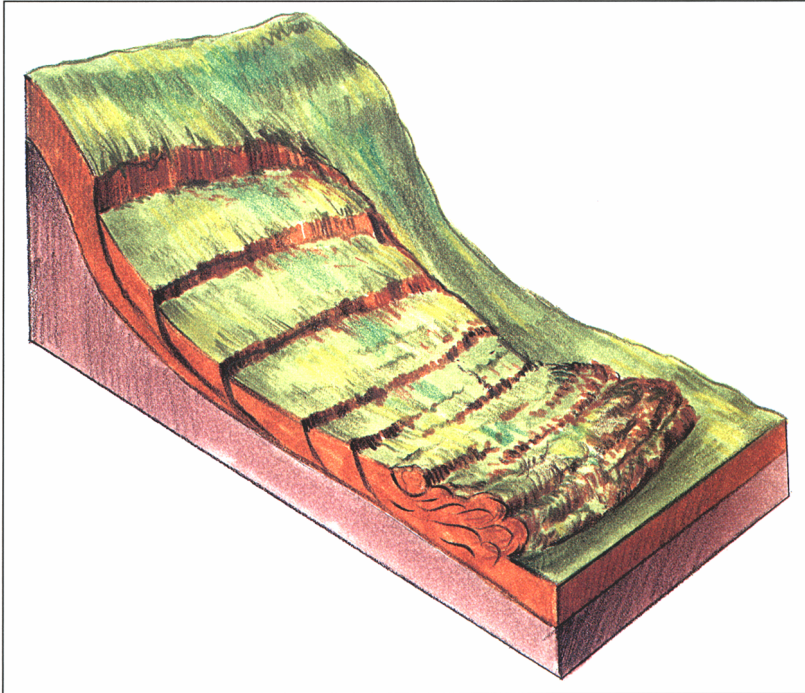
1 _____

2 _____

(2 punti)

4. Indicate il nome della **forma di denudazione** del versante rappresentata dalla **figura n. 1** e spiegate perchè tale fenomeno sia più intenso sui **versanti a maggiore pendenza**.

Figura n. 1



(Fonte: Senegačnik, J., in drugi, 2002: Obča geografija, p. 38. Modrijan. Ljubljana)

Forma di denudazione: _____

Spiegazione: _____

(2 punti)

5. Tra le tre **fasce altitudinali** della Slovenia indicate qui sotto, cerchiare quella in cui vive la **maggior parte della popolazione slovena**, e indicate **due motivi** che spieghino le ragioni di tale distribuzione.

da 100 m a 200 m

da 200 m a 300 m

da 300 m a 400 m

Motivi:

1 _____

2 _____

(2 punti)

D2 – LA SLOVENIA

6. Elencate tre **tipi** di località turistiche in Slovenia.

1 _____

2 _____

3 _____

(2 punti)

7. **L'allegato 4 (Allegato alla Prova d'esame 2)** rappresenta il numero di pernottamenti nelle principali località turistiche slovene nel 1999. Indicate il nome delle **località turistiche** rappresentate nell'**allegato 4** dalle lettere **A, B e C** ed indicate anche la località con il **maggior** numero di **pernottamenti**.

A _____

B _____

C _____

Località: _____

(2 punti)

8. Immaginate di essere il rappresentante della Slovenia alla fiera internazionale del turismo di Berlino. Per convincere i turisti a trascorrere le vacanze in Slovenia, quali tre **vantaggi** menzionereste?

1 _____

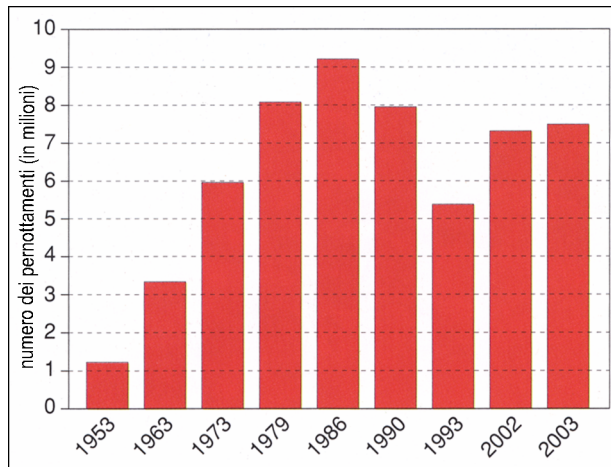
2 _____

3 _____

(2 punti)

9. Il **grafico n. 1** rappresenta il numero di pernottamenti turistici in Slovenia tra gli anni 1953 e 2003. Indicate il numero di **pernottamenti** nel **2003** in Slovenia e spiegate il **motivo principale** del **calo dei pernottamenti dopo il 1990**.

Grafico n. 1



(Fonte: Likar, M., 2005: *Svet okoli nas 2*, p. 65. Mladinska knjiga. Ljubljana)

Numero di pernottamenti nel 2003: _____

Motivo: _____

(2 punti)

10. Spiegate perchè le **stazioni sciistiche slovene**, per numero di sciatori e per introiti, abbiano dei risultati **inferiori** a quelli degli altri stati alpini.

1 _____

2 _____

(2 punti)

E1 – L'ITALIA

11. Nella colonna di sinistra segnate i nomi dei mari che corrispondono al nome dei maggiori golfi riportati nella colonna di destra.

MARE	GOLFO
	Golfo di Genova
	Golfo di Taranto
	Golfo di Gaeta
	Golfo di Venezia

(1 punto)

12. Scrivete il nome dello stretto o del canale che mette in comunicazione:

La Sicilia con la Calabria: _____

La Sicilia con l'Africa: _____

La Puglia con l'Albania: _____

La Sardegna con la Corsica: _____

(1 punto)

13. Indicate il nome del tipo di clima costiero italiano, caratterizzato da una debole escursione termica.

(1 punto)


14. Indicate il nome della tipica copertura vegetale delle coste italiane.

(1 punto)

15. Completate la legenda della cartina n. 1 mettendo al posto giusto le seguenti indicazioni:

- clima dell'alta montagna
- clima mediterraneo tipico
- clima di montagna
- clima alto e medio adriatico
- clima della bassa montagna e collina
- clima padano

Cartina n. 1



	_____
	_____
	_____
	_____
	_____
	_____

(Fonte: Guida per l'insegnante, p. 75, Corso di geografia, Bompiani, 2004, Milano)

(2 punti)

16. Indicate **le differenze** climatiche esistenti tra la costa adriatica settentrionale e le altre coste italiane e **motivatele**.

Differenze climatiche:

Motivazione:

(4 punti)

E2 – L'ITALIA

17. Cerchiate la lettera **V** se l'affermazione è vera, e la lettera **F** se l'affermazione è falsa.

In Italia il numero dei piccoli punti vendita è in riduzione. **V F**

La bilancia commerciale italiana è costantemente passiva. **V F**

La bilancia dei pagamenti italiana è costantemente passiva. **V F**

I principali partner commerciali dell'Italia sono i paesi dell'Ue. **V F**

Le attività del terziario avanzato si trovano nelle maggiori città. **V F**

(2 punti)

18. Indicate il nome dei quattro principali porti commerciali italiani del versante tirrenico.

1 _____ 2 _____

3 _____ 4 _____

(2 punti)

19. Indicate la maggiore difficoltà che ostacola l'ampliamento del porto commerciale di Genova.

(1 punto)

20. Scegliete l'alternativa corretta fra quelle proposte.

Il porto di Gioia Tauro è un porto _____.
(monofunzionale, per passeggeri, peschereccio)

(1 punto)

21. Spiegate le cause (almeno quattro) dell'intenso popolamento delle coste italiane.

(4 punti)

PAGINA BIANCA