



Codice del candidato:

Državni izpitni center



M 1 6 2 5 0 1 2 2 1

SESSIONE AUTUNNALE

GEOGRAFIA

≡ Prova d'esame 2 ≡

Geografia della Slovenia e dell'Italia

Lunedì, 29 agosto 2016 / 90 minuti

Materiali e sussidi consentiti:

Al candidato è consentito l'uso della penna stilografica o della penna a sfera.

Al candidato viene consegnata una scheda di valutazione.

La prova d'esame comprende un allegato a colori.

MATURITÀ GENERALE

INDICAZIONI PER I CANDIDATI

Leggete con attenzione le seguenti indicazioni.

Non aprite la prova d'esame e non iniziate a svolgerla prima del via dell'insegnante preposto.

Incollate o scrivete il vostro numero di codice negli spazi appositi su questa pagina in alto a destra e sulla scheda di valutazione.

La prova d'esame si compone di 26 quesiti, risolvendo correttamente i quali potete conseguire fino a un massimo di 50 punti. Il punteggio conseguibile in ciascun quesito viene di volta in volta espressamente indicato.

Scrivete le vostre risposte negli spazi appositamente previsti **all'interno della prova** utilizzando la penna stilografica o la penna a sfera. Formulate delle frasi complete e leggibili: in caso di errore, tracciate un segno sulla risposta scorretta e scrivete accanto a essa quella corretta. Alle risposte e alle correzioni scritte in modo illeggibile verranno assegnati 0 punti.

Abbiate fiducia in voi stessi e nelle vostre capacità. Vi auguriamo buon lavoro.

La prova si compone di 16 pagine (1-16), di cui 3 vuote. L'allegato a colori si compone di 4 pagine (17-20), di cui 1 vuota.



M 1 6 2 5 0 1 2 2 1 0 3

Pagina vuota

VOLTATE IL FOGLIO.



Geografia generale

1. La figura 1 rappresenta la piramide demografica d'età e sesso. Cerchiate le due lettere che precedono l'affermazione corrispondente alle caratteristiche demografiche dello stato in questione.

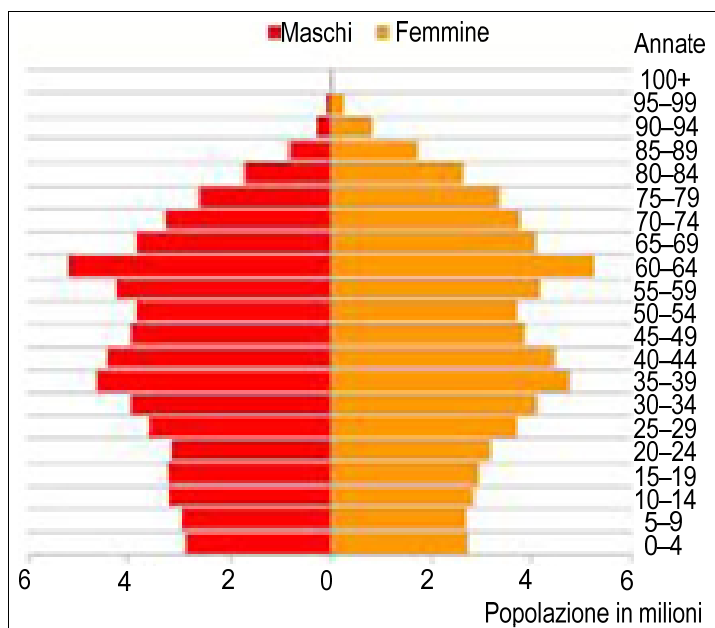


Figura 1: Piramide d'età del Giappone del 2011

(Adattato da: https://encrypted-tbn0.gstatic.com/images?q=tbn:ANd9GcQu9VBnTk3Bmq6u_ZXZx4zWbmOEjP-VHQWz0s7pC2SdmUCDgjPXw. Consultato il 13. 3. 2014.)

- A Nello stato vi è un forte incremento naturale.
 B La speranza di vita è sopra la media mondiale.
 C In futuro vi sarà un calo della mortalità.
 D Nello stato vivono oltre 100 milioni di abitanti.

(2 punti)

2. La figura 2 rappresenta la crescita del numero della popolazione mondiale dall'anno 0 all'anno 2000. Indicate il termine che definisce il forte aumento di popolazione avvenuto dopo il 1800. Descrivete due tra le cause di questo rapido aumento, che sono conseguenza dei progressi nella medicina.

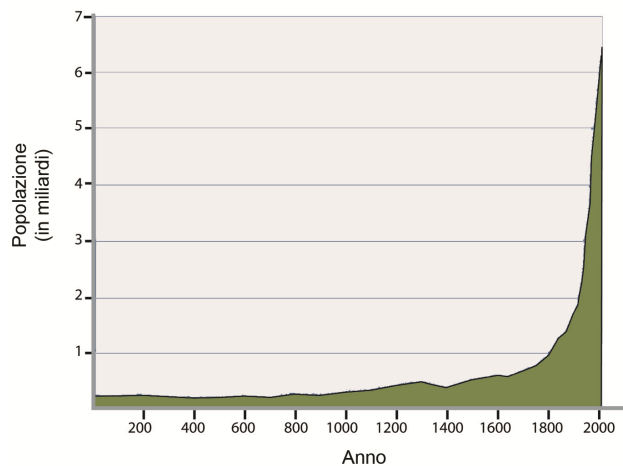


Figura 2

(Adattato da: <http://new-universe.org/zenphoto/albums/Chapter5/Illustrations/Abrams51.jpg>. Consultato il 13. 3. 2014.)



Forte aumento: _____

Descrizione:

1 _____

2 _____

(3 punti)

3. Indicate il continente che per primo è stato interessato dal rapido aumento della popolazione.

(1 punto)

4. Con l'aiuto della figura 1 dell'allegato a colori che rappresenta i profughi nel mondo, descrivete due tra le cause politiche che sono all'origine di queste migrazioni.

1 _____

2 _____

(2 punti)

5. Spiegate l'influsso delle moderne migrazioni economiche intercontinentali sulla percentuale dei credenti delle principali religioni mondiali, rilevata in Europa.

(2 punti)



Slovenia 1

6. Con riferimento alla loro origine, indicate il tipo di precipitazioni rappresentato dalla figura 3 e cerciate il processo che caratterizza il versante montano sopravvento.

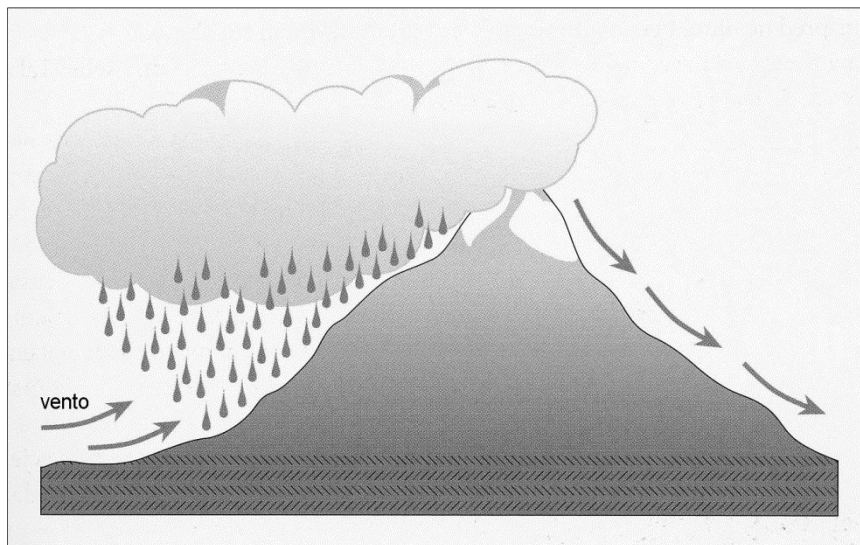


Figura 3

(Adattato da: Vrhovc, T., Kastelec, D., e Petkovšek, Z., 2006: Vreme in podnebje v gorah, p. 41. Tehniška založba Slovenije. Lubiana)

Tipo di precipitazioni: _____

Processo: discesa d'aria condensazione riscaldamento dell'aria

(2 punti)

7. Con l'aiuto della figura 2 dell'allegato a colori, innanzi all'affermazione, segnate SÌ se è esatta, NO se errata.

_____ Sulla Slovenia vi è un campo di bassa pressione atmosferica.

_____ Le condizioni meteorologiche permettono la formazione della Bora sul Litorale.

(2 punti)

8. Descrivete due tra le cause che, per la prolungata assenza di precipitazioni estive in Slovenia, vanno a colpire maggiormente l'economia della parte nordorientale dello stato.

1 _____

2 _____

(2 punti)



9. Indicate il nome del campo carsico (*polje*) che nella figura 3 dell'allegato a colori è contrassegnato dalla lettera A. Descrivete la causa geografico-naturale per la quale, in occasione di forti precipitazioni, l'uomo è impotente nel limitare la durata e il livello delle piene eccezionali nel campo carsico nonostante la regolare pulizia di inghiottitoi e cavità.

Campo carsico: _____

Descrizione: _____

(2 punti)

10. L'influsso meteorologico dell'anticiclone siberiano (est-europeo) sulla Slovenia si fa sentire in particolare nella metà fredda dell'anno. Spiegate l'influsso delle condizioni meteorologiche menzionate sul maggiore inquinamento dell'aria nella conca di Lubiana.

(2 punti)



Slovenia 2

11. Con l'aiuto delle figure 4 e 5 dell'allegato a colori, accanto a ogni numero segnate il tipo caratteristico di turismo.

Figura 4: _____

Figura 5: _____

(2 punti)

12. Nella figura 3 dell'allegato a colori la lettera B contrassegna una stazione sciistica, mentre la lettera C una località termale. Indicatene i nomi.

Stazione sciistica: _____

Località termale: _____

(2 punti)

13. Nella tabella sono rappresentati i dati statistici turistici per l'anno 2012 in Austria, Slovenia e Croazia. Nella prima colonna della tabella indicate il nome dello stato che corrisponde ai dati riportati.

Stato	Numero degli arrivi turistici	Numero posti letto fuori dalla zona costiera	Consumo medio del turista in visita allo stato (in EURO)
	10 138 696	40 901	211
	21 211 722	979 329	564
	2 124 724	85 085	228

(Adattato da: <http://epp.eurostat.ec.europa.eu/>. Consultato il 9. 5. 2014.)

(2 punti)

14. Descrivete il motivo del maggiore afflusso turistico a Lubiana negli ultimi anni e indicate l'attività economica del settore terziario sulla quale il turismo ha un effetto positivo.

Descrizione: _____

Attività economica: _____

(2 punti)

15. Sul Pohorje è prevista la costruzione di un albergo. Tramite due esempi spiegate a quali aspetti è necessario prestare attenzione affinché l'impatto negativo sull'ambiente sia il minore possibile.

1 _____

2 _____

(2 punti)



Geografia e regioni dell'Italia 1

16. Osservate attentamente la situazione **a** e la situazione **b** rappresentate nella figura 4. Esse si riferiscono a due differenti momenti stagionali sul territorio italiano.

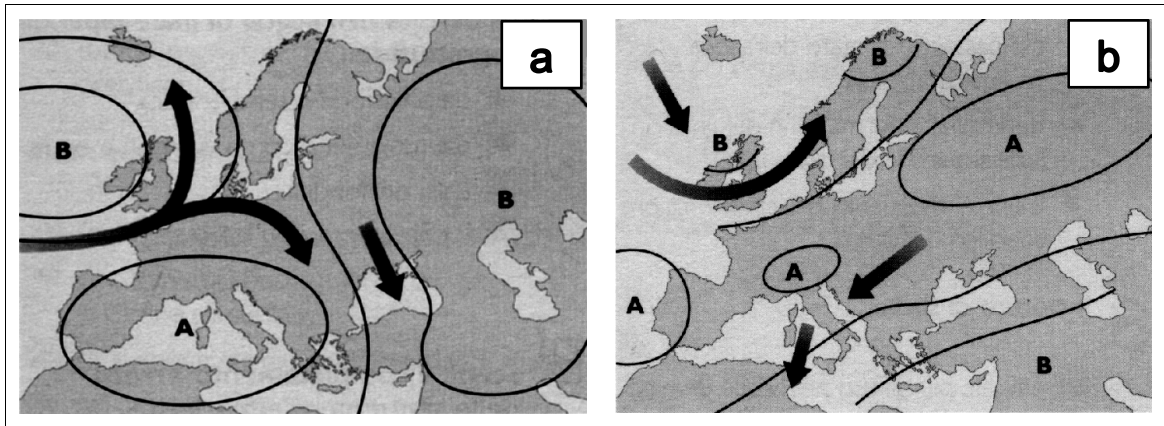


Figura 4

(Fonte: A. Gainotti, A. Modelli, Questo pianeta, Percorsi di scienze della Terra, p. 22, Zanichelli, Milano, 2001)

Indicate quale delle due parti della figura 4, **a** o **b**, rappresenta, per il territorio italiano, una tipica situazione invernale. Motivate la risposta.

Situazione invernale nella parte: _____

Motivazione: _____

(2 punti)

17. Indicate il nome del campo anticiclonico (alta pressione), che staziona sull'Italia del Nord nella parte **b** della figura 4.

Osservate la parte **b** della figura 4 e indicate il nome del vento che investe la costa nord-orientale dell'Italia.

(2 punti)



18. La figura 5 rappresenta la concentrazione di precipitazioni sul territorio italiano. Come potete notare, essa è variamente distribuita sul territorio.




Figura 5

(Fonte: A. Mossudu, Temi di geografia generale, p. 296, RCS Libri S.p.A. Milano, 2010)

Indicate il tipo di precipitazioni prevalenti sul versante occidentale degli Appennini e spiegatele le cause.

Tipo di precipitazioni: _____

Cause: _____

(2 punti)

19. Il grafico 1 rappresenta il diagramma termo-pluviometrico di due città italiane. Indicate in quali zone climatiche del territorio italiano si collocano rispettivamente le due città.

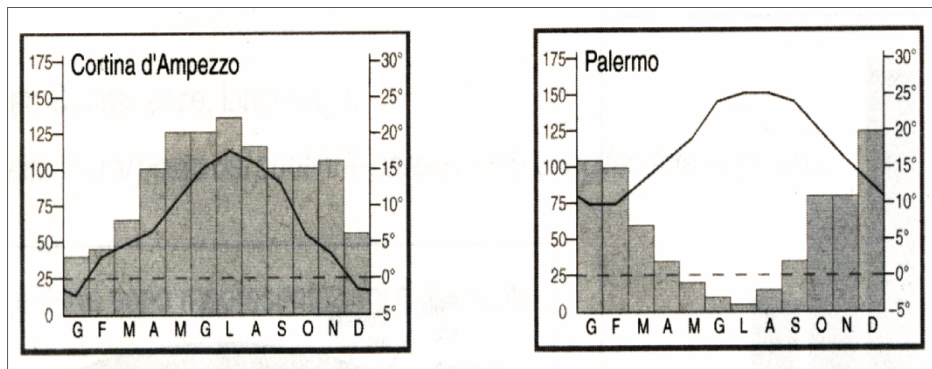


Grafico 1

(Fonte: Bacchi, G., Attraverso i territori, p.38, Bulgarini, 2000.)

Cortina d'Ampezzo si colloca nella zona climatica _____

Palermo si colloca nella zona climatica _____

(2 punti)



20. Osservate le zone climatiche d'Italia rappresentate nella figura 6.



Figura 6

(Fonte: S. Conti, Guida per l'insegnante, p. 75, Bompiani, Milano, 2006)

Fra le zone climatiche sottoelencate, cerciate le lettere corrispondenti alle due zone climatiche che non appartengono alla penisola italiana.

- A zona climatica della costa tirrenica-ionica e adriatica meridionale
- B zona climatica arida
- C zona climatica dell'Adriatico centro settentrionale
- D zona climatica padana
- E zona climatica della bassa montagna e della collina
- F zona climatica della bassa pianura
- G zona climatica di montagna
- H zona climatica fredda di alta montagna

(2 punti)



Geografia e regioni dell'Italia 2

21. Indicate il numero delle regioni amministrative italiane, ed elencate i nomi delle regioni a statuto speciale.

Numero delle regioni: _____

Elenco delle regioni a statuto speciale: _____

_____ (2 punti)

22. Cerchiate la lettera che precede il completamento esatto.

La Puglia è una regione dell'Italia

- A peninsulare.
- B centrale.
- C meridionale.
- D insulare.

Il capoluogo della regione dell'Abruzzo è

- A Teramo.
- B Chieti.
- C L'Aquila.
- D Pescara.

La regione italiana più a Nord è

- A la Valle d'Aosta.
- B il Piemonte.
- C la Lombardia.
- D il Trentino Alto Adige.

Gli enti territoriali locali più piccoli dello stato italiano sono

- A le province.
- B i comuni.
- C le regioni.
- D le comunità montane.

(2 punti)



23. Cerchiate la lettera che precede l'elemento geografico meno favorevole allo sviluppo economico del Sud d'Italia.

- A La posizione e distanza dal resto d'Europa
B Il clima

Indicate inoltre altri due motivi geografico antropici responsabili del divario di sviluppo economico tra l'Italia centro-settentrionale e quella meridionale.

1 _____

2 _____

(2 punti)

24. Cerchiate la lettera che precede l'alternativa corretta tra quelle proposte:

Per favorire lo sviluppo del Sud, lo stato italiano:

- A ha costruito solo strade e acquedotti.
B ha costruito solo imprese statali nel Sud.
C ha dato incentivi alle industrie private e ha creato imprese statali e infrastrutture.
D ha contrastato la criminalità organizzata.

(1 punto)

25. L'areogramma della figura 7 rappresenta le percentuali di addetti nel settore economico primario, secondario e terziario in Italia.

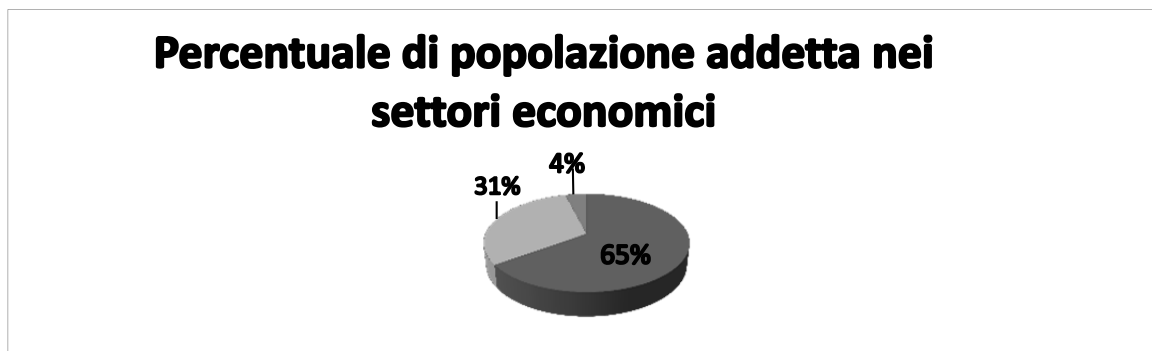


Figura 7

(Fonte: G. Corradi, M. Morazzoni, La rosa dei venti - Atlante delle risorse, p.53, Loescher, Torino, 2008)

Nelle caselle vuote della sottostante tabella 1, inserite le percentuali di addetti corrispondenti ai rispettivi settori economici.

Percentuale di addetti	Settore di attività economica
_____ %	Primario
_____ %	Secondario
_____ %	Terziario

Tabella 1

(1 punto)



26. A livello territoriale italiano, la percentuale del numero totale di addetti al settore secondario è variamente distribuita.

Riordinate la tabella 2 inserendo, nelle caselle vuote che precedono le regioni, le rispettive percentuali di addetti al settore secondario, riportate nel sottostante riquadro.

32 %	23 %	21 %	17 %	7 %
------	------	------	------	-----

	Nord-Est
	Nord-Ovest
	Centro
	Sud
	Isole

Tabella 2

(2 punti)



M 1 6 2 5 0 1 2 2 1 1 5

Pagina vuota



Pagina vuota



M 1 6 2 5 0 1 2 2 1 1 7

Allegato a colori (alla Prova d'esame 2)

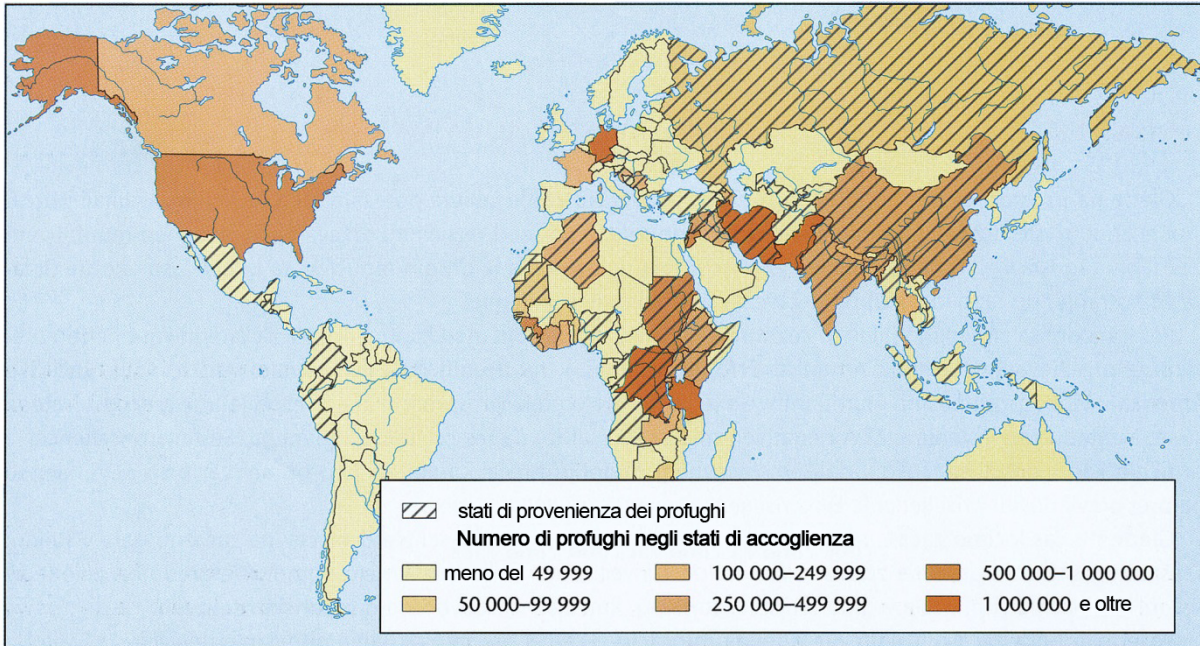


Figura 1

(Fonte: Senegačnik, J., et al., 2002: Obča geografija za 1. letnik gimnazij, p. 146. Modrijan. Lubiana)

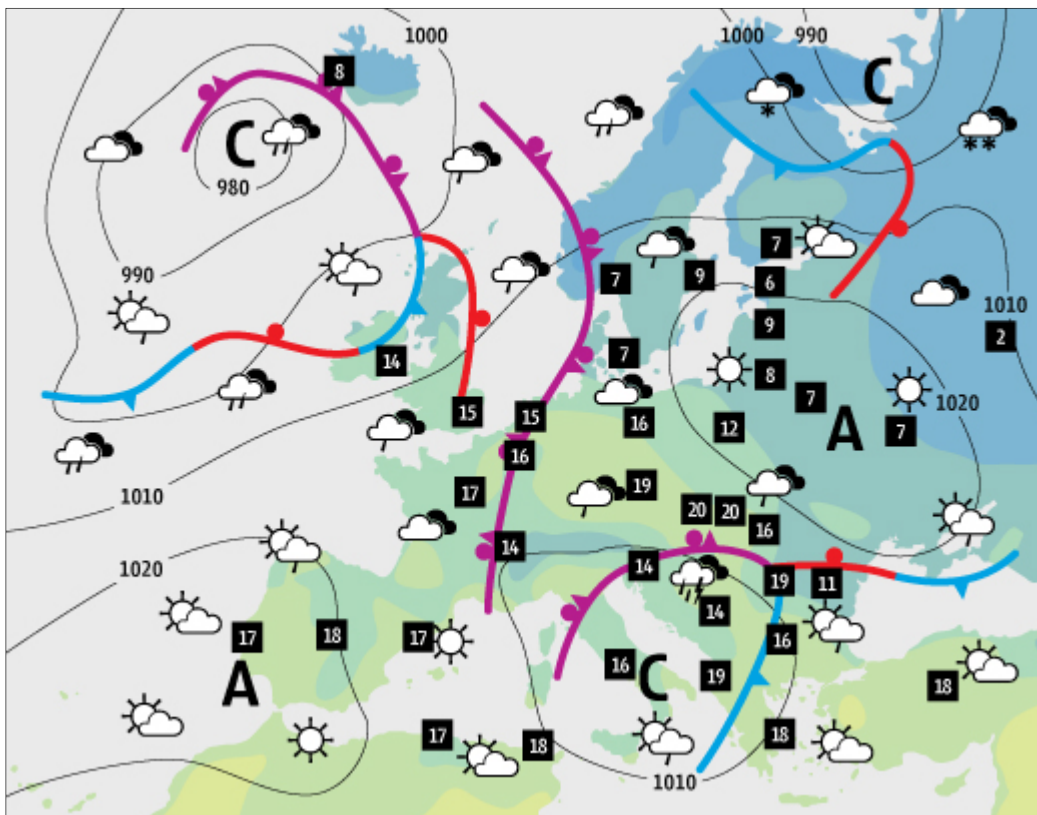


Figura 2

(Fonte: <http://www.delo.si/vreme>. Consultato il 4. 4. 2014.)

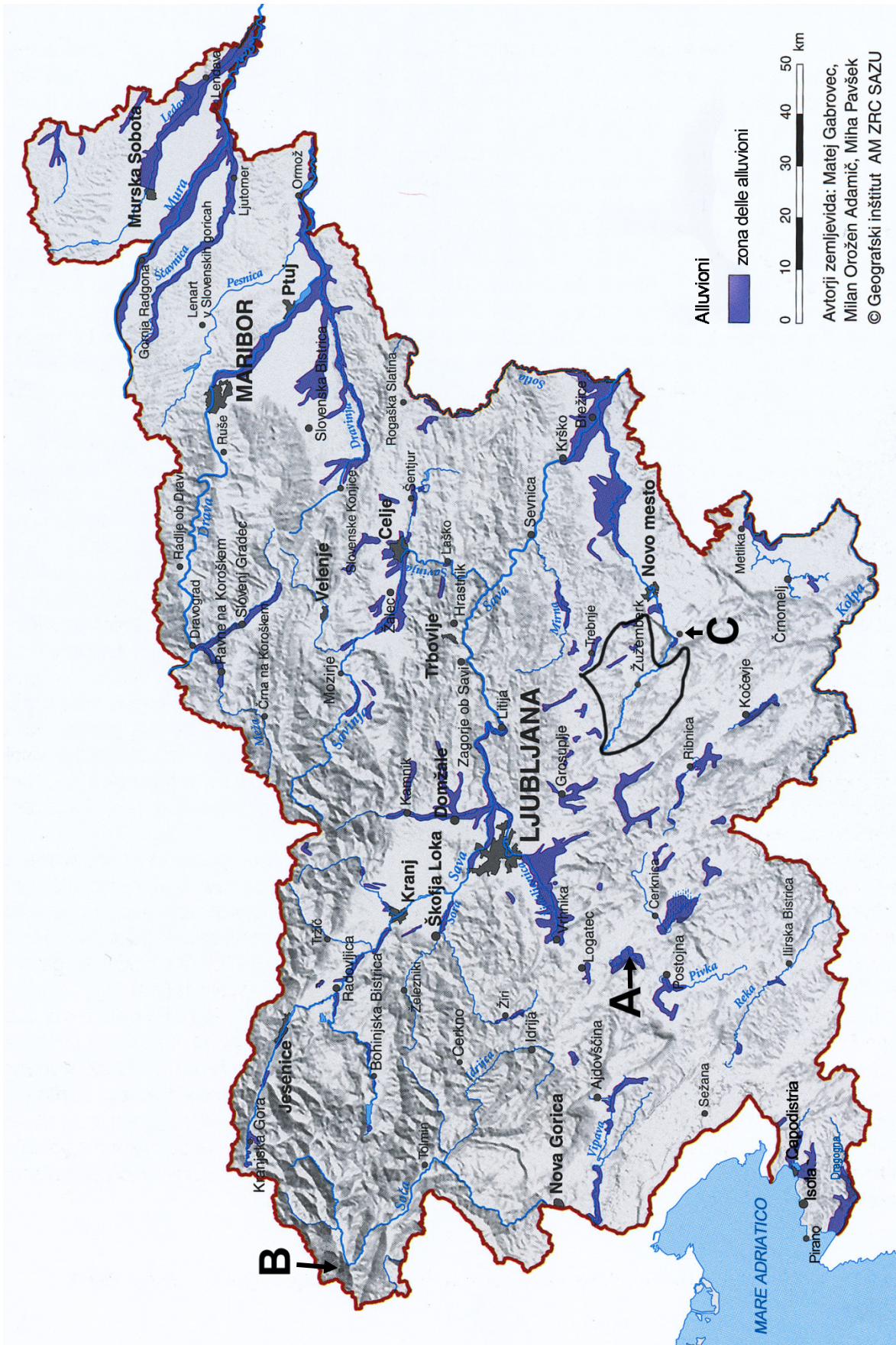


Figura 3

(Adattato da: Komac, B., Natek, K., e Zorn, M., 2008: Geografski vidiki poplav v Sloveniji, p. 13. Založba ZRC SAZU. Lubiana)



Figura 4

(Fonte: Senegačnik, J., 2010: Slovenia 2, geografia za 4. letnik gimnazij, p. 53. Modrijan. Lubiana)



Figura 5

(Fonte: <http://blog.ognjisce.si/media/blogs/matjazm/110619>. Consultato il 10. 05. 2014.)



M 1 6 2 5 0 1 2 2 1 2 0

Pagina vuota