



Codice del candidato:

---

---

**Državni izpitni center**

---

---



M 1 8 2 5 0 1 3 2 1

SESSIONE AUTUNNALE

# **GEOGRAFIA**

≡ Prova d'esame 2 ≡

Geografia generale – Geografia della Slovenia e dell'Italia

**Martedì, 28 agosto 2018 / 90 minuti**

*Materiali e sussidi consentiti:*

*Al candidato è consentito l'uso della penna stilografica o della penna a sfera.*

*La prova d'esame comprende un allegato a colori.*

---

---

**MATURITÀ GENERALE**

---

---

## **INDICAZIONI PER I CANDIDATI**

**Leggete con attenzione le seguenti indicazioni.**

**Non aprite la prova d'esame e non iniziate a svolgerla prima del via dell'insegnante preposto.**

Incollate o scrivete il vostro numero di codice negli spazi appositi su questa pagina in alto a destra.

La prova d'esame si compone di 25 quesiti, risolvendo correttamente i quali potete conseguire fino a un massimo di 50 punti. Il punteggio conseguibile in ciascun quesito viene di volta in volta espressamente indicato.

Scrivete le vostre risposte all'interno della prova, **nei riquadri appositamente previsti**, utilizzando la penna stilografica o la penna a sfera. Formulate delle frasi complete e leggibili: in caso di errore, tracciate un segno sulla risposta scorretta e scrivete accanto a essa quella corretta. Alle risposte e alle correzioni scritte in modo illeggibile verranno assegnati 0 punti.

Abbiate fiducia in voi stessi e nelle vostre capacità. Vi auguriamo buon lavoro.

---

---

*La prova si compone di 16 pagine (1-16), di cui 2 vuote. L'allegato a colori si compone di 2 pagine (17-18).*





Non scrivete nel campo grigio. Non scrivete nel campo grigio. Non scrivete nel campo grigio. Non scrivete nel campo grigio. Non scrivete nel campo grigio. Non scrivete nel campo grigio.

# Pagina vuota

**VOLTATE IL FOGLIO.**



## Geografia generale

1. Per ciascuna affermazione, cerciate il tipo di allevamento o agricoltura in essa descritto.

Il nomadismo è praticato nelle regioni aride e semiaride dell'Asia, dove la scarsità di precipitazioni limita la pratica dell'agricoltura.

estensivo

intensivo

commerciale

Nei Paesi Bassi, le serre sono gestite dai computer e riscaldate da un impianto centralizzato. Nell'arco dell'anno vi si coltivano prodotti agricoli diversi, soprattutto fiori e ortaggi.

sostenibile

specializzata

di sussistenza

(2 punti)

2. Specificate il termine che indica l'aumento sistematico e mirato di aree boschive, come rappresentato nella figura 11 dell'allegato a colori, e descrivete l'influsso positivo del bosco sulle caratteristiche idrologiche del paesaggio rappresentato.

Termine: \_\_\_\_\_

Descrizione: \_\_\_\_\_

\_\_\_\_\_

(2 punti)

3. La figura 12 dell'allegato a colori rappresenta l'idoneità all'uso agricolo delle diverse zone del mondo. Cerciate le lettere dinanzi ai due fattori che hanno influito in maggior misura sull'idoneità dei terreni all'uso agricolo.

A sviluppo economico

B altitudine

C densità di popolazione

D vicinanza di laghi

E latitudine

(2 punti)

4. Indicate la categoria del terreno (utilizzo del suolo) che prevale nella zona contrassegnata dalla lettera A nella figura 12 dell'allegato a colori, e descrivete il metodo in essa utilizzato dalla popolazione per ottenere nuove superfici agricole.

Categoria del terreno: \_\_\_\_\_

Descrizione: \_\_\_\_\_

\_\_\_\_\_

(2 punti)



5. Spiegate l'influsso dei cambiamenti climatici sulla diminuzione della produzione agricola e descrivete un intervento con cui sarebbe possibile attenuare, in agricoltura, l'impatto dei cambiamenti climatici.

Spiegazione: \_\_\_\_\_

\_\_\_\_\_

\_\_\_\_\_

Descrizione: \_\_\_\_\_

\_\_\_\_\_

*(2 punti)*



## Slovenia 1

6. Cerchiate la lettera che precede la corretta interpretazione dell'affermazione »Nella maggior parte della Slovenia, le temperature medie di gennaio sono inferiori a 0 °C.«.

A L'affermazione descrive un fattore del clima in Slovenia.  
 B L'affermazione descrive un elemento del clima in Slovenia.

(1 punto)

7. Cerchiate il fattore del clima che influisce in modo determinante sulle differenze nella quantità annua di precipitazioni tra la Slovenia orientale e quella occidentale.

distanza dall'oceano

latitudine

rilievo

(1 punto)

8. Facendo riferimento al climogramma della figura 1, rispondete alle domande.

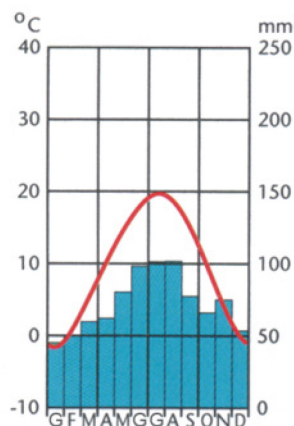


Figura 1

(Adattato da: Senegačnik, J., 2009: Slovenia 1. Geografija za 3. letnik gimnazij, p. 32. Modrijan. Ljubljana)

Indicate la quantità annua di precipitazioni nella località le cui caratteristiche sono rappresentate nel climogramma della figura 1. \_\_\_\_\_ mm

Cerchiate la località le cui caratteristiche climatiche sono rappresentate nella figura 1.

Bled

Radenci

Ajdovščina

(2 punti)



9. Accanto a ciascuna descrizione delle caratteristiche climatiche, indicate la lettera della corrispondente regione.

- A Alpi di Kamnik e della Savinja
- B Selva di Ternova (Trnovski gozd)
- C Notranjsko podolje
- D Kozjansko

\_\_\_\_\_ La quantità annua di precipitazioni può superare i 3000 mm.

\_\_\_\_\_ Nella stagione fredda si verifica spesso l'inversione termica.

\_\_\_\_\_ Il massimo di precipitazioni si ha prevalentemente in estate.

(2 punti)

10. Nella figura 2, i numeri 1, 2 e 3 contrassegnano le principali direzioni da cui provengono le masse d'aria che determinano il tempo meteorologico in Slovenia. Spiegate le caratteristiche del tempo in Slovenia quando essa è raggiunta dall'influsso dell'area di pressione atmosferica contrassegnata dal numero 3.

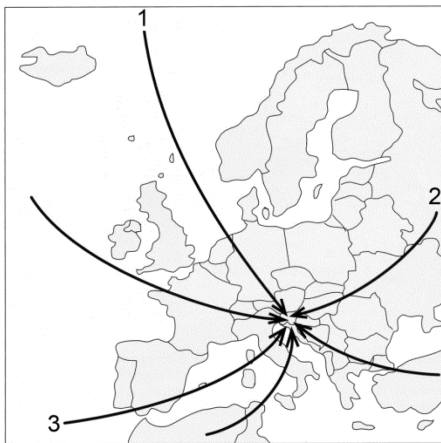


Figura 2

(Fonte: Hočevar, M., et al., 2000: Geografija. Shematski pregledi, p. 45. Tehniška založba Slovenije. Ljubljana)

---

---

---

(2 punti)

11. Spiegate la causa delle portate minime, nei mesi estivi, dei corsi d'acqua minori nella zona della località le cui caratteristiche climatiche sono rappresentate nel climogramma della figura 1 nell'esercizio 8.

---

---

---

(2 punti)



## Slovenia 2

12. Nella figura 3, il numero 1 contrassegna una zona in cui vive la minoranza linguistica slovena. Indicate il suo nome e descrivete un diritto degli sloveni in Italia, derivante dal loro status di minoranza linguistica.



*Figura 3*

(Adattato da: Kunaver, J., et al., 1999: Družboslovje – geografija, p. 78. DZS. Ljubljana)

Zona: \_\_\_\_\_

Descrizione: \_\_\_\_\_

(2 punti)





13. Facendo riferimento alla figura 4, calcolate il saldo naturale in Slovenia nel 1980.

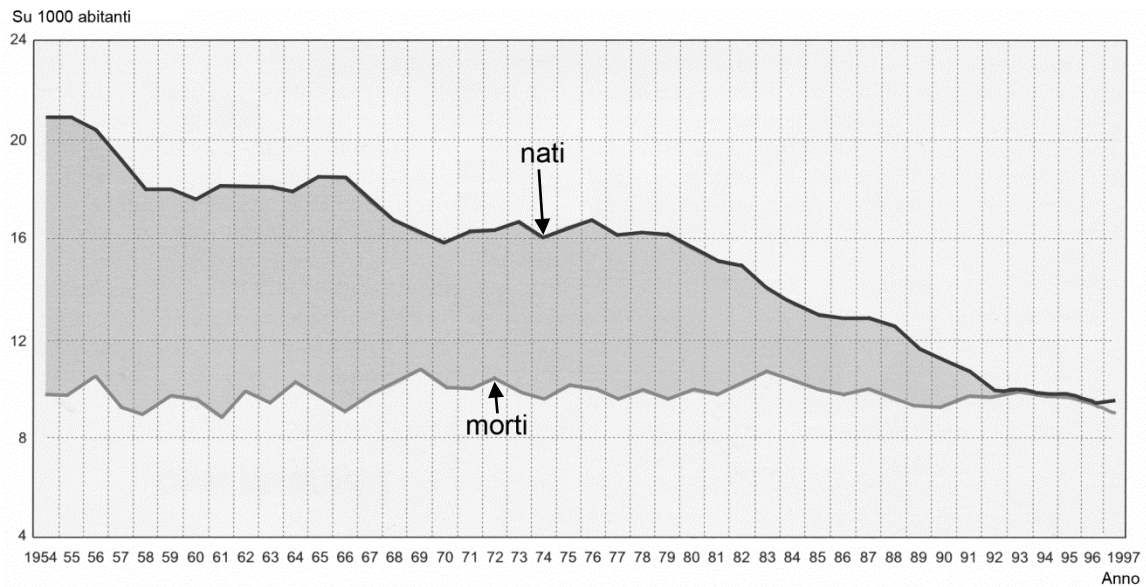


Figura 4

(Adattato da: Klemenčič, M. M., Lipovšek, I., 2002: Geografija Slovenije I. Učbenik za 3. letnik gimnazij, p. 58. DZS. Ljubljana)

Spazio per i calcoli:

Saldo naturale: \_\_\_\_\_ ‰

(1 punto)

14. Indicate il termine che designa un migrante economico che lavora temporaneamente all'estero.

\_\_\_\_\_

(1 punto)

15. Descrivete due cause del processo di invecchiamento della popolazione in Slovenia.

1 \_\_\_\_\_

\_\_\_\_\_

2 \_\_\_\_\_

\_\_\_\_\_

(2 punti)



16. La figura 5 rappresenta il numero degli emigrati dalla Slovenia tra il 1995 e il 2012. Con la descrizione delle cause e delle conseguenze, spiegate l'andamento del numero degli emigrati dalla Slovenia dopo il 2009.

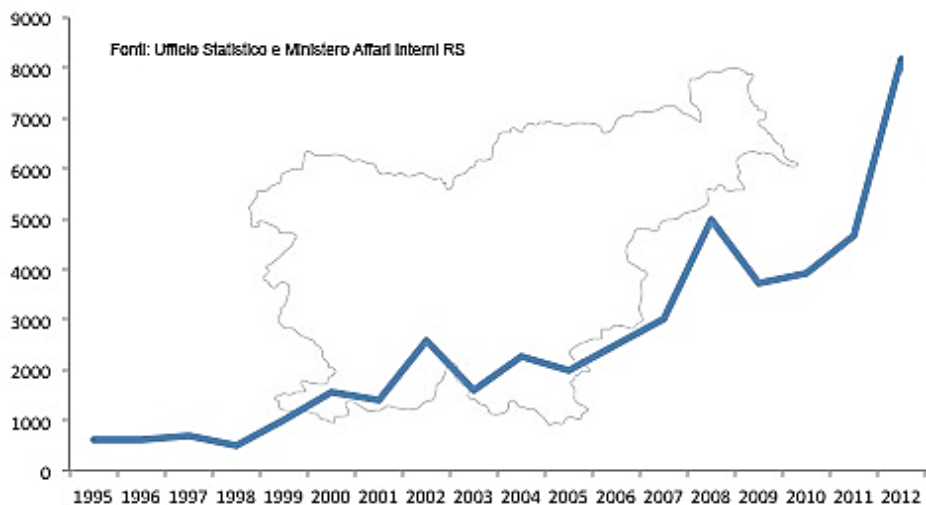


Figura 5

(Adattato da: Wikipedia. 2016.

URL: <https://sl.wikipedia.org/wiki/mo%C5%BEEganov#/media/File.jpg>. Consultato il 1. 10. 2016.)

---



---



---

(2 punti)

17. Le figure 6 e 7 rappresentano la composizione etnica di Jesenice rispettivamente nel 1953 e nel 1971. Con la descrizione delle cause e delle conseguenze, spiegate i cambiamenti nella composizione etnica avvenuti nei due periodi indicati.



Figura 6

(Fonte dati: Popis prebivalstva 1953. Prebivalstvo po narodnosti in spolu. Statistični urad Republike Slovenije. URL: [https://www.stat.si/publikacije/popisi/1953/1953\\_3\\_01.pdf](https://www.stat.si/publikacije/popisi/1953/1953_3_01.pdf). Consultato il 1. 10. 2016.)

---



---



---



Figura 7

(Fonte dati: Slatnar, M., 2015: Narodna sestava prebivalstva na Jesenicah. Zaključna seminarska naloga, p. 35. Filozofska fakulteta. Oddelek za geografijo. Ljubljana)

(2 punti)



### Geografia dell'Italia 1

18. Elencate tre dei principali fattori che determinano il clima del territorio italiano.

- 1 \_\_\_\_\_
- 2 \_\_\_\_\_
- 3 \_\_\_\_\_

(2 punti)

19. Indicate quale delle due città italiane tra La Spezia e Firenze, rappresentate nei diagrammi della figura 8, ha la maggiore escursione termica, e spiegate il motivo.

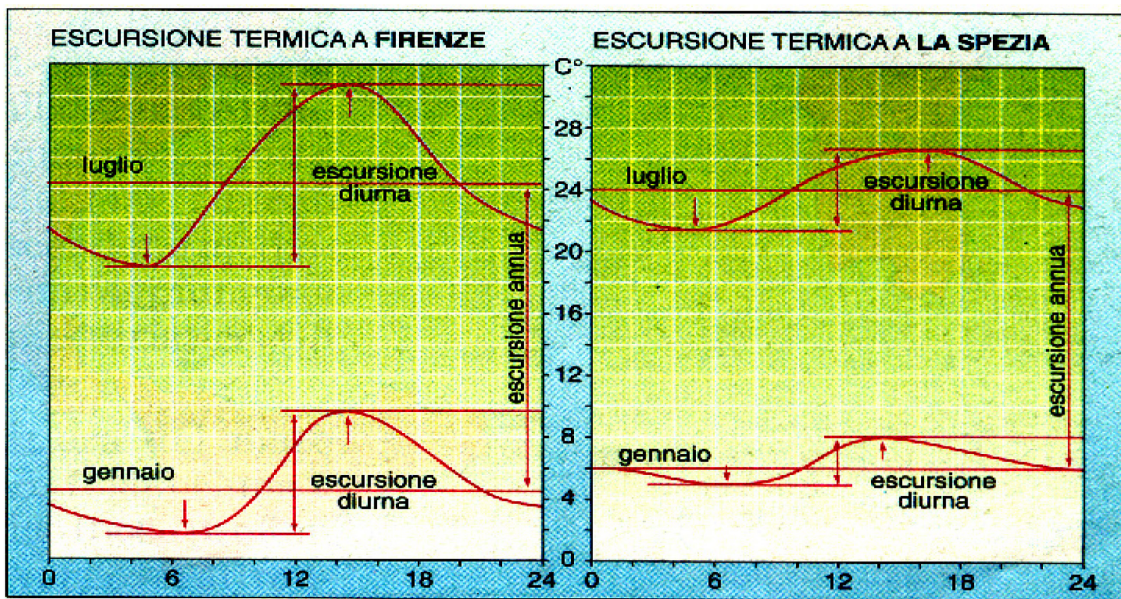


Figura 8

(Fonte: Geoidea. Territorio, società ed economia in Italia-Europa, p. 19. Istituto geografico De Agostini. Novara, 1998)

Città con la maggiore escursione termica: \_\_\_\_\_

Motivazione: \_\_\_\_\_

\_\_\_\_\_  
\_\_\_\_\_

(2 punti)



20. Il climogramma rappresentato nella figura 9 indica le caratteristiche climatiche di una località italiana. Osservatelo attentamente e rispondete alle domande.

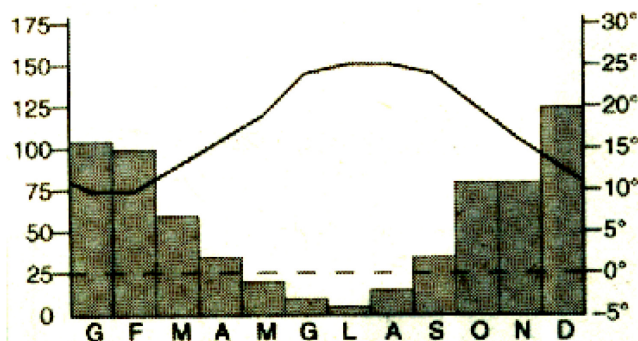


Figura 9

(Adattato da: Bacchi, G., Lodrillo, A., 2004: Attraverso i territori 2000. Libro per l'insegnante, p. 38. Bulgarini editore. Firenze)

Si tratta di una località dell'Italia insulare o alpina? Che tipo di clima rappresenta?

Località: \_\_\_\_\_

Tipo di clima: \_\_\_\_\_

(2 punti)

21. Osservate la carta meteorologica nella figura 13 dell'allegato a colori e rispondete alle domande.

Che tipo di tempo interessa la parte settentrionale dell'Italia?

\_\_\_\_\_

A quanto ammonta la pressione atmosferica nell'Italia settentrionale?

\_\_\_\_\_ hPa (mb)

Che tipo di tempo interesserà la Pianura padana nei prossimi giorni?

\_\_\_\_\_

Motivate la vostra previsione: \_\_\_\_\_

\_\_\_\_\_

\_\_\_\_\_

(4 punti)

**Geografia dell'Italia 2**

22. Cerchiate la lettera che precede le affermazioni esatte.

- A In Italia le regioni meno densamente popolate sono quelle montuose.
- B La popolazione italiana è oggi caratterizzata da un progressivo invecchiamento.
- C Ancora oggi vi è un forte divario economico e sociale tra il Nord e il Sud dell'Italia.
- D In Italia, la maggioranza della popolazione attiva lavora nell'industria.

(2 punti)

23. Scegliete il completamento esatto delle seguenti affermazioni cerchiandolo.

La maggiore regione geografica urbanizzata dell'Italia è la  
costa / Pianura padana.

Molti degli immigrati extracomunitari giungono in Italia in modo  
regolare / irregolare.

Oggi, la maggior parte della popolazione italiana trova impiego nel settore economico  
terziario / secondario.

Negli ultimi decenni in Italia sono affluiti molti immigrati perché  
provengono da zone in cui sono perseguitati / in Italia la disoccupazione è  
diminuita.

(2 punti)

**VOLTATE IL FOGLIO.**



24. Scrivete a quali numeri della carta, rappresentati nella figura 10, corrispondono le sottostanti città italiane.



Figura 10

(Fonte: Bacchi, G., Lodrillo, A., 2004: Attraverso i territori 2000. Libro per l'insegnante, p. 46. Bulgarini editore. Firenze)

- \_\_\_\_\_ Roma
- \_\_\_\_\_ Bologna
- \_\_\_\_\_ Milano
- \_\_\_\_\_ Firenze
- \_\_\_\_\_ Napoli
- \_\_\_\_\_ Cagliari
- \_\_\_\_\_ Torino
- \_\_\_\_\_ Bari
- \_\_\_\_\_ Palermo
- \_\_\_\_\_ Venezia
- \_\_\_\_\_ Genova
- \_\_\_\_\_ Trieste

(2 punti)



25. Indicate le due spiegazioni corrette di ciascuno dei seguenti fenomeni geografici, cerchiandone le rispettive lettere.

In Italia nell'ultimo secolo si è avuta una forte crescita della popolazione urbana perché:

- A le vie di comunicazione sono migliorate
- B le attività industriali sono cresciute
- C molti contadini sono emigrati dalle campagne

Nel dopoguerra la percentuale degli addetti in agricoltura è molto diminuita perché:

- A si è diffusa la meccanizzazione dei lavori agricoli
- B molti agricoltori sono diventati coltivatori diretti
- C le attività industriali sono aumentate

Nel dopoguerra molti italiani sono emigrati dal Sud al Nord perché:

- A lo stato italiano aveva approvato la riforma agraria nel Sud
- B nel Nord si erano sviluppate molte industrie
- C nel Sud molte zone erano afflitte dalla disoccupazione e dalla miseria

Negli ultimi decenni in Italia si registra la tendenza all'invecchiamento della popolazione perché:

- A il tasso di mortalità è diminuito
- B il tasso di natalità è diminuito
- C il tasso di mortalità è aumentato

(4 punti)



Pagina vuota





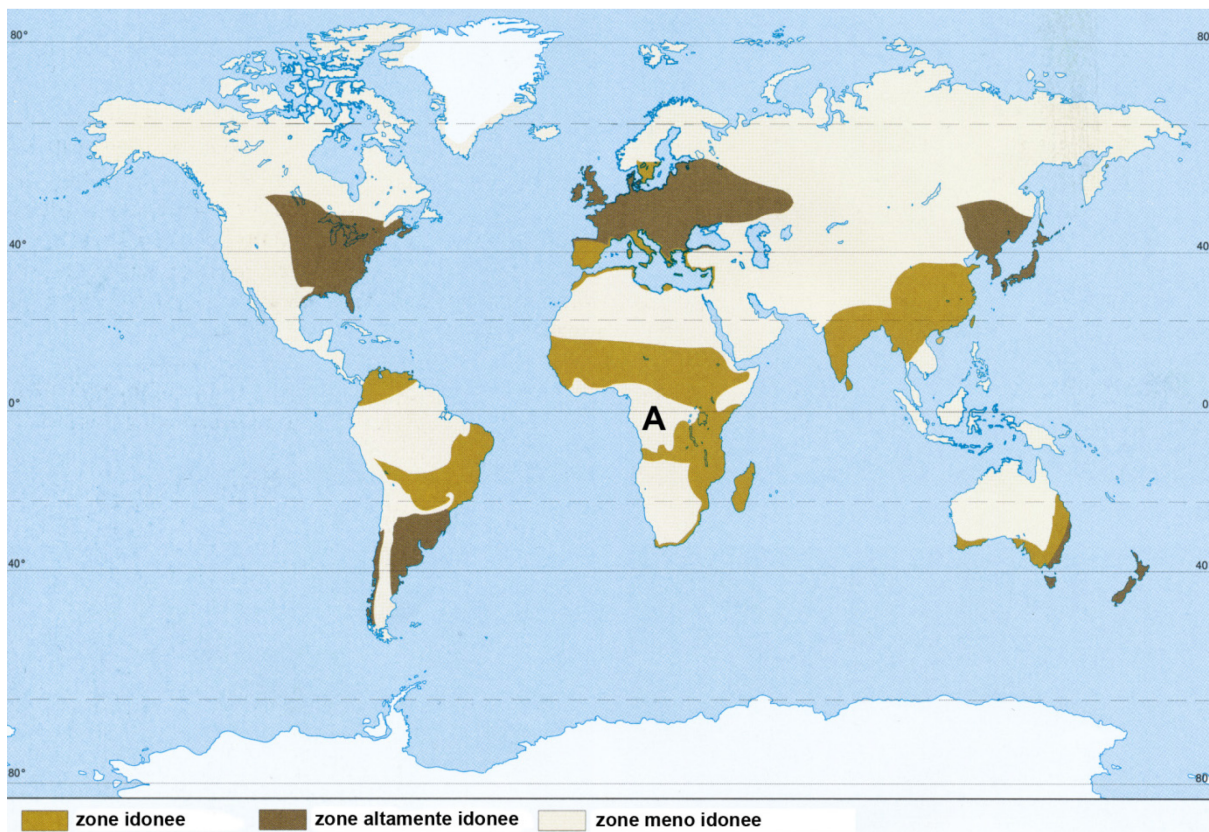
Non scrivete nel campo grigio. Non scrivete nel campo grigio. Non scrivete nel campo grigio. Non scrivete nel campo grigio. Non scrivete nel campo grigio. Non scrivete nel campo grigio. Non scrivete nel campo grigio.

**Allegato a colori (alla Prova d'esame 2)**



*Figura 11*

(Fonte: Si21 spletni portal. URL: [https://www.si21.com/f/pics/Dogodki/200906015714b\\_01\\_b.jpg](https://www.si21.com/f/pics/Dogodki/200906015714b_01_b.jpg). Consultato il 6. 10. 2016.)



*Figura 12: Idoneità dei terreni all'uso agricolo*

(Adattato da: Cunder, K., et al., 2001: Obča geografija za 1. letnik gimnazij, p. 136. Mladinska knjiga. Ljubljana)



M 1 8 2 5 0 1 3 2 1 1 8

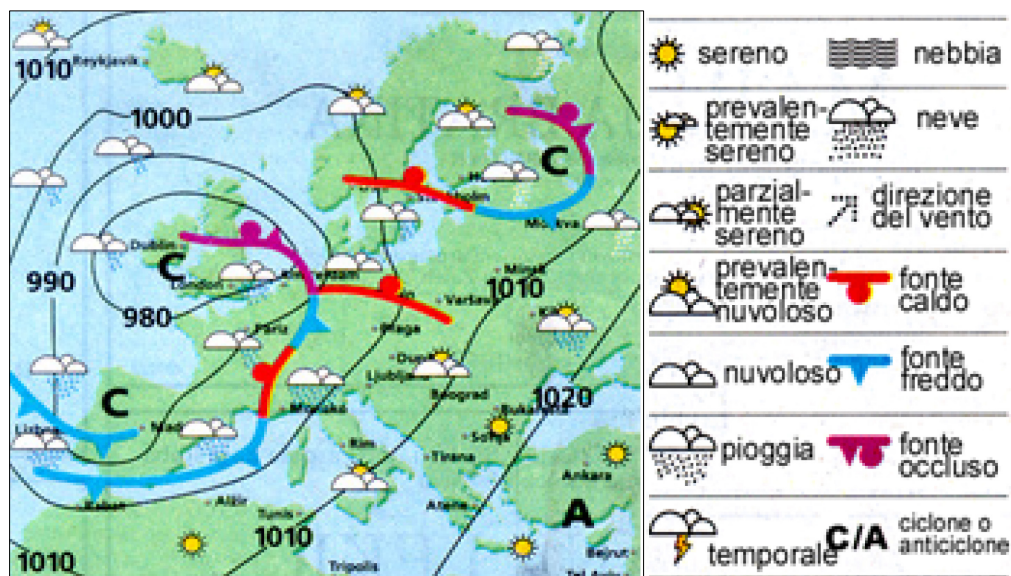


Figura 13

(Fonte: Catalogo del programma d'esame di maturità generale – geografia, p. 46. Državni izpitni center. Ljubljana, 2014)