



Codice del candidato:

Državni izpitni center



SESSIONE PRIMAVERILE

GEOGRAFIA

≡ Prova d'esame 2 ≡

Geografia della Slovenia e dell'Italia

Lunedì, 2 giugno 2008 / 80 minuti

Al candidato è consentito l'uso della penna stilografica o della penna a sfera.

Al candidato vengono consegnate due schede di valutazione.

La prova d'esame comprende un allegato a colori.

MATURITÀ GENERALE

INDICAZIONI PER I CANDIDATI

Leggete con attenzione le seguenti indicazioni.

Non aprite la prova d'esame e non iniziate a svolgerla prima del via dell'insegnante preposto.

Incollate o scrivete il vostro numero di codice negli spazi appositi su questa pagina in alto a destra e sulle due schede di valutazione.

La prova d'esame si compone di 18 quesiti, risolvendo correttamente i quali potete conseguire fino a un massimo di 40 punti. Il punteggio conseguibile in ciascun quesito viene di volta in volta espressamente indicato.

Scrivete le vostre risposte negli spazi appositamente previsti **all'interno della prova** utilizzando la penna stilografica o la penna a sfera. Formulate delle frasi complete e leggibili: in caso di errore, tracciate un segno sulla risposta scorretta e scrivete accanto ad essa quella corretta. Alle risposte e alle correzioni scritte in modo illeggibile verrà assegnato il punteggio di zero (0).

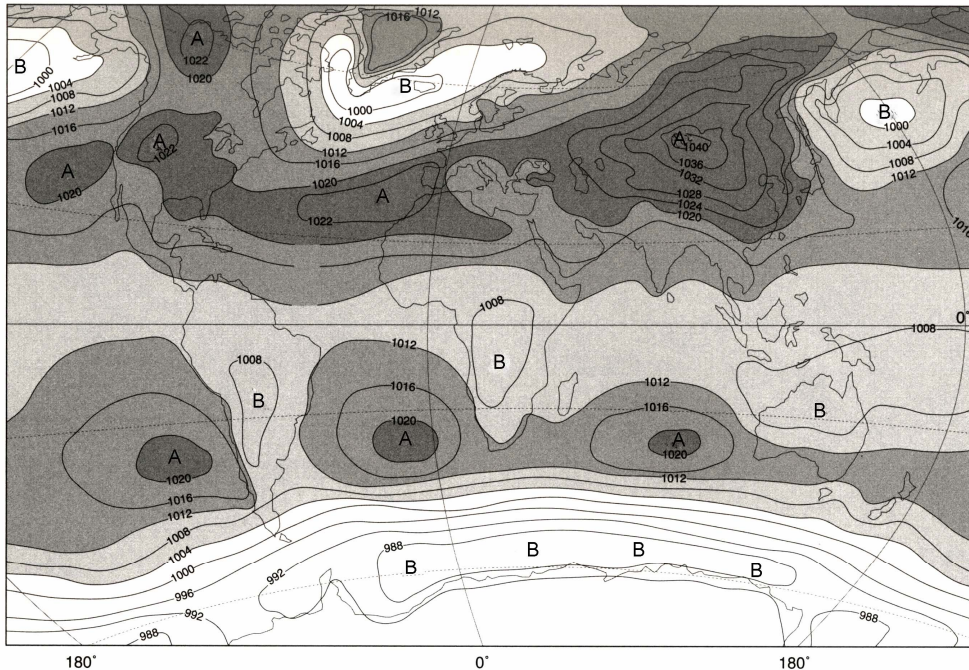
Abbiate fiducia in voi stessi e nelle vostre capacità. Vi auguriamo buon lavoro.

La prova si compone di 12 pagine, di cui 3 bianche. L'allegato a colori ha 2 pagine, di cui 1 bianca.

D1 – LA SLOVENIA

1. Osservate attentamente la **cartina n. 1** e indicate il **tipo di pressione atmosferica** presente sull'Asia centrale; indicate inoltre l'**influenza che esso esercita** sulle temperature e sulla nuvolosità in Slovenia cercando le risposte esatte.

Cartina n. 1



(Fonte: Kunaver, J., in drugi, 1996: Obča geografija, delovni zvezek, p. 20. DZS. Ljubljana)

Tipo di pressione atmosferica: _____

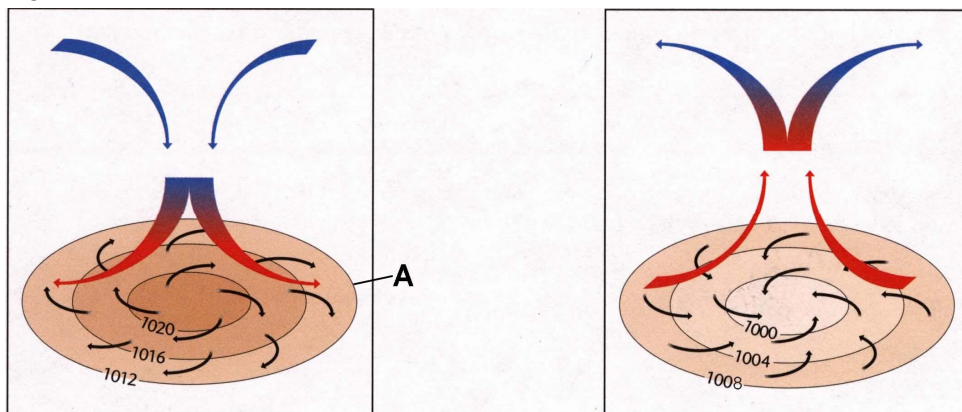
Temperature: basse medie elevate

Cielo: nuvoloso parzialmente nuvoloso sereno

(2 punti)

2. Indicate il nome della linea che nella **figura n. 1** è contrassegnata dalla lettera **A** e cerchiare la figura che rappresenta la circolazione atmosferica prevalente in Slovenia nella situazione meteorologica rappresentata nella **cartina n. 1**.

Figura n. 1



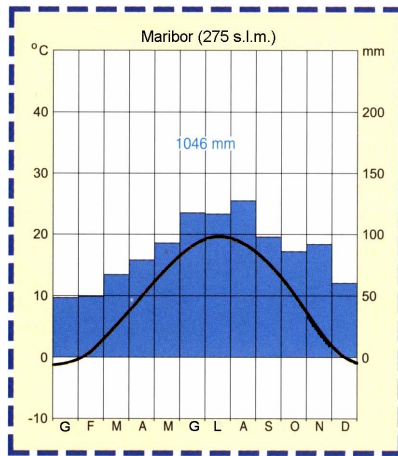
(Fonte: Senegačnik, J., in drugi, 2003: Obča geografija, delovni zvezek, p. 24. Modrijan. Ljubljana)

Il nome della linea è _____.

(2 punti)

3. Il **climatogramma n. 1** rappresenta le caratteristiche climatiche di una delle località slovene. Si tratta di una località della Slovenia **submediterranea, subpannonica o alpina?**

Climatogramma n. 1



_____ (1 punto)

(Fonte: Senegačnik, J., in drugi, 2000: *Živim v Sloveniji*, p. 27. Modrijan. Ljubljana)

4. Indicate **una** delle **macroregioni** che **non è stata scelta** nella **domanda n. 3** e, facendo riferimento alle caratteristiche delle temperature e delle precipitazioni che la distinguono, spiegate perchè il **climatogramma n. 1** non la rappresenta.

Macroregione: _____

Precipitazioni: _____

Temperature: _____

_____ (2 punti)

5. La **bora** è un vento forte e violento molto frequente anche in Slovenia. Descrivete questo vento secondo le caratteristiche elencate qui sotto.

Nome della regione submediterranea in cui soffia: _____

Da quale punto cardinale soffia più frequentemente: _____

In quale stagione è più frequente: _____

Opere di protezione e adattamento, realizzate dalla gente delle regioni in cui soffia: _____

_____ (3 punti)

D2 – LA SLOVENIA

6. Indicate il nome dell' **altopiano** e del **sistema montano** (ubicati nelle aree dei parchi) che sono contrassegnati dai numeri **10** e **11** nell' **allegato 1 (Allegato alla Prova d'esame 2)**.

10 (sistema montano): _____

11 (altopiano): _____

(2 punti)

7. Indicate il nome del parco contrassegnato dal numero **1** nell' **allegato 1 (Allegato alla Prova d'esame 2)** ed elencate i motivi che inducono alla **creazione** di aree protette.

Parco: _____

Motivi:

1 _____

2 _____

(2 punti)

8. **L'allegato 2 (Allegato alla Prova d'esame 2)** evidenzia l'impatto ambientale che l'agricoltura ha esercitato in Slovenia nel corso dell'anno 2000. Descrivete due differenti problemi **ambientali** che si manifestano nelle aree ad impatto critico.

1 _____

2 _____

(2 punti)

9. Oltre all'agricoltura, anche altri settori di attività economica esercitano un effetto negativo sull'ambiente. Presentate due differenti **cause** che hanno notevolmente contribuito all'**inquinamento** della valle della Mežica e della regione del Črni revir.

Valle della Mežica: _____

Črni revir: _____

(2 punti)

10. Tra le seguenti regioni della Slovenia, cerchiare quella a **rischio demografico**.

Polje della Drava Montagne di Idrija Conca di Velenje

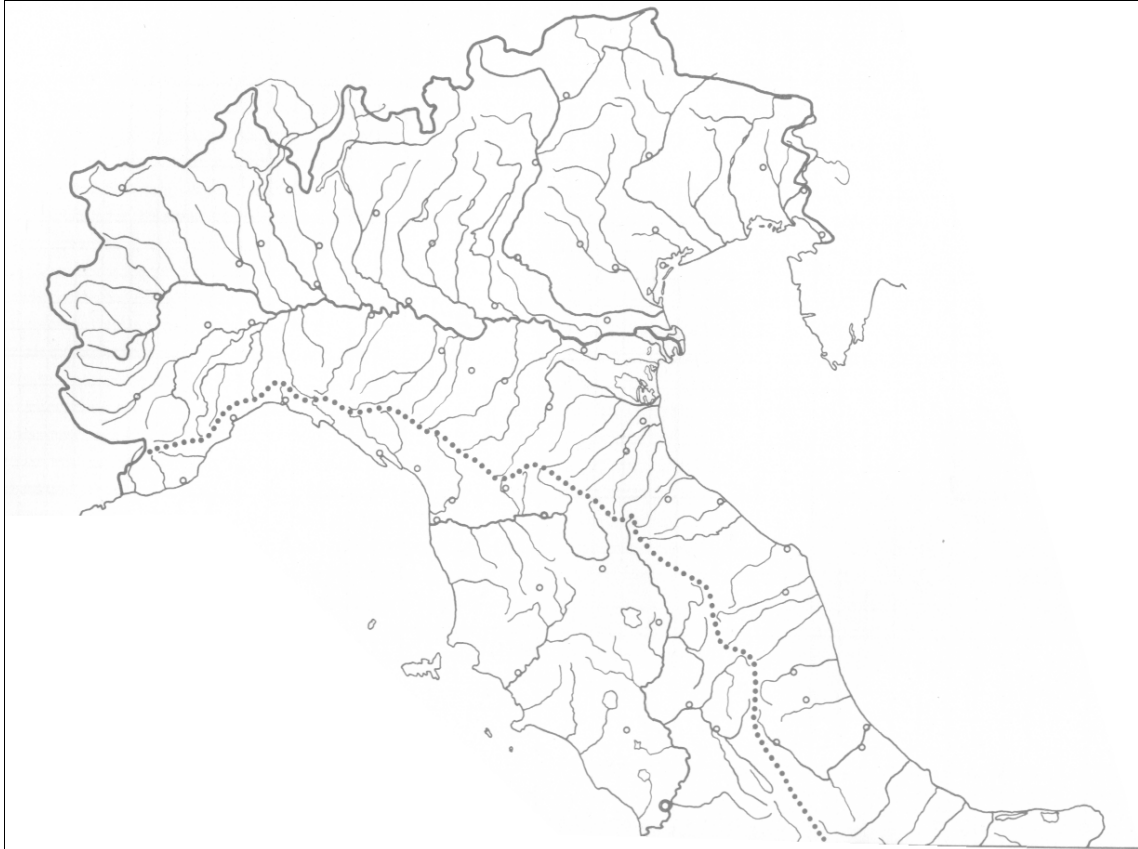
Spiegate qual è la causa di ordine **geografico-naturale** che mette a rischio demografico questa regione.

(2 punti)

E1 – L'ITALIA

11. Dopo aver osservato attentamente la rete idrografica rappresentata nella **cartina n. 2**, rispondete alle seguenti domande cerchiando la lettera che precede la risposta esatta.

Cartina n. 2: Reticolo idrografico dell'Italia settentrionale e centrale



(Fonte: G. Facca, *Quaderno di geografia: Italia, Sansoni, p. 20*)

- | | | |
|---|---------------|-------------|
| Quali affluenti del Po attraversano laghi? | A Di sinistra | B Di destra |
| Quali sono in genere gli affluenti più lunghi del Po? | A Di sinistra | B Di destra |
| Quali affluenti scorrono da Sud a Nord? | A Di sinistra | B Di destra |
| Quali affluenti scorrono da Nord a Sud? | A Di sinistra | B Di destra |

(2 punti)

12. Cerchiate la lettera che precede le **due** affermazioni esatte.

- A L'Arno è un fiume appenninico con foce nel Tirreno.
- B Il Ticino è un affluente dell'Adige.
- C La zona delle risorgive si situa tra l'alta e la bassa pianura Padana.
- D I laghi di Garda e di Como sono di origine artificiale.

(2 punti)

13. Rispondete alle seguenti domande cerchiando la lettera che precede la risposta esatta.

- | | | |
|-------------------------------------|--------------|--------------|
| Dove si trovano le sorgenti del Po? | A Monte Rosa | B Monviso |
| Dove sfocia il Piave? | A Mar Ligure | B Adriatico |
| Che forma ha la foce del Po? | A A delta | B A estuario |
| In quale direzione scorre l'Arno? | A Est-Ovest | B Nord-Sud |

(2 punti)

14. Rispondete alle seguenti domande cerchiando la lettera che precede la risposta esatta, e motivate la vostra scelta.

- Quali affluenti del Po presentano un regime nivale? A Di sinistra B Di destra

MOTIVAZIONE:

Tra i fiumi appenninici quali presentano un regime più regolare?

- A Del versante adriatico B Del versante tirrenico

MOTIVAZIONE:

(4 punti)

E2 – L'ITALIA

15. Completate le due seguenti frasi.

La regione italiana più dotata di risorse minerarie è _____.

L'Italia è _____ di risorse minerarie a causa della sua struttura geologica, in cui prevalgono rocce di recente formazione.

(2 punti)

16. Cerchiate la lettera che precede le **due** affermazioni esatte.

A Sulle Alpi si trovano numerose centrali idroelettriche.

B L'Italia è autosufficiente per il consumo di petrolio.

C La morfologia del territorio italiano è stato un fattore positivo per lo sviluppo dell'industria.

D L'industria automobilistica italiana è stata uno dei rami principali dell'industria meccanica.

(2 punti)

17. Rispondete alle seguenti domande

A Indicate il nome della fonte energetica più consumata in Italia:

B Indicate il nome della risorsa energetica più abbondante in Italia:

(2 punti)

18. Indicate quattro condizioni favorevoli che hanno determinato la crescita industriale dell'ambiente geografico padano:

A _____

B _____

C _____

D _____

(4 punti)

Pagina bianca

Pagina bianca

Pagina bianca