



Codice del candidato:

Državni izpitni center



SESSIONE PRIMAVERILE

GEOGRAFIA

≡ Prova d'esame 2 ≡

Geografia generale – Geografia della Slovenia e dell'Italia

Martedì, 6 giugno 2017 / 90 minuti

Materiali e sussidi consentiti:

Al candidato è consentito l'uso della penna stilografica o della penna a sfera.

La prova d'esame comprende un allegato a colori.

MATURITÀ GENERALE

INDICAZIONI PER I CANDIDATI

Leggete con attenzione le seguenti indicazioni.

Non aprite la prova d'esame e non iniziate a svolgerla prima del via dell'insegnante preposto.

Incollate o scrivete il vostro numero di codice negli spazi appositi su questa pagina in alto a destra.

La prova d'esame si compone di 24 quesiti, risolvendo correttamente i quali potete conseguire fino a un massimo di 50 punti. Il punteggio conseguibile in ciascun quesito viene di volta in volta espressamente indicato.

Scrivete le vostre risposte all'interno della prova, **nei riquadri appositamente previsti**, utilizzando la penna stilografica o la penna a sfera. Formulate delle frasi complete e leggibili: in caso di errore, tracciate un segno sulla risposta scorretta e scrivete accanto a essa quella corretta. Alle risposte e alle correzioni scritte in modo illeggibile verranno assegnati 0 punti.

Abbiate fiducia in voi stessi e nelle vostre capacità. Vi auguriamo buon lavoro.

La prova si compone di 16 pagine (1-16), di cui 4 vuote. L'allegato a colori si compone di 2 pagine (17-18).

Non scrivete nel campo grigio. Non scrivete nel campo grigio. Non scrivete nel campo grigio. Non scrivete nel campo grigio. Non scrivete nel campo grigio. Non scrivete nel campo grigio.



Pagina vuota

VOLTATE IL FOGLIO.



Geografia generale

1. Accanto a ciascuna descrizione, riportata nella tabella, indicate il corrispondente tipo di abitato rurale (provinciale).

Descrizione	Tipo di abitato rurale (provinciale)
Piccolo centro abitato, che accanto alle fattorie isolate è tipico delle zone montano-collinari.	
Forma più frequente di villaggi accentrati dove le case sono disposte senza ordine.	

(2 punti)

2. Indicate la prevalente funzione della genesi urbana, rappresentata nella figura 6 dell'allegato a colori e cerchiare il quartiere rappresentato in primo piano.

Funzione di formazione: _____

Quartiere: centro degli affari residenziale dell'istruzione commerciale

(2 punti)

3. La figura 1 rappresenta la proiezione della variazione del numero di abitanti nelle regioni del mondo tra gli anni 2015 e 2100. Descrivete la causa per la prevista variazione del numero di abitanti in Europa. Cerchiate SÌ se l'affermazione che riguarda la popolazione dell'Africa è esatta, oppure NO se è errata.

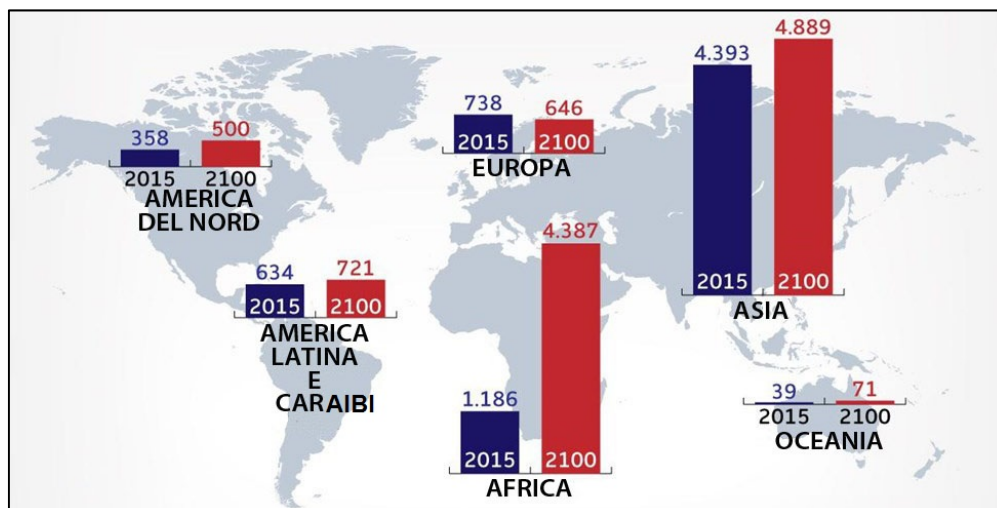


Figura 1

(Adattato da: http://psn.sdn.si/sn/img/s975x650/15/223/635748997651286549_populacija_svet_prebivalstvo_1200.jpg. Consultato il 25. 10. 2015.)

Descrizione: _____

Sulla crescita della popolazione in Africa influiranno in modo decisivo le migrazioni. SÌ NO

(2 punti)



4. Con l'aiuto della legenda nella figura 7 dell'allegato a colori riportate la densità di popolazione dell'Alaska e indicate il fattore climatico che influisce in modo decisivo sulla densità di popolazione in questa regione.

Densità di popolazione: _____

Fattore climatico: _____

(2 punti)

5. Con la descrizione della causa e delle conseguenze spiegate la conseguenza economica e demografica della suburbanizzazione dei centri abitati provinciali in vicinanza delle città.

Conseguenza economica: _____

Conseguenza demografica: _____

(2 punti)



Slovenia 1

6. Indicate il nome del campo di pressione atmosferico che si forma sulle isole Azzorre e descrivete gli effetti da esso esercitati sulla temperatura e sulla nuvolosità in Slovenia cerchiando le due risposte esatte.

Campo di pressione: _____

Temperature: basse medie elevate

Nuvolosità: sereno parzialmente nuvoloso nuvoloso

(2 punti)

7. La figura 2 rappresenta le caratteristiche climatiche di Maribor. Inserite nei riquadri, il corrispondente valore delle temperature e delle precipitazioni. Scegliete tra i seguenti valori:
temperature: 0 °C, 5 °C, 10 °C, 15 °C, 20 °C,
precipitazioni: 50 mm, 100 mm, 150 mm, 200 mm.

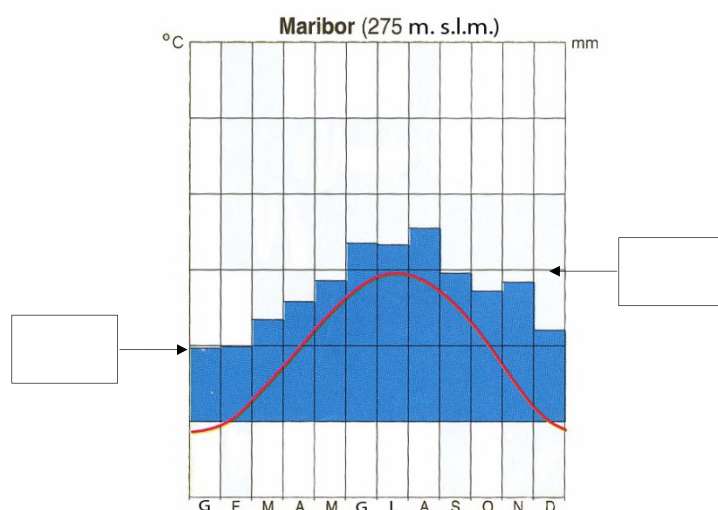


Figura 2

(Adattato da: Senegačnik, J., et al, 2000: Živim v Sloveniji, Geografija za 8. razred OŠ, p. 27. Modrijan. Ljubljana)

(2 punti)

8. Cerchiate le lettere che precedono le due affermazioni esatte.
- A A Lubiana il massimo delle precipitazioni si ha in estate, la quantità di precipitazioni annue è superiore a quella di Lendava.
 - B Nel clima montano, che si manifesta anche sulle cime più elevate di alcuni altipiani dinarici, le temperature medie mensili, durante tutto l'anno, sono più basse rispetto ad altre.
 - C La differenza nelle temperature medie annue è maggiore tra Portorose ed il Triglav (Tricorno) che non tra Portorose e Murska Sobota.
 - D Nella Slovenia sud-occidentale la quantità massima di precipitazioni si ha in inverno, le temperature primaverili sono più elevate di quelle autunnali.

(2 punti)



M 1 7 1 5 0 1 3 2 1 0 7

Non scrivete nel campo grigio. Non scrivete nel campo grigio. Non scrivete nel campo grigio. Non scrivete nel campo grigio. Non scrivete nel campo grigio.

9. Con l'aiuto della figura 8 dell'allegato a colori, spiegate perché in questa situazione meteorologica, in Slovenia spesso si ha il fenomeno della bora. Nella spiegazione deve essere opportunamente inserita la direzione della bora.

(2 punti)

10. In base alla figura 8 dell'allegato a colori, il ciclone sull'Oceano Atlantico si sposterà verso est. Spiegate l'influenza di questo spostamento sulla variazione delle temperature in Slovenia.

(2 punti)



Slovenia 2

11. Tra i fattori di distribuzione dell'industria, cerchiare i due che hanno maggiormente influito sullo sviluppo dell'industria tessile a Murska Sobota.

fonte energetica

politica dello sviluppo policentrico

materie prime

forza lavoro

vie di comunicazione e traffici

(2 punti)

12. Descrivete due differenti effetti negativi sull'ambiente, oltre a quello del rumore, provocati dalle centrali elettriche eoliche.

1 _____

2 _____

(2 punti)

13. Indicate il nome del collegamento viario che ha permesso un rapido sviluppo delle miniere di carbone del Črni revir nella seconda metà del XIX secolo.

(1 punto)

14. Spiegate due conseguenze demografiche dello sviluppo dell'estrazione del carbone nei maggiori centri abitati del Črni revir.

1 _____

2 _____

(2 punti)



15. Nelle figure 3, 4, 5 è rappresentata la trasformazione delle percentuali di addetti nel settore primario, secondario e terziario tra gli anni 1953 e 2002 in Slovenia. Trascrivete il numero della figura che rappresenta la trasformazione della percentuale di addetti nel settore secondario. Con la descrizione della causa e delle conseguenze, spiegate la variazione della percentuale di addetti in questo settore dopo il 1991.

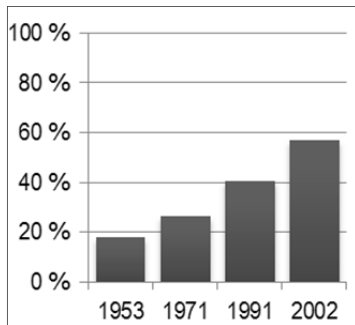


Figura 3

(Adattato da: <https://www.stat.si/popis2002/gradivo/popisna.pdf>. Consultato il 25. 11. 2015.)

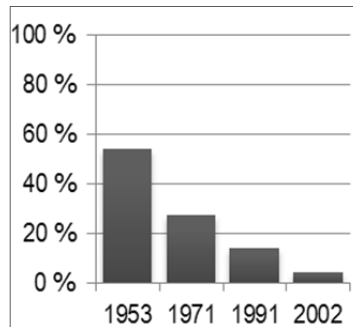


Figura 4

(Adattato da: <https://www.stat.si/popis2002/gradivo/popisna.pdf>. Consultato il 25. 11. 2015.)

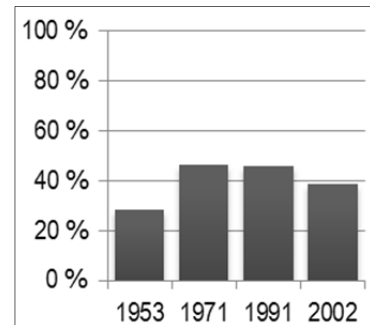


Figura 5

(Adattato da: <https://www.stat.si/popis2002/gradivo/popisna.pdf>. Consultato il 25. 11. 2015.)

Numero della figura: _____

Spiegazione: _____

(3 punti)



Geografia dell'Italia 1

16. Completate la seguente definizione utilizzando correttamente metà dei termini elencati nel sottostante riquadro.

Primaria – detritico – marino – sud – alluvionale – piccola – grande – nord – morfologica –
 quaternaria – emerse – caratteristico – si sciolse – atmosferico

La pianura Padana si situa a _____ delle Alpi ed è la più _____ pianura italiana. Si tratta di una pianura di origine _____ formatasi nell'era _____ nel periodo delle glaciazioni, quando il materiale _____ trasportato dai fiumi che scendevano dalle Alpi e dagli Appennini _____ dopo essersi lentamente accumulato sul fondo _____

(2 punti)

17. Cerchiate SÌ se l'affermazione che riguarda la bassa pianura è esatta, NO se invece risulta errata.

È costituita da materiali più fini e leggeri dell'alta pianura.	SÌ	NO
È meno fertile rispetto all'alta pianura.	SÌ	NO
È composta di materiali permeabili.	SÌ	NO
Utilizza l'acqua delle risorgive.	SÌ	NO

(2 punti)

18. Cerchiate le lettere che precedono le tre affermazioni esatte.

Il carattere continentale del clima della Pianura Padana è dato da:

- A estati calde e inverni freddi
- B estati fresche e inverni miti
- C precipitazioni contenute e prevalentemente invernali
- D precipitazioni moderate e prevalentemente autunnali
- E escursione termica annua contenuta
- F escursione termica annua elevata

(2 punti)



19. Rispondete alle seguenti domande cercando la lettera che precede la risposta esatta, e motivate la vostra scelta.

Quali affluenti del Po hanno un regime nivale?

A di destra B di sinistra

Motivazione:

Che forma ha la foce del Po?

A a laguna B a delta

Motivazione:

(4 punti)



Geografia dell'Italia 2

20. Indicate due dei fondamentali scopi di sfruttamento delle risorgive da parte della popolazione padana.

Scopo: _____

Scopo: _____

(2 punti)

21. Cerchiate le lettere che precedono le due affermazioni esatte.

- A In Italia il terziario è il settore economico con il maggior numero di occupati.
 B Le regioni meridionali si caratterizzano per l'elevato numero di occupati nella pubblica amministrazione.
 C Le regioni del Nord, in particolare la Lombardia e il Piemonte, sono specializzate nel turismo.

(2 punti)

22. A seconda del tipo di sviluppo industriale, l'Italia può essere suddivisa in tre aree: forti, intermedie e periferiche.

Nelle colonne, accanto alle tre aree industriali, inserisci le lettere che precedono le corrispondenti regioni e specializzazioni, scegliendole tra quelle riportate sotto.

Regioni: A nord orientali
 B meridionali e isole
 C nord occidentali

Specializzazioni: D grandi industrie con macchinari e tecnologie avanzate
 E poche industrie presenti solo in alcune zone
 F piccole e medie aziende specializzate

Aree	Regioni	Specializzazioni
Aree forti		
Aree intermedie		
Aree periferiche		

(2 punti)



23. Negli spazi che seguono le affermazioni, trascrivi le lettere corrispondenti alle rispettive conseguenze.

Affermazioni:

Il territorio italiano è molto montuoso e non facilita le comunicazioni. _____

Lo sviluppo del turismo ha modificato l'economia di alcune zone d'Italia. _____

Negli ultimi anni il prezzo del petrolio e la crisi economica sono in costante crescita. _____

Conseguenze:

- A L'industria automobilistica italiana è in forte crisi.
- B La maggior parte della ferrovia italiana fu costruita lungo le coste e nelle zone di pianura.
- C Le attività come l'agricoltura e la pesca sono ora marginali.

(2 punti)

24. La più vasta area periferica d'Italia è rappresentata dal Mezzogiorno e dalle isole. Nonostante gli interventi dello Stato, lo sviluppo industriale di quest'area risulta limitato e caratterizzato da forti squilibri.

Indicate due fattori che influiscono negativamente sullo sviluppo economico del Mezzogiorno.

Fattore: _____

Fattore: _____

(2 punti)



Pagina vuota



Pagina vuota



Pagina vuota



M 1 7 1 5 0 1 3 2 1 1 7

Allegato a colori (alla Prova d'esame 2)



Figura 6

(Fonte: http://img18.rajce.idnes.cz/d1802/3/3581/3581800_0c76b639203fe3e22b37a6cf3abf3a2f/images/P1040988.JPG. Consultato il 25. 10. 2015.)

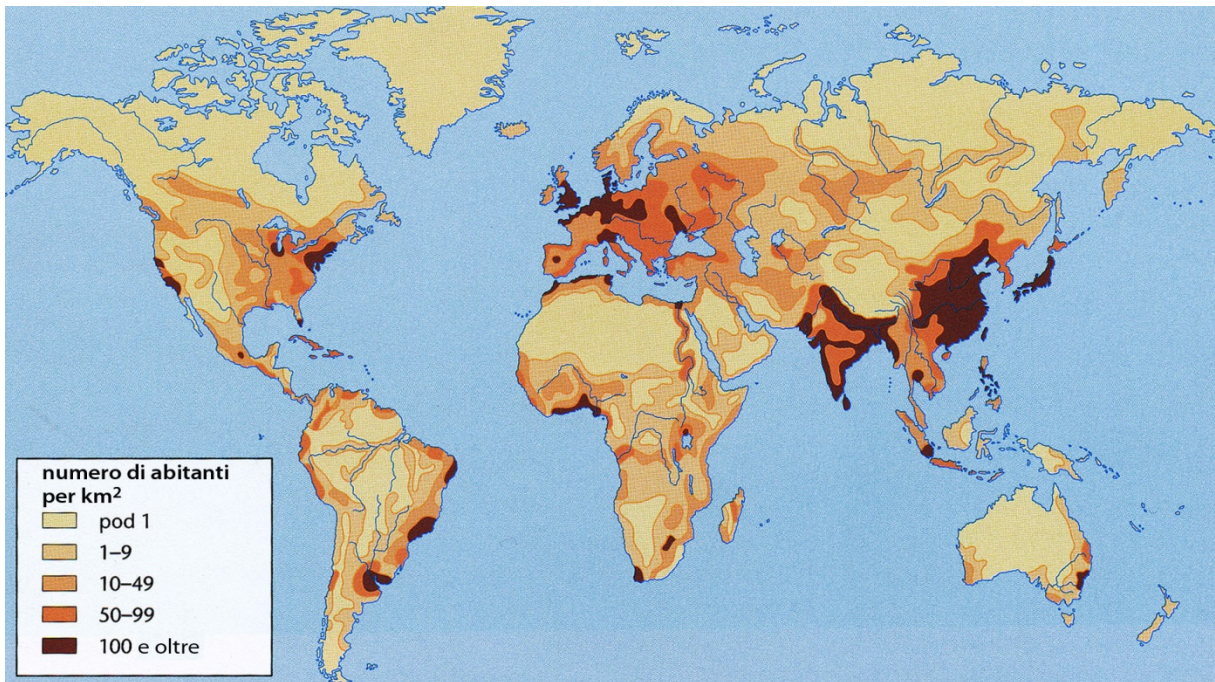


Figura 7

(Fonte: Senegačnik, J., et al., 2012: Obča geografija za 1. letnik gimnazij, p. 138. Modrijan. Ljubljana)

Non scrivete nel campo grigio. Non scrivete nel campo grigio. Non scrivete nel campo grigio. Non scrivete nel campo grigio. Non scrivete nel campo grigio.

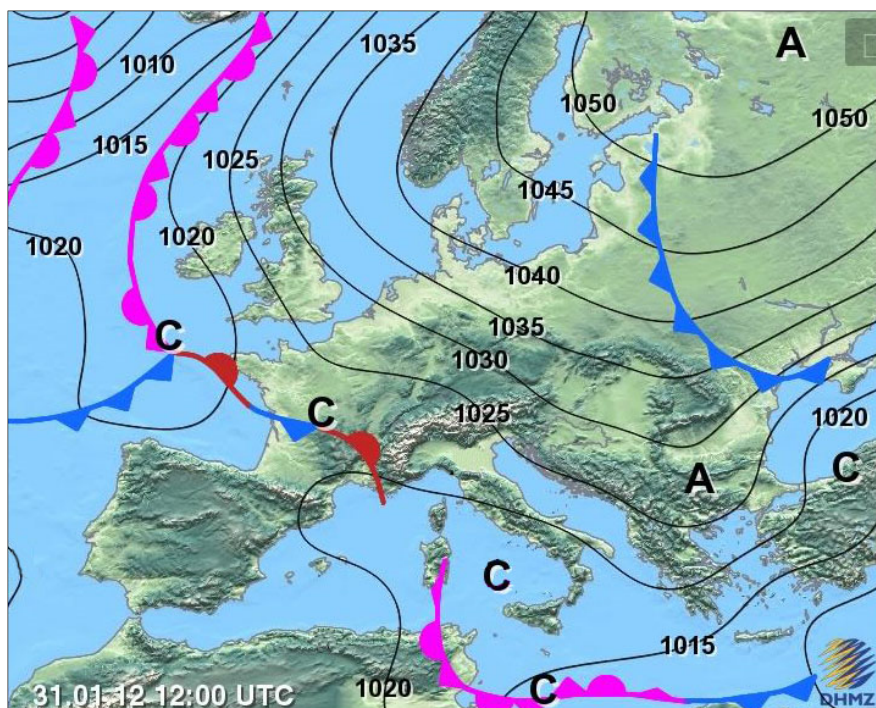


Figura 8

(Fonte: http://i96.photobucket.com/albums/l189/meteopehlin/trash/web_frente_sutra12-8.jpg. Consultato il 25. 12. 2015.)