



Š i f r a u č e n c a :

Državni izpitni center



REDNI ROK

3.
obdobje



Torek, 14. maj 2013 / 60 minut

Dovoljeno gradivo in pripomočki: Učenec prinese modro/črno nalivno pero ali moder/črn kemični svinčnik, svinčnik, radirko, šilček, barvne svinčnike in ravnilo. Preizkusu je priložena barvna priloga.

NACIONALNO PREVERJANJE ZNANJA

ob koncu 3. obdobja

NAVODILA UČENCU

Natančno preberi ta navodila.

Prilepi kodo oziroma vpiši svojo šifro v okvirček desno zgoraj na tej strani.

Pri vsaki nalogi svoj odgovor napiši v predvideni prostor znotraj okvirja.

Piši čitljivo. Če se zmotiš, napačni odgovor prečrtaj in pravilnega napiši na novo.

Barvne svinčnike in svinčnik uporablaj samo za risanje ali načrtovanje.

Nečitljivi zapisi in nejasni popravki se ovrednotijo z nič točkami.

Če se ti zdi naloga pretežka, se ne zadržuj predolgo pri njej, temveč začni reševati naslednjo.

K nerešeni nalogi se vrni pozneje. Na koncu svoje odgovore ponovno preveri.

Zaupaj vase in v svoje zmožnosti. Želimo ti veliko uspeha.

Preizkus ima 21 strani, od tega 1 barvno prilogo.



Manj primerna območja za kmetijsko rabo

4. Nalogo boš reševal z uporabo zemljevida na sliki 3 na barvni prilogi.

V legendi na zemljevidu na sliki 3 na barvni prilogi so oznake območij, ki so manj primerna za kmetijsko rabo. Na črto pred napisani vzrok napiši črko (iz legende) tistega območja, na katerem je ta vzrok povzročil manjšo primernost za kmetijsko rabo.

VZROKI:

_____ Presuho.

_____ Prestrmo.

(2 točki)

5. Nalogo boš reševal z uporabo zemljevida na sliki 3 na barvni prilogi.

Ugotovi, katera od naštetih dejavnikov najbolj vplivata na manjšo primernost prsti za kmetijsko rabo.

Obkroži črki pred dvema pravilnima odgovoroma.

- A Živalstvo.
- B Podnebje.
- C Rastlinstvo.
- D Vodovje.
- E Relief.

(2 točki)

Poselitev ekvatorialnega pasu Afrike

6. Gastota poselitve Visoke ekvatorialne Afrike je večja kakor gostota poselitve Nizke ekvatorialne Afrike. Razloži, kako podnebje vpliva na večjo gostoto poselitve Visoke ekvatorialne Afrike.

Odgovor napiši na črte.

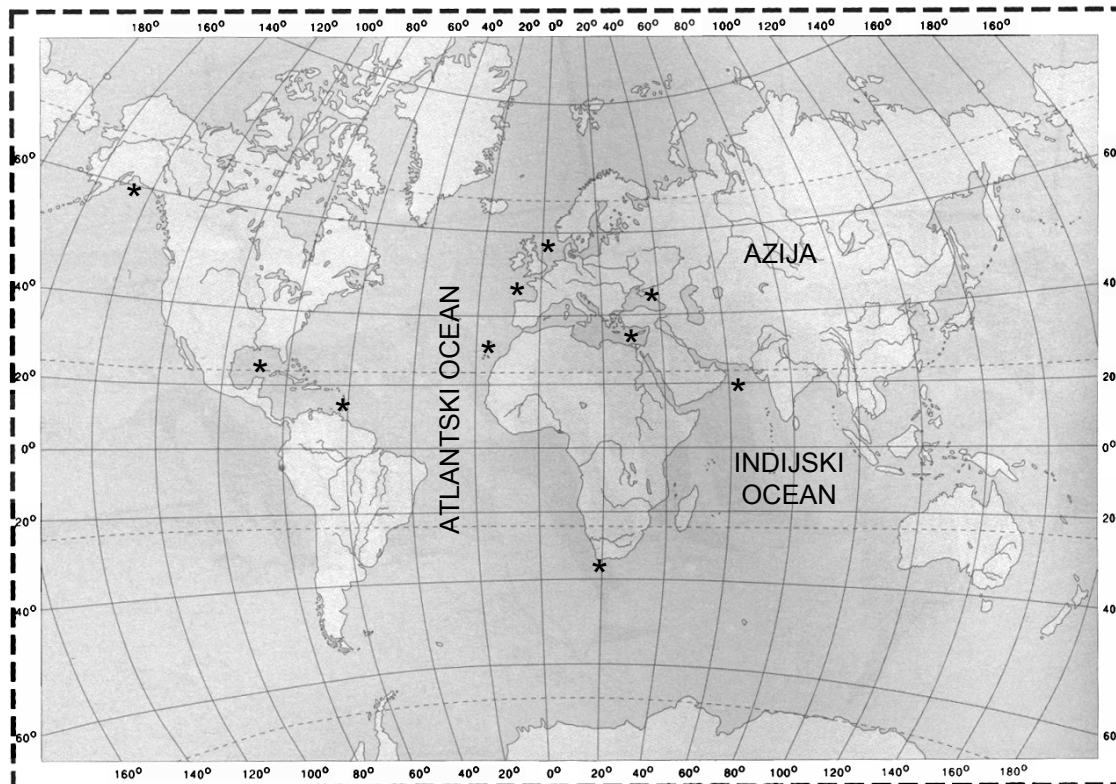
(1 točka)



Razlitje nafte

8. Nalogo boš reševal z uporabo zemljevida na sliki 3.

Na zemljevidu na sliki 3 so z zvezdicami označena območja, kjer so pogoste nesreče, katerih posledice so večja razlitja nafte.



Legenda:

* Območja nesreč, katerih posledice so razlitja nafte.

Slika 3: Območja nesreč, katerih posledice so razlitja nafte

(Vir: Kolenc - Kolnik, K., Otič, M., Vovk, A., 1997. Sodobni svet: Geografija za 7. razred osnovne šole. Delovni zvezek. Ljubljana, Modrijan.)

Razloži, zakaj se na označenih območjih na zemljevidu na sliki 3 pogosteje dogajajo nesreče in s tem razlitja nafte.

Na črte napiši dve razlagi.

Razlaga 1: _____

Razlaga 2: _____

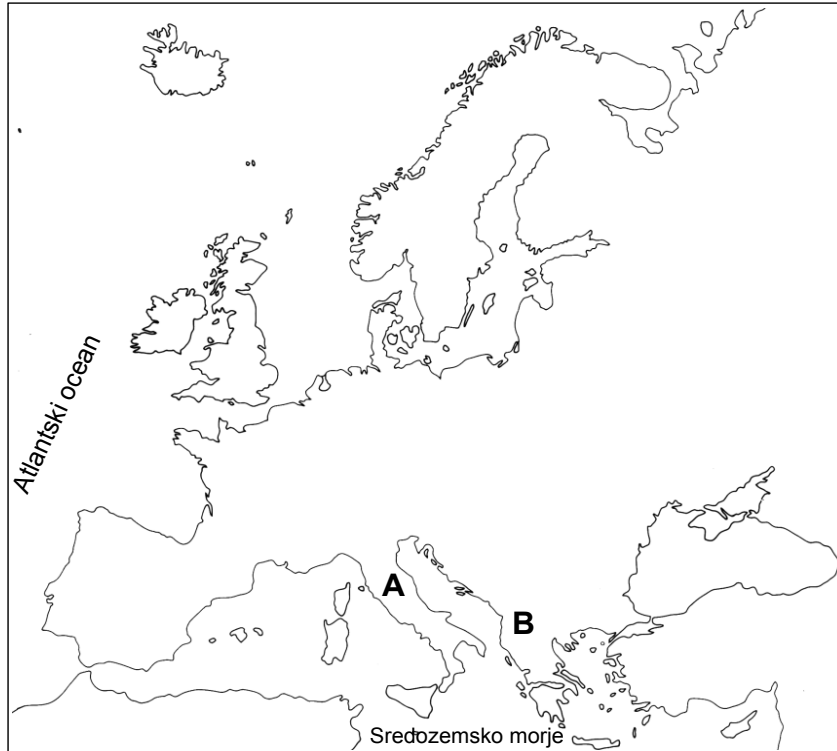
(2 točki)



B – EVROPA

Imeni polotokov

10. Nalogo boš reševal z uporabo zemljevida na sliki 6.



Slika 6: Evropa

(Vir: Evropa. 1996. Prosojnice. Tržič, Učila.)

Na zemljevidu na sliki 6 sta s črkama A in B označena polotoka Evrope.
Na črti zapiši njuni imeni.

Polotok, označen s črko A: _____

Polotok, označen s črko B: _____

(2 točki)

Črno morje

11. Nalogo boš reševal na zemljevidu na sliki 6 pri nalogi 10.

Na zemljevidu na sliki 6 pobarvaj Črno morje.

(1 točka)



Oceansko podnebje

13. V katerem delu Evrope prevladuje oceansko podnebje?
Obkroži črko pred pravilnim odgovorom.

- A Zahodna Evropa.
- B Srednja Evropa.
- C Vzhodna Evropa.
- D Južna Evropa.

(1 točka)

Plimovanje in življenje ljudi

14. Slika 4 na barvni prilogi prikazuje znameniti kraj Mont Saint Michel ob Atlantskem oceanu v Franciji, ki je nekaj posebnega, saj zaradi plimovanja občasno postane otok. Napiši dva problema, ki sta povezana z opisanim pojavom in vplivata na življenje ljudi tega kraja.
Odgovora napiši na črte.

Problem 1: _____

Problem 2: _____

(2 točki)



Gospodarstvo Severne Evrope

16. Gospodarstvo Severne Evrope je razvito. Obkroži črki pred dvema pojmom, ki sta osnova za razvoj prevladujočih gospodarskih dejavnosti držav Severne Evrope.

- A Riž.
- B Les.
- C Nafta.
- D Oljka.
- E Kava.

(2 točki)

Jezikovne skupine v Evropi

17. V prvem stolpcu sta navedeni dve veliki jezikovni skupini Evrope, v drugem pa nekaj evropskih jezikov. Poveži jih tako, da na črto pred jezikovno skupino napišeš črko pripadajočega jezika.

JEZIKOVNI SKUPINI:

_____ Romanska.

_____ Germanska.

JEZIKI:

A Italijanščina.

B Finščina.

C Hrvaščina.

D Ruščina.

E Nemščina.

(2 točki)

Evropska unija

18. Število držav članic Evropske unije se od njenega nastanka dalje nenehno povečuje. Razloži dva vzroka, zakaj si države prizadevajo za vstop v Evropsko unijo. Odgovora napiši na črte.

Razlaga vzroka 1: _____

Razlaga vzroka 2: _____

(2 točki)



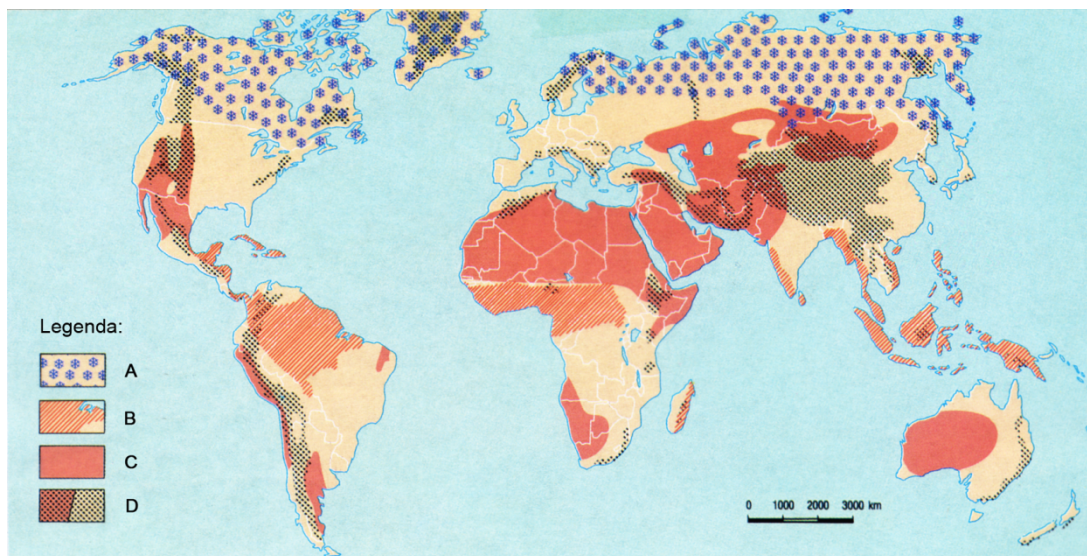
BARVNA PRILOGA



Slika 1



Slika 2



Slika 3: Manj primerna območja za kmetijsko rabo



Slika 4

(Vir slike 1: Brinovec, S., 1998. Planet Zemlja in Evropa: zemljepis za 6. razred osnovne šole. Ljubljana, Mladinska knjiga.)

(Vir slike 2: Bahar, I., Gale, A., Račič, J., Sedmak, A., Večerič, D., 2001. Geografija za osmi razred 8-letne in deveti razred 9-letne osnovne šole. Ljubljana, Mladinska knjiga.)

(Vir slike 3: Geografska enciklopedija: Svet XII. Izraba zemljišč: kmetijstvo. 2000. Tržič, Učila.)

(Vir slike 4: <http://www.shuttle-booking.com/paris/images/stories/shuttle-destination>.)