


Afrika splošno

1. Dopiši ustrezne pojme. Pomagaš si lahko tudi s sliko. (5 t)



- Najbolj namo eno podnebje je oznaeno s številko 1. (1 t)
- Navedi vzrok, zakaj ima obmoje, ki si ga navedel pri to ki a, najve padavin? (2 t)
- S številko 3 je oznaeno **subtropsko vlažno** podnebje. (1 t)
- S številko 4 je oznaeno **puščavsko** podnebje. (1 t)

2. Kateri dejavniki vplivajo na to, da je v severni Afriki eno najbolj suhih obmoij na svetu? Izmed naštetih izberi dva? (2 t)

bližina ekvatorja

na tem obmoju se zrak v glavnem spuša in ohlaja


na tem obmoju gre za spušanje zraka in njegovo segrevanje

bližina severnega povratnika

Severozahodna Afrika

1. S sliko skladno napiši, katere so glavne gospodarske dejavnosti v obmojih 1, 2 in 3. (2 t)

- pridelovanje hrane
- kmetovanjem, živinoreja
- nomadsko poljedelstvo



Severovzhodna Afrika

□

1. Kako se imenuje prekop, ki povezuje Rde e in Sredozemsko morje? (1 t) **Sueški prekop.**

2. Zakaj je delta Nila eno najbolj rodovitnih in obdelanih obmoij na svetu oz. v Egiptu? (2 t) **Nil služi za namakanje Nilove delte in njegove okolice. S poplavami pa je Nil prinašal tudi blato, ki je vsako leto pognojilo Nilovo delto.**

3. Oglej si klimogram Kaira in opiši:

a. kateri mesec ima najve dežja; (1 t)
December.

b. kolikšna je razlika med najnižjo in najvišjo popre no temperaturo; (1 t)
Razlika je 15 stopinj Celzija.


c. kolikšno padavin in pojasni, ali jih je veliko/malo; (1 t)
Padavin je v povprečju zelo malo. Poleti skoraj nič, pozimi pa malo.

d. kakšnemu tipu podnebja, bi prisodil klimogram? (2 t)
Puščavsko podnebje.



4. Kaj prikazuje spodnja slika? Obkroži pravilni odgovor. (1 t)

- a) Nilovo dolino v zgornjem toku
- b) Nilovo dolino v srednjem toku
- c) Nilovo dolino v spodnjem toku



5. Asuanski jez na Nilu je med največjih na svetu. Kakšne posledice so nastale po zgraditvi tega jezusa? Ugotovi, koliko odgovorov je pravilnih in jih obkroži. (1 t)

- a) Nil ne poplavlja več
- b) Egipt mora zaradi tega uvažati električno energijo
- c) Zaradi tega so se razmahnili razni vodni športi

Zahodna Afrika

1. Dobro si oglej spodnjo sliko.



a) Zakaj ima območje ob Gvinejskem zalivu največ padavin (dva vzroka)? (1 t) Ekvatorialno podnebje + toplo morje (topli okoli) + orografska pregrada.

b) Kakšne prsti najdemo med gorovjem Jos in Saharo (oglej sliko, kje je to območje)? (1 t) Prsti suhih predelov.

Vzhodna Afrika

1. Kateri od navedenih držav nista v Vzhodni Afriki? (1 t)

- a) Kenija
- b) Tanzanija
- c) Nigerija
- d) Ruanda
- e) Angola
- f) Somalija

2. Kateri enoti sestavljata vzhodno Afriko? (1 t)
Zmajevje gore in Jezersko višavje, oz. Visoka in Nizka Afrika.

3. V čem so razlike med tropskim deževnim gozdom in svetlim savanskim gozdom? (2 t)
Savansko lahko uspeva na višji nadmorski višini, tropski pa je bujnejši, bolj zelen ter raznolik.

4. V čem je razlika med samoprehranitvenim in tržnim poljedelstvom. Kakšno poljedelstvo prevladuje v vzhodni Afriki. Utemelji odgovor. (2 t)
Samoprehranitveno ne daje veliko dobička, ker se izdelki pridelani na ta način ne prodajajo. V Afriki prevladuje samoprehranitveno poljedelstvo.

5. Kaj je to industrija višje tehnologije? Zakaj je v vzhodni Afriki skoraj ni? Utemelji odgovor. (2 t)
Industrija višje tehnologije se ukvarja z visoko tehnologijo, težkimi stroji, računalništvom. V Afriki se ta tehnologija ne splača, ker ne bi nihče znal ravnati z njo. Za Afričana ne bi bila učinkovita, praktična.

6. V Vzhodni Afriki je podnebje odvisno od več dejavnikov. Glede na spodnjo sliko obkroži pravilni odgovor. (1 t)



- a) ve padavin ima severno pobo je
- b) ve padavin ima južno pobo je

Ozna i smer vetrov s puš ico! (1 t)

7. Dobro si oglej spodnje karte.

- a) Kateri del Kenije je najgosteje naseljen? (1 t) **JZ del.**
- b) Ali koli ina padavin vpliva na gostoto poselitve v Keniji? (1 t) **Več kot je padavin, več je ljudi. Tako da količina padavin vpliva na poselitev.**
- c) V kakšnih naravnih razmerah živijo doma inska plemena, ki so omenjena na drugi karti? (1 t) **Živijo na obrobju najbolj deževnih pokrajin, umaknjeni od ostalih prebivalcev v zelo slabih razmerah.**

8. V prazne okvir ke vpiši približne letne padavine in glavne manjkajo e vegetacijske oblike (tipe rastja). (4 t)

ŠTEV. VLAŽNIH (SUHIH) MESECEV	10-12 (0-2)	9-10 (2-3)	7-9 (3-5)	3-5-6 (6-8-5)	2-3-5 (8-5-10)	1 (11)	0 (12)
POVPREČNE LETNE PADAVINE	1500	1500-500	Pod 500	250 oz. 0			
SKICA POENOSTAVLJENEGA PROFILA PRIRODNEGA RASTJA							
GLAVNE KULTURNE RASTLINE	gumijavec tropski les	oljna palma kakaovec kavovec	jam	bombaž, proso, zem. orešček	zem. orešček		
GLAVNE VEGETACIJSKE OBLIKE	Tropski pragozd	mansunski gozd		suha savana	savana s trnastim rastjem	polpuščava	

9. Pozorno preberi spodnje besedilo.

Viktorijino jezero je dobilo ime po kraljici Viktoriji. Odkritelji so bili v 16. st. portugalski misijonarji, ki so tod širili krščanstvo. Njihovo poročilo o odkritju je leta 1770 potrdil Škot Bruce. Tu izvira Beli Nil. Viktorijino jezero leži ob ekvatorju na meji med Ugando, Kenijo in Tanzanijo. Največja globina je 80 m. Vrhnja voda se stalno meša s tisto v spodnjih plasteh (polimikti no jezero). Po velikosti je tretje na svetu. Jezero Tanganjika je udorno in meromikti no jezero (voda v jezeru se ne premeša), toda kljub temu živi v vrhnjih plasteh jezera več vrst rib kot v kateremkoli jezeru na svetu, le v jezeru Malavi jih je še toliko. Največja globina jezera je 1470 m.

- a) Koliko jezer omenja zgornji tekst? (1 t) 3
 - b) Napiši tri razlike med Viktorijinim jezerom in jezerom Tanganjika. (1 t) V Viktorijinem se voda neprestano meša, v Tanganjškem pa se ne, v njem je tudi več rib ter najgloblja točka je dosti nižja od najgloblje v Viktorijinem j.
 - c) Kakšen je po tvojem mnenju gospodarski pomen omenjenih jezer? (1 t) Viktorijino-Beli Nil-namakanje, Tanganjško-ribe-ribolov.
10. Zakaj ima reka Kongo vse leto dokaj izenačen vodni režim (=približno enak pretok vode skozi vse leto)? (1 t) Ker je blizu ekvatorja, kjer je vse leto veliko padavin.
11. Mangrova je: (1 t)
- a) predvsem ob Gvinejskem zalivu
 - b) ob obali Sredozemskega morja
 - c) ob obrobju Kongove kotline
12. Srednja Afrika ima nekaj nad 60 milijonov prebivalcev in 6,67 milijona km². Ali je gosto naseljena? (1 t) Ne

Južna Afrika

1. Obkroži države, ki ne spadajo v Južno Afriko. (2 t)
 - a) Angola
 - b) Namibija
 - c) Etiopija
 - d) Bocvana
 - e) Nigerija
2. Na shemati ni prerez Južne Afrike v smeri V-Z napiši ustrezne pojme, ki označujejo relief ali naravne enote. (3 t)

□

3. Po sliki ugotovi:

- a) Katero območje ima več padavin? (1 t) 2
- b) Kakšen morski tok je Benguelski morski tok? (1 t) Hladen
- c) Kakšen je JZ veter (suh ali vlažen)? (1 t) vlažen
- d) Kako vpliva na podnebje Benguelski morski tok? (1 t) Podnebje je zelo suho, zaradi tega mrzlega toka je nastala tudi puščava Namib.