

12 - 15 = 2
16 - 19 = 3
20 - 23 = 4
24 - 27 = 5

A

Gimnazija Koper

Ime, priimek, oddelek, datum

Skupno število točk, doseženo število točk, ocena

1. Na črte pri geoloških dobah zapišite črke gorovij, ki so se oblikovala v teh geoloških dobah! 4t

- A Skandinavsko gorovje
- B Ural
- C Dinarsko gorstvo
- D Andi
- E Himalaja
- F Kavkaz
- G Ardeni
- H Nemško sredogorje

a) STAREJŠI PALEOZOIK: _____

b) MLAJŠI PALEOZOIK: _____

c) TERCIAR: _____

2. Za alpinska gorovja je značilno, da prevladujejo kamenine (glede na nastanek) 2t

..... Katera kamenina je najpogostejša?

.....

3.  4t

S črkama A in B sta na karti označeni potresni točki. Imenujte ju!

A = B =

Napišite, v kateri točki je učinek potresa najmočnejši in zakaj. Točka:

Razlog:

.....

4. Napiši 4 značilnosti mlado nagubanih gorstev! 4t

.....

.....

5. Na Islandiji so še vedno delujoči vulkani. Kako si to razlagamo?

4t

.....
.....

6. Napiši slovenski izraz za meander, za kateri del rečnega toka je značilen in ga skiciraj ter pravilno označi kateri procesi ga ustvarjajo!

5t


7. Ugotovi kateri element pokrajine prikazuje skica in katera geografska veja ga proučuje!

4t




Element

Geog. veja




Element

Geog. veja



Element

Geog. veja



Element

Geog. veja