

TEST IZ GEOGRAFIJE

DATUM: ŠOLSKO LETO: RAZRED: 9.
UČITELJ: UČENEC: _____

1. Alpske pokrajine obsegajo tri naša najvišja gorovja. Napiši jih na spodnje črte.

1 _____ 2 _____ 3 _____

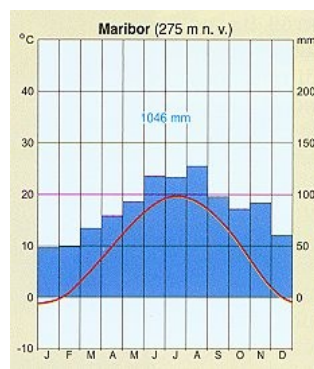
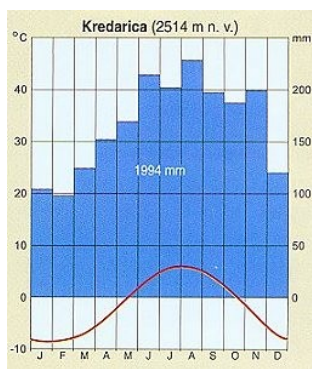
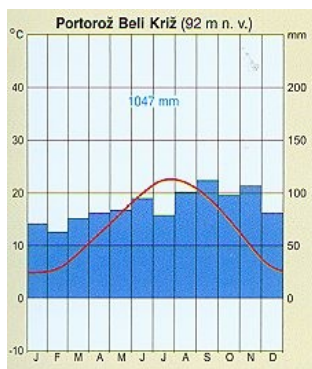
3

2. Na črto pred posamezno reliefno enoto napiši črko V, če gre za vrh, črko P, če gre za planoto in črko D, če gre za ledeniško dolino alpskih pokrajin.

_____ Vrata
_____ Komna
_____ Trenta
_____ Velika planina
_____ Škrlatica
_____ Stol

6

3. Oglej si klimograme, ki predstavljajo različna podnebja Slovenije. Na črto pod vsakega napiši podnebni tip in odgovori na vprašanja.



- _____
- _____
- _____
- a) Koliko padavin pade aprila na Kredarici? _____
b) Kateri kraj ima največ padavin? _____
c) Kateri kraj ima najizrazitejši poletni višek padavin? _____
č) Kateri kraj ima najvišjo julijsko temperature? _____
d) Kateri kraj ima največjo temperaturno razliko med najtoplejšim in najhladnejšim mesecem? _____

8

4. Obkroži črke pred oblikami visokogorskega krasa.

A škraplje
Č podi

B vrtača
D žlebič

C uvala
E kotlič

4

5. Primerjaj alpske in predalpske pokrajine. Na črto pred posamezno značilnost v levem stolpcu napiši črko izpred ustrezne pokrajine v desnem stolpcu.

_____ Večja gostota poselitve.
_____ Redkejše prometno omrežje.
_____ Več poljedeljstva.
_____ Prevlada hribovja.
_____ Enoličnejša geološka zgradba.

A alpske pokrajine

B predalpske pokrajine

5

6. Naštetim značilnostim pokrajin v Ljubljanski kotlini pripiši ustrezno ime pokrajine. Izbiraj med pokrajinami: Dežela in Blejski kot, Dobrave, Kranjsko-Sorško polje, Prekmurje, Kamniško-Bistriška ravan, Brkini, Ljubljansko polje, Ljubljansko barje.

Območje se je začelo ugrezati najkasneje in se ugreza še danes. _____
Ledeniške morene. _____
Razteza se na severnem robu Ljubljane. _____
Pokrajina je zgrajena v glavnem iz konglomerata. _____
Največji središči sta Domžale in Kamnik. _____
Najbolj prodnat in uravnana predel. _____


6

7. Kakšna slemenitev (v kateri smeri) je značilna za dinarske in kakšna za alpske pokrajine? Navedi smeri neba.

dinarske pokrajine _____
alpske pokrajine _____

2

8. V pravokotnik, ki predstavlja notranjost kraške jame, nariši tri vrste kapnikov. Vsakega označi s številko (1, 2 ali 3) in jo vpiši v legendo na ustrezno mesto.



_____ stalagmit
_____ steber
_____ stalaktit

3

9. Besedilo o gospodarstvu in poselitvi dinarskih pokrajin dopolni tako, da izbereš ustrezno besedo v oklepaju in jo prepíšeš na črto.

Dinarske pokrajine so _____ (najgosteje / najredkeje) poseljena naravnogeografska enota Slovenije. Naselja so večinoma _____ (gručasta / obcestna), večji kraji so nastali na _____ (obronkih visokih planot / dnu kraških polj). V teh se je razvijala predvsem _____ (živilska / lesna) industrija, med terciarnimi dejavnostmi pa vse bolj pridobiva _____ (turizem / trgovina).

5

10. Obkroži črko pred turističnima krajema, kjer turizem ni strogo vezan na letni čas. Na črti poleg teh krajev zapiši, za katero vrsto turizma gre. Med izbranimi obkljukaj tisti turistični kraj, kjer se v zadnjem obdobju dejavnost hitreje razvija.

- | | | | |
|---|---------------|---|-----------------|
| A | Portorož | B | Postojna |
| C | Kranjska Gora | Č | Čateške toplice |

5

11. Trditve se nanašajo na panonske pokrajine. Obkroži DA, če je trditev pravilna in NE, če je trditev nepravilna. Vsako nepravilno trditev popravi in jo zapiši na črto pod napačno trditev.

Na robu Dravskega polja je zrasla štajerska "prestolnica" Ptuj. DA NE

Dravinjske gorice so višje od Haloz. DA NE

V Slovenskih goricah sta pomembna vinogradništvo in sadjarstvo. DA NE

Južni del Celjske kotline je usmerjen v hmeljarstvo. DA NE

Kozjansko je v bistvu skrajni vzhodni del Gorjancev. DA NE

8

12. V treh točkah ovrednoti pomen Triglavskega narodnega parka.

- 1 _____
- 2 _____
- 3 _____

3

13. Preberi opis primorske pokrajine in reši nalogo.

Slikovito flišno gričevje je usmerjeno predvsem v vinogradništvo. Domačini vsako leto praznujejo praznik češenj. Pokrajina je bila dolgo prometno skoraj popolnoma odrezana od glavnega zaposlitvenega središča.

a) Katero pokrajino opisuje besedilo? _____

b) Katero je glavno zaposlitveno središče te pokrajine? _____

c) Pojasni, zakaj opisano pokrajino prištevamo med primorske pokrajine.

č) Pojasni, kako kamninska zgradba vpliva na kmetijstvo pokrajine.

d) Pokrajina leži na meji z Italijo. Včasih je bila to slabost, danes pa je precejšnja prednost. Navedi in razloži eno razvojno možnost, ki jo prinaša omenjena obmejna lega.

5	
---	--

MEJE MED OCENAMI:

TOČKE	ODSTOTEK	OCENA
63 - 57	90,5	odlično (5)
56 - 51	80,9	prav dobro (4)
50 - 38	60,3	dobro (3)
37 - 28	44,4	zadostno (2)
pod 44	/	nezadostno (1)

DOSEŽENE TOČKE: ____/63

OCENA: _____