

TEST

Kriteriji:

0-49% = 1

50% - 61% = 2

62% - 77% = 3

78% - 89% = 4

nad 90% = 5

4. letnik

Datum:

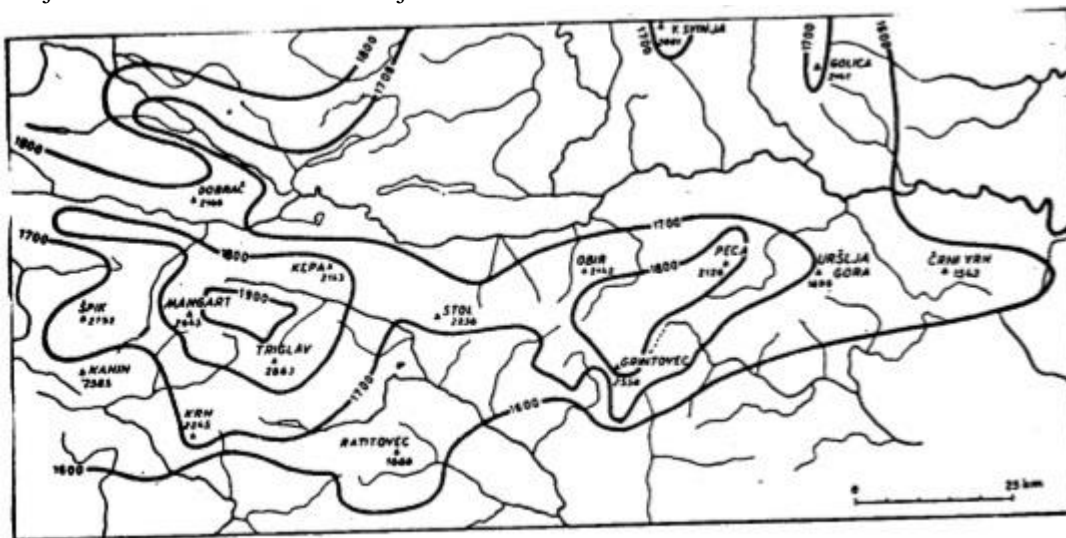
ŠIFRA:

1. Naštej vse tri dele slovenskih Alp in k vsakemu pripiši najvišji vrh.

2 T

2. Gozdna meja je v Alpah zelo različna. S pomočjo karte napiši njeno vrednost južno od Špika in njeno vrednost ob Peci. Utemelji razliko.

3 T



Višina klimatske gozdne meje v slovenskih gorah

3. Kateri trije tipi reliefa so prisotni v Julijskih Alpah?

2 T

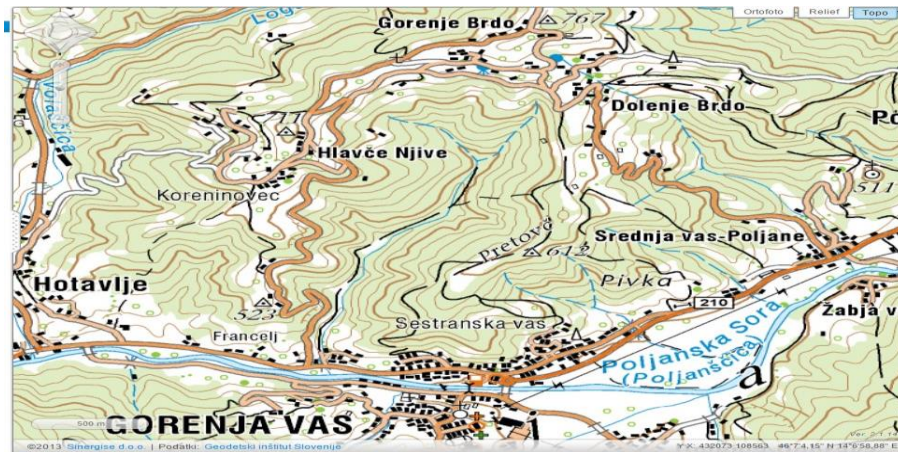
4. Napiši imena dveh planot iz Julijskih Alp in ene iz Kamniško – Savinjskih Alp. Katere različne gospodarske dejavnosti so lahko razvili na njih?

2 T

5. Zakaj je bilo na območju Karavank več fužinarstva kot v drugih delih Alp? 1 T

6. Število prebivalcev v Alpah se zmanjšuje. Bohinj je izjema. Razloži, zakaj. 1 T

7.



Poimenuj regijo, ki jo prikazuje karta. Napiši ime reke, ki je oblikovala to dolino. 2 T

8. Kako se imenuje največji kraj v tej dolini? Po čem je znan v Sloveniji? 2 T

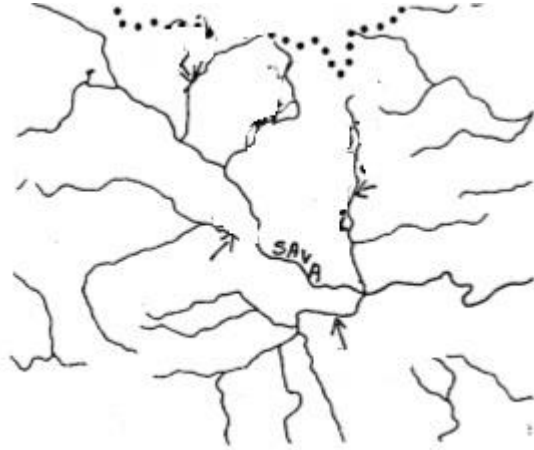
9. Za Zahodno predalpsko hribovje velja, da so možni zemeljski plazovi. Utemelji to naravno nesrečo z različnimi razlogi. 2 T

10. Kateri del Z predalpskega hribovja je znan po tradicionalnem pridelovanju sira? Razloži, zakaj se je lahko razvila ta dejavnost. 2 T
11. Zakaj ima reka Sava ozko in globoko dolino od Litije do Zidanega Mosta? 2 T
12. Kako lahko dokažeš, da je v času terciarja Panonsko morje zalivalo nekatere dele Posavskega hribovja? 2 T
13. Opiši razvoj »Črnega revirja« in naštej mesta, ki ga tvorijo. 2 T
14. Velenjsko kotlino je neka reka prometno povezala proti Koroški. Katera? 1 T
15. Razvoj Koroške sta zaznamovali dve mesti, ki imata podoben pomen. Napiši njuni imeni. 2 T
16. Napiši, kako lahko posebna kamninska zgradba Pohorskega Podravja vpliva na delež površinskih voda, sestavo gozda in na tradicionalno gospodarsko usmeritev (več možnosti). 4 T

17. V kateri geološki dobi se je pogreznil večji del Ljubljanske kotline? 1 T

18. Napiši ime najmlajšega dela Ljubljanske kotline (po nastanku). 1 T

19. Na priloženo karto vpiši imena pritokov Save, ki so obenem pomagala nasipavati Ljubljansko kotlino. 2 T



20. Zakaj so izvajali regulacijo rek v Ljubljanski kotlini? Napiši imena treh rek, ki imajo danes reguliran rečni tok. 2 T

21. Ljubljansko barje ima tri poteze kraškega polja. Napiši jih. 3 T

22. Samo ene lastnosti kraškega polja nima. Napiši, katere. 1 T

23. Smiselno poveži pojme (vsak del Alp ima po tri pojme).

4 T

- a) _____ Stol
- b) _____ Škrlatica
- c) _____ Logarska dolina
- d) _____ Košuta
- e) _____ Storžič
- f) _____ Razor
- g) _____ Peca
- h) _____ Grintovec
- i) _____ Vogel

1. Julijske Alpe 2. Kamniško-Savinjske Alpe 3. Karavanke

24. Smiselno poveži pojme tako, da pripišeš po en pojem za vsak del Predalpskega hribovja.

4 T

- a) _____ Črni Vrh
- b) _____ Matajur
- c) _____ Tošč
- d) _____ Bohor
- e) _____ Huda luknja
- f) _____ Cerknjo
- g) _____ Dreta
- h) _____ Hudinja

1. Vitanjske Karavanke 2. Pohorsko Podravje 3. Beneško-Slovensko hribovje
4. Cerkljansko-Idrijsko hribovje 5. Zg. Savinjska dolina 6. Posavsko hribovje
7. Velenjska kotlina 8. Škofjeloško-Polhograjsko hribovje