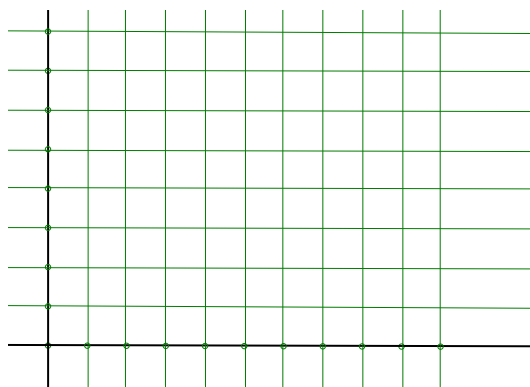


## Graf premega sorazmerja

**Naloga 1.** Gospa Novak za kilogram jabolk plača 0,6 evra. Izpolni preglednico za nakup teh jabolk. Nariši graf odvisnosti. (Slika1)

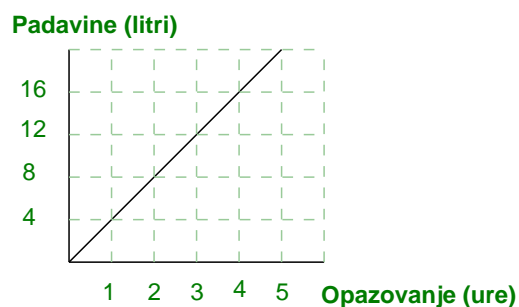
Količina (kg)	0,5	1	1,5	2	3
Plačilo (evri)					



Slika 1: Odvisnost

**Naloga 2.** Dežuje. Iz grafa (slika 2) odčitaj potrebne podatke in odgovori na vprašanja.

- Koliko časa opazujemo padanje dežja?
- Koliko litrov dežja pade v eni uri?
- V kolikšnem času pade 10 litrov dežja?
- Koliko časa bi še morale deževati, da bi bilo v merilni posodi 25 litrov vode?

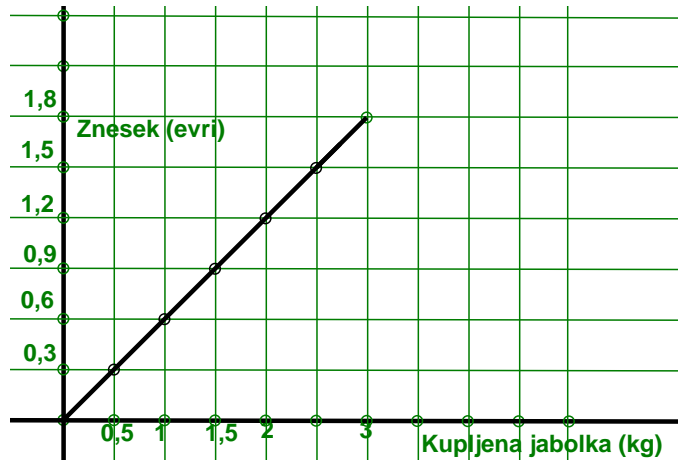


Slika 2: Premo sorazmerje



## Naloga 1.

Količina (kg)	0,5	1	1,5	2	3
Plačilo (evri)	0,3	0,6	0,9	1,2	1,8



Slika 3: Odvisnost

## Naloga 2.

- Padanje dežja opazujemo 5 ur.
- V eni uri pade 4 litre dežja.
- Deset litrov dežja pade v 2,5 urah.
- Ker v 5 urah nateče 20 litrov dežja, bi morali merjenje nadaljevati še 1 uro in 15 minut.