

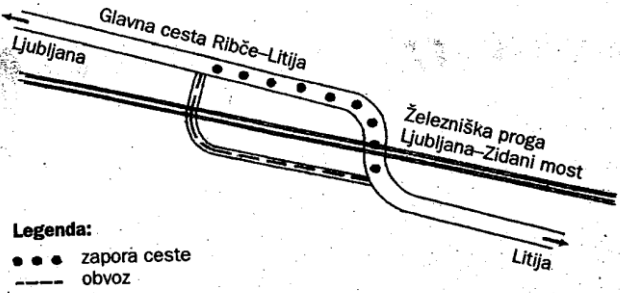
BESEDILA

Besedilo 1

Holding Slovenske železnice, d.o.o., Sekcija za vzdrževanje prog Ljubljana, obvešča vse udeležence v prometu, da bo zaradi nujnih vzdrževalnih del na železniški progi Ljubljana–Zidani Most za ves promet zaprta glavna cesta Ribče–Litija, in sicer v naselju Zgornji Log. Obvoz za vsa vozila bo po obvozni cesti ob gradbišču.

**Popolna zapora ceste bo 23. in 24. 4. 2005 od 7. do 17. ure
ter 25. 4. 2005 od 8. do 14. ure.**

Vse udeležence prosimo, da upoštevajo prometno signalizacijo in navodila izvajalcev del.



Legenda:
● ● ● zapora ceste
- - - obvoz

Hvala za razumevanje.

388413

Besedilo 2

Sonet je stalna pesniška oblika, sestavljena iz 14 verzov, in sicer dveh kvartin, tj. štitiverzna kitica, in dveh tercijn, tj. triverzne kitice. Pogosto je vsebinsko dvodelen. Pesniku, ki ustvarja v tej obliki, rečemo sonetist.

Besedilo 3

Izde lava Priprava sončne ure

S sončno uro merimo čas ob lepem sončnem vremenu s senco, ki jo meče palica ali kak drug predmet na ploskev s številčnico.

Naredimo tako uro!

Kaj rabiš?

- karton
- selotejp
- kompas

Kaj še rabiš?

- pribor za risanje
- šestilo
- kotomer
- močnejše škarje

Priprava

Iz kartona izrežemo pravokotnik v velikosti 12 cm x 8 cm.

Z merjenjem ga najprej razpolovimo in s šestilom narišemo lok za številčnico ($r=4$ cm).

Sredino loka označimo s številko 12, levo in desno po loku pa odmerimo s kotomerom po 15° in nizamo ure navzgor in navzdol (risba 1).

Na karton narišemo pravokotni trikotnik. Spodnja krajša stranica je dolga 4 cm, daljša pa je nagnjena za kol 46° . Ta daljši rob bo dajal senco (risba 2).

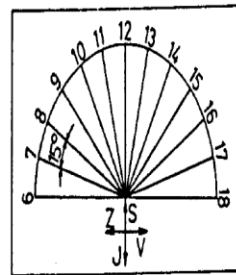
Trikotnik izrežemo in ga prilepimo s selotejmom na srednjico številčnice, in sicer tako, da ga lahko dvignemo pravokotno na ploskev (risba 4).

Na karton narišemo še pravokotno podporno ploskev, jo izrežemo, na sredini zarezemo in jo prilepimo na zgornji strani številčnice (risbi 3 in 4).

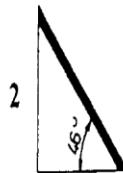
Na karton narišemo še vetrovnico, katere krak z oznako S (sever) je obrnjen v smeri številke 12.

Zaključek

Opoldne postavimo vetrovnico tako, da pada senca daljše stranice pravokotnika proti severu. Sever lahko poiščemo tudi s kompasom. Ko smo uro pravilno postavili, nam ne bo težko ob sončnem vremenu odčitati čas. Naša sončna ura le približno kaže čas.



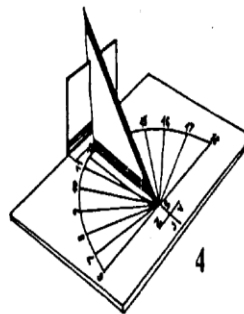
1



2



3



4

Ime in priimek: _____, 1. letnik

3. kontrolna naloga – jezik

Število možnih točk: 70	Število doseženih točk:
Odstotek:	Ocena:

Natančno preberite vprašanja. Bodite pozorni na jezikovno pravilnost. Veliko uspeha!

1. S katero besedo je neposredno izražen namen besedila 1? 1 t

2. Besedilu 1 določite / poimenujte 3 t
 - besedilno vrsto:
 - način razvijanja teme:
 - vrsto besedila glede na način razvijanja teme:

3. Kateri glagolski čas prevladuje v besedilu 1 – zakaj? 2 t

4. Kako delimo zemljepisna lastna imena? 2 t

5. Zakaj v imenu *Zidani Most* in *Zgornji Log* zapisujemo obe besedo z veliko začetnico? 2 t

6. Besedilo 2 je strokovno – v katero strokovno področje sodi? 2 t

7. Iz besedila 2 izpišite tri enobesedne strokovne besede: 4 t

- Iz besedila 2 izpišite dve strokovni besedni zvezi:

8. Napišite vprašanje k besedilu 2: 1 t

9. Za kateri način razvijanja teme / slogovni postopek gre v besedilu 2? 2 t

10. Natančno razložite tridelnost besedila 2. 3 t

11. Preberite besede in v oglatem oklepaju napišite izgovor podčrtane črke. 3 t
sedež _____ sedenje _____ sen _____
12. Besedi *lépo* in *lepó* uporabite v enostavnih povedih (oblike besede ne spreminjajte). 3 t J
lépo → _____
lepó → _____
13. S primeri ponazori, da na koncu slovenskih besed zveneče nezvočnike izgovarjamo nezveneče. 2 t
14. Podčrtajte **pravilno** zapisane besede: zemeljski, življenski, knjižnjica, primanjkljaj, nadaljnji, dovoljenje, kangljica. 2 t
15. Naštejte vse tri vrste jezikovnih pravil: 3 t
16. Popravite napake. 3 t
Slovenija je država v srednje Evropskem prostoru. Njena raznolikost se kaže na vsakem koraku od Primorskega do Alpskega sveta. Triglav je ponos vsakega slovenca. Tujcu z veseljem pokažemo še več drugih znamenitosti saj jih je pri nas dovolj.
17. Za katero vrsto jezikovnih napak gre pri nalogi 16? 1 t
18. Razložite pomena besede: 2 t
deloven → _____
delaven → _____
19. Katere predstavitve (besedilne vrste) poznate? 2 t
20. Katere tri dele vsebuje predstavitev osebe? 3 t
21. Pri katerem delu predstavitve osebe rabimo časovne prislove? 1 t
22. Katere uradne besedilne vrste poznate? 3 t

23. Predstavite glagolski čas – sedanjik. 3 t

24. Napiši dva objektivna in dva subjektivna naslova predstavitve kraja. 2 t



25. Natančno preberite besedilo 3. Na zgornjo črto v besedilu napišite naslov besedilo, na vmesne črte pa mednaslove. 3 t

26. Poimenujte besedilno vrsto besedila 3: 1 t

27. Naštejte štiri značilnosti besedila 3: 4 t

-

-

-

-

28. Podčrtano poved spremenite / pretvorite v navodilo. 2 t

29. Iz predzadnje povedi besedila 3 izpišite besedi, pri katerih pride do premene po zvonečnosti: 2 t

30. Prvo poved besedila 3 spremenite v definicijo. 3 t