



Codice del candidato:

Državni izpitni center



M 0 7 2 5 1 1 1 1 1

SECONDA SESSIONE D'ESAME

S T O R I A

≡ Prova d'esame 1 ≡

Giovedì, 30 agosto 2007 / 90 minuti

*Al candidato è consentito l'uso della penna stilografica
o della penna a sfera. Al candidato vengono consegnate due schede di valutazione.*

MATURITÀ GENERALE

INDICAZIONI PER I CANDIDATI

Leggete attentamente le seguenti indicazioni. Non tralasciate nulla.

Non voltate pagina e non iniziate a risolvere i quesiti prima del via dell'insegnante preposto.

Incollate o scrivete il vostro numero di codice nello spazio apposito su questa pagina in alto a destra e sulla scheda di valutazione.

Questa prova d'esame comprende 25 quesiti di storia generale. Scrivete le risposte negli spazi appositi, usando la penna stilografica o a sfera. Scrivete in modo leggibile. Le risposte illeggibili e le correzioni non chiare verranno valutate zero (0) punti.

Prestate particolare attenzione alle fonti illustrative che vi saranno utili per la soluzione dei quesiti.

A lato degli esercizi, tra parentesi, è segnato il punteggio conseguibile. Saranno valutate anche risposte parziali, mentre per quelle errate non sono previsti punti negativi. Tenete conto di quanto richiesto nelle domande, in quanto si considereranno valide solo le risposte pertinenti.

Abbiate fiducia in voi stessi e nelle vostre capacità.

Buon lavoro.

Questa prova d'esame ha 16 pagine, di cui 2 bianche.

PAGINA BIANCA

Voltate pagina.

LE CITTÀ MEDIEVALI ED IL CONTADO

1. La crescita urbana che interessò l'Europa in epoca medievale ebbe immediate ripercussioni anche sulla società del tempo.
In quale periodo sorsero in Europa le città medievali? Cerchiate la lettera davanti alla risposta esatta.

(1 punto)

- A nel VII secolo
- B nel XII secolo
- C nel X secolo

2. La costruzione delle città medievali era il risultato di una pianificazione precisa e funzionale; per questo, la scelta del luogo di edificazione era di primaria importanza.
Elencate tre delle ubicazioni più diffuse e solitamente scelte per la costruzione delle città, e spiegate perché venivano preferite.

(3 punti)

Immagine 1: Ormož in epoca medievale



(Fonte: Mihelič, D., 1996: *Meščan sem, iz življenja srednjeveških mest*, pag. 9. Mihelač in Nešovič. Ljubljana)

3. La formazione delle città seguì schemi e percorsi differenti.
Elencate e descrivete in sintesi tre cause che determinarono la nascita delle città.

(3 punti)

4. Alla nascita delle città si accompagnò il sorgere dei mercati.
Oltre che per la grandezza, per quali altre caratteristiche il mercato si distingueva dalla città?

(1 punto)

5. Le città medievali di recente formazione cercarono di raggiungere un grado di autonomia sempre maggiore.
Abbinare le corrispondenze inserendo la lettera della colonna di sinistra nell'apposito spazio vuoto della colonna di destra.

(3 punti)

- A signore cittadino _____ custode delle insegne cittadine (sigillo, chiavi, gonfalone)
B giudice cittadino _____ fondatore della città
C consiglio cittadino _____ emana sentenze in caso di contrasti tra i cittadini
_____ si occupa della pulizia e dell'igiene della città
_____ rappresenta i cittadini dinanzi al fondatore della città
_____ si occupa della quiete e dell'ordine pubblico

6. Un'altra tendenza delle città medievali fu quella ad appropriarsi di un numero sempre maggiore di privilegi: questa considerazione è applicabile anche agli abitanti della città di Lož.
Leggete attentamente il brano e rispondete alle domande.
Indicate l'espressione usata per fare riferimento al privilegio di cui si parla nel brano.
Qual era la sanzione prevista per chi non rispettava tale privilegio?

(2 punti)

I commercianti che trasportano mercanzie o chicchessia, senza eccezioni, debbono transitare attraverso il centro della nostra città, seguendo un unico ed esclusivo percorso. Per coloro che decidessero di scegliere percorsi diversi, abbiamo riservato un trattamento particolare: alcuni cittadini da noi scelti con scrupolo avranno facoltà di requisire la mercanzia senza pietà alcuna...

(Fonte: Mihelič, D., 1996: *Meščan sem, iz življenja srednjeveških mest*, pag. 19. Mihelač in Nešovič. Ljubljana)

7. Gli abitanti della città godevano di uno status privilegiato rispetto a coloro che vivevano nel contado.
A quale privilegio cittadino fa riferimento il seguente passo?

(1 punto)

Il diritto cittadino stabilisce quanto segue: se un forestiero entra in città e ne richiede la cittadinanza, egli sarà ammesso dal giudice e riconosciuto come cittadino... Dopo un anno e un giorno trascorsi in città egli potrà continuare a viverci, senza alcuna pretesa da parte di nessuno...

(Fonte: Gestrin, F., Kos, M., Melik, V., 1985: *Zgodovinska čitanka* 6, pag. 43, 44. DZS. Ljubljana)


8. Gli artigiani, riuniti in associazioni di mestiere o corporazioni, costituiscono una delle componenti più attive e dinamiche della comunità cittadina.
Descrivete due aspetti positivi e due aspetti negativi delle corporazioni.

(4 punti)

9. I mercanti appartenevano quasi sempre alla schiera dei cittadini più facoltosi ed influenti della città, nonostante che il commercio fosse una delle attività meno sviluppate. Elencate tre difficoltà che rendevano difficile l'attività dei commercianti medievali.

(3 punti)

Immagine 2: Contenitore usato per misurare i solidi sfusi a Pirano



(Fonte: Mihelič, D., 1996: *Meščan sem, iz življenja srednjeveških mest*, pag. 38. Mihelač in Nešovič. Ljubljana)

10. Col tempo, in Europa il settore commerciale conobbe uno sviluppo assai dinamico, e alcune aree del continente si specializzarono nella vendita e produzione di prodotti specifici. Cerchiate le lettere davanti alle tre affermazioni che ritenete corrette.

(3 punti)

- A L'area baltica e del Mare del Nord era rinomata per i prodotti tessili e la lavorazione della lana
- B Nell'area baltica e del Mare del Nord era molto diffuso il commercio di pelli, carne, ambra e grano
- C La Francia settentrionale, il Belgio e le Fiandre erano conosciuti per i prodotti tessili e la lavorazione della lana
- D La Francia settentrionale, il Belgio e le Fiandre avevano sviluppato un intenso commercio di prodotti orientali
- E I commercianti veneziani e genovesi si occupavano prevalentemente del commercio di pelli, carne, ambra e grano
- F I commercianti veneziani e genovesi detenevano il controllo del commercio dei prodotti provenienti dall'Oriente

11. Nel periodo che stiamo considerando, la crescita urbana andò di pari passo con lo sviluppo economico.
Cerchiate le due lettere davanti alle regioni europee nelle quali si verificò la fondazione del maggior numero di città.

(2 punti)

- A Coste del Mediterraneo
- B Area dell'Europa Orientale
- C Area della Penisola balcanica
- D Area dell'Europa settentrionale

12. A causa della rapida e disordinata crescita degli insediamenti urbani, i loro abitanti dovettero misurarsi con numerosi problemi.
Aiutandovi con le fonti, descrivete due tra i problemi più diffusi nelle città dell'epoca.

(2 punti)

... pertanto stabiliamo che a nessuno è permesso buttare acqua né sporca, né pulita, né di giorno, né di notte dall'alto di balconi, finestre, scale o pergolati.

... proibiamo, sotto pene severissime, a chiunque, cittadino o abitante della città di Pirano, di dedicarsi in alcun modo, a giochi (d'azzardo) con i dadi...

(Fonte: Kos, D., 1998: Kdor z mestom ne trpi, naj se z mestom ne krepi, pag. 2 e 95. Ministrstvo za kulturo, Uprava Republike Slovenije za kulturno dediščino. Ljubljana)

13. Nel corso dei secoli XIV e XV fecero la loro comparsa le prime forme di produzione capitalista.
Elencate e descrivete due tra le prime forme di produzione capitalista.

(2 punti)

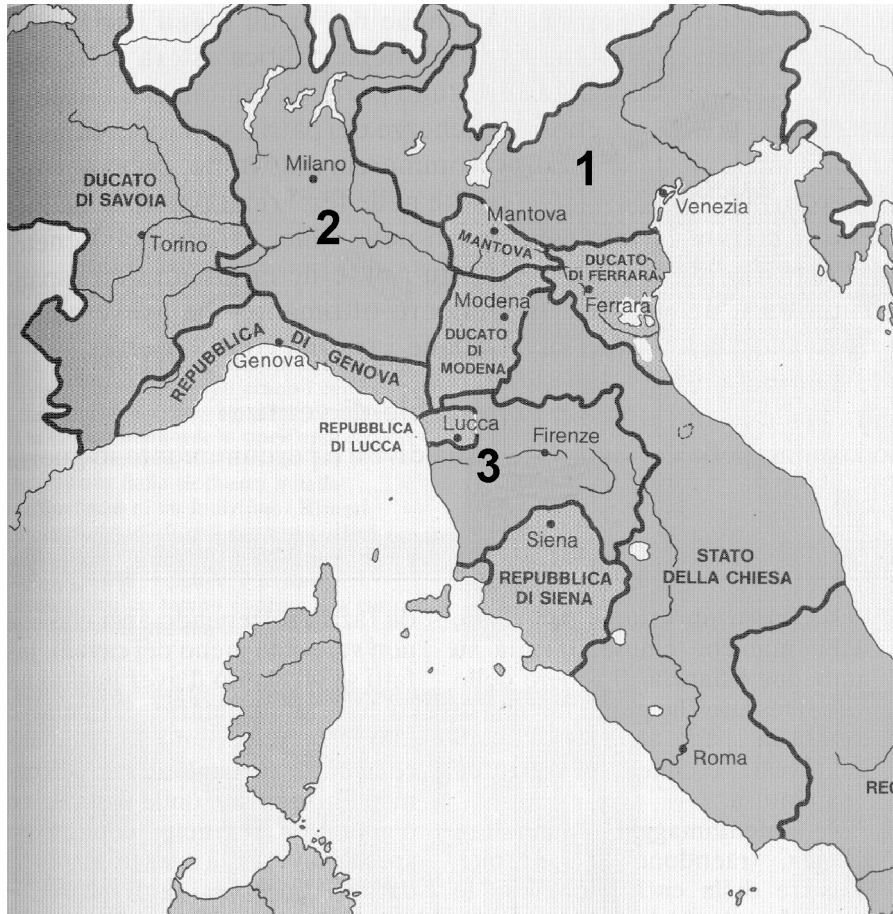
14. Per salvaguardare i propri interessi nelle forme e modi più opportuni, molte città fecero fronte comune costituendo le leghe cittadine. Elencate due ragioni per la formazione di queste organizzazioni. Indicate il nome della lega che riuniva numerose città dell'area baltica.

(3 punti)

15. Le più importanti e più grandi città italiane raggiunsero all'epoca un grado di organizzazione e di autonomia così elevato da poter essere considerate dei veri e propri stati. Osservate attentamente la cartina, dalla quale sono stati cancellati i nomi di alcuni degli stati italiani. Negli spazi vuoti sotto la cartina, inserite i nomi corrispondenti ai numeri.

(3 punti)

Cartina 1: L'Italia dopo Lodi



(Fonte: Calvani, V., 1997: *La storia dalle origini all'assolutismo*, pag. 149, Mondatori. Milano)

1 _____

2 _____

3 _____

16. All'interno della comunità cittadina, le persone che si occupavano degli affari e delle questioni monetarie ricoprivano un ruolo molto importante. Indicate a quale comunità etnica appartenevano queste persone, e spiegate perché erano proprio loro a portare avanti tali attività.

(2 punti)

17. Lo sviluppo dell'economia europea promosse la nascita di nuove forme di impiego del denaro. Comparvero le prime banche. Spiegate l'origine dell'espressione banca. Perché la Chiesa cattolica medievale era contraria al prestito ad interesse?

(2 punti)

Immagine 3: Prestito ad interesse



(Fonte: Hozjan, A., Potočnik, D., 2003: Zgodovina 2, pag. 77. DZS. Ljubljana)

18. L'epidemia di peste che flagellò l'Europa nel biennio 1347/48 ebbe effetti letali per un immenso numero di persone: secondo alcune stime, le vittime furono tra un terzo e metà della popolazione totale dell'epoca. Indicate una delle cause della diffusione della peste in Europa. Da quale regione extraeuropea proveniva il morbo?

(2 punti)

19. Le conseguenze della peste si fecero sentire in tutti i campi. Elencate due conseguenze della peste in campo economico.

(2 punti)


20. Nel periodo tra il X ed il XIV secolo, l'Europa conobbe un intenso processo di colonizzazione. In un breve testo espositivo, descrivete il processo di colonizzazione in Europa mettendo in rilievo i seguenti aspetti: gli obiettivi della colonizzazione, i sistemi di acquisizione di nuove aree agricole, la distinzione tra colonizzazione interna ed esterna, le differenze tra la colonizzazione di superfici poste rispettivamente ad alta ed a bassa quota. Nel testo, citate poi almeno un caso in cui, in Europa, la colonizzazione modificò i confini etnici di un territorio.

(5 punti)

21. Le trasformazioni successive al X secolo coinvolsero soprattutto l'agricoltura. Elencate tre innovazioni che permisero una migliore coltivazione della terra e contribuirono all'aumento della produzione agricola.

(3 punti)

Immagine 4: Attrezzo agricolo



(Fonte: Mihelič, D., 1996: *Meščan sem, iz življenja srednjeveških mest*, pag. 4. *Mihelač in Nešovič*. Ljubljana)

22. La condizione dei contadini variava considerevolmente nelle diverse situazioni. Spiegate il significato delle espressioni affitto temporaneo (vitalizio) ed affitto permanente.

(2 punti)

23. Indicate il nome del documento che conteneva gli obblighi e le pendenze dei contadini nei confronti dei proprietari delle terre.

(1 punto)

24. Abbinare correttamente le seguenti corrispondenze.

(2 punti)

- A ministeriale _____ chi usufruisce della terra avuta in beneficio
B cavaliere _____ ufficiale o funzionario preposto a cariche pubbliche minori
C vassallo _____ uomo armato a cavallo, difensore di un ideale
D signore _____ chi concede la terra in beneficio

25. La società medievale era per definizione eterogenea e diversa, al suo interno, per diritti e stili di vita.

Abbinare correttamente le seguenti corrispondenze.

(3 punti)

- A nobili _____ nella scala gerarchica venivano dopo il clero
B servi _____ godevano della libertà individuale, ma non dei diritti politici
C cittadini _____ nel contado, con il lavoro mantenevano se stessi e gli altri
_____ avevano il diritto di indossare gli abiti più eleganti e sfarzosi
_____ lavoravano il podere
_____ i lavori artigianali erano per loro la principale fonte di reddito

PAGINA BIANCA