



Codice del candidato:

Državni izpitni center



M 0 4 1 5 1 1 1 1 1

I SESSIONE D'ESAME

STORIA

≡ Prova d'esame 1 ≡

Sabato 5 giugno 2004 / 90 minuti

*Al candidato è consentito l'uso della penna stilografica
o della penna a sfera. Il candidato ha a disposizione due schede di valutazione.*

ESAME DI MATURITÀ LICIALE

INDICAZIONI PER I CANDIDATI

Leggete attentamente le seguenti indicazioni. Non tralasciate nulla.

Non voltate pagina e non iniziate a risolvere i quesiti prima del via dell'insegnante preposto.

Incollate o scrivete il vostro numero di codice nello spazio apposito su questa pagina in alto a destra e sulla scheda di valutazione.

Questa prova d'esame comprende 25 quesiti sulla storia generale. Scrivete le risposte negli spazi appositi, usando la penna stilografica o a sfera. Scrivete in modo leggibile. **Le risposte illeggibili e quelle scritte con la matita verranno valutate con zero (0) punti.**

Prestate particolare attenzione alle fonti illustrative che vi saranno utili per la soluzione dei quesiti. Cercate di rispondere a tutte le domande. Riservate per la fine quelle che vi creano maggiore difficoltà.

A lato degli esercizi, tra parentesi, è segnato il punteggio possibile. Saranno valutate pure le risposte parziali mentre per quelle sbagliate non sono previsti punti negativi. Tenete conto di quanto richiesto nelle domande in quanto si considereranno valide solo le risposte pertinenti.

Abbiate fiducia in voi stessi e nelle vostre capacità.

Buon lavoro.

Questa prova d'esame ha 16 pagine, di cui 3 vuote.

PAGINA VUOTA

Voltate pagina.

L'IMPERO ROMANO E LE ORIGINI DEL CRISTIANESIMO

1. In seguito alla morte di Giulio Cesare, nel 43 a. C. venne istituito il secondo triumvirato. Elencate i nomi dei tre esponenti che facevano parte del secondo triumvirato (43 a. C.).

(2 punti)

2. La fine del secondo triumvirato (27 a. C), e la conclusione delle guerre civili sancirono la vittoria di Ottaviano e l'introduzione di un nuovo modo di governare.

Quale espressione viene usata per la forma di governo introdotta da Ottaviano? Cerchiate la risposta esatta.

(1 punto)

- A Dominato
- B Principato
- C Dittatura

3. Dal punto di vista formale, Ottaviano non abolì la repubblica, tuttavia il senato gli conferì titoli e poteri che lo rendevano di fatto il padrone assoluto di Roma.

Elencate tre titoli o cariche statali che vennero conferite ad Ottaviano. Descrivete il nuovo ruolo ricoperto dal senato nel periodo augusteo.

(3 punti)

“Nel mio sesto e settimo consolato, quando ebbi posto fine alle guerre civili, ormai titolare di ogni potere per universale consenso, ho trasferito il governo dello stato dalle mie mani in quelle del senato e del popolo romano. In segno di riconoscimento il senato mi ha conferito con un senatoconsulto il titolo di Augusto ...”

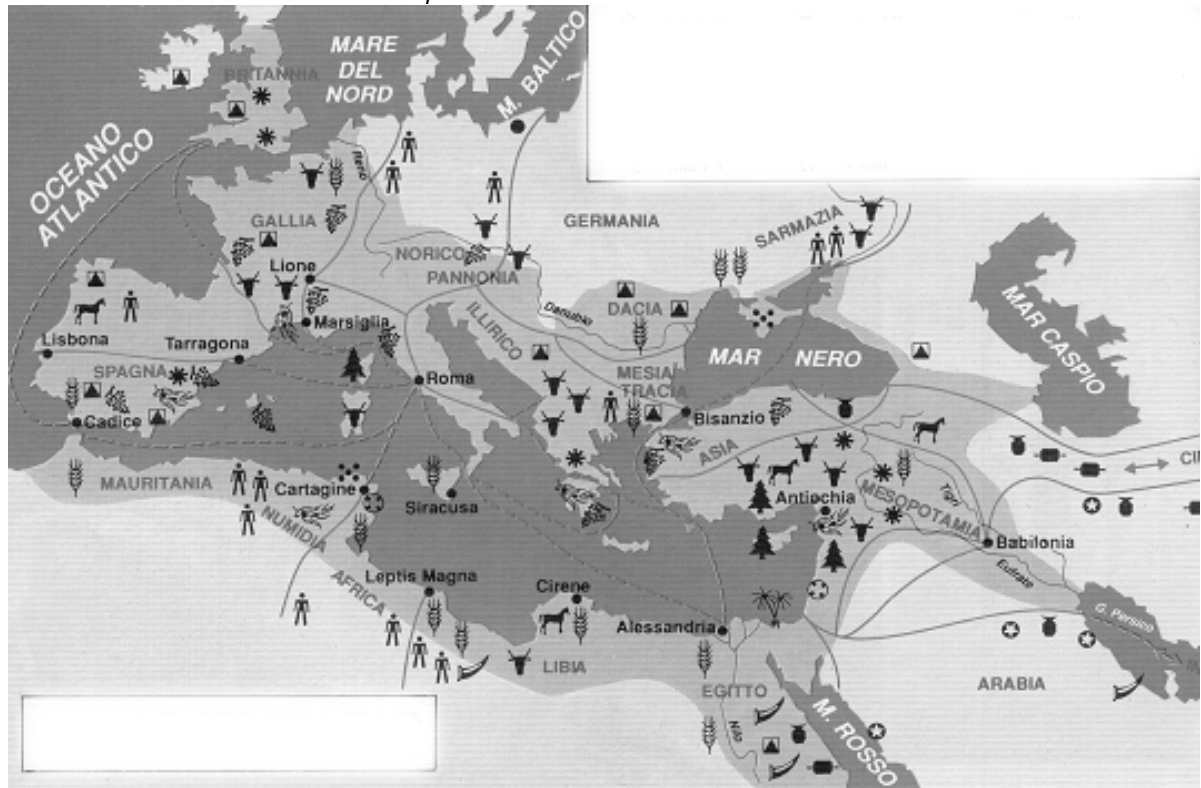
(Fonte: Santalucia, B., 2000: *Le istituzioni pubbliche romane*, pag. 76, La Nuova Italia, Firenze)

4. Il periodo di Augusto coincise con una graduale ripresa economica dell'impero.

Elencate due fattori (di natura diversa), che hanno contribuito alla crescita economica dell'impero in questo periodo.

(2 punti)

Cartina 1: Le vie commerciali dell'impero



(Fonte: Chicco, F., 1991: La grande avventura, pag. 354. Lattes. Torino)

5. L'imperatore Augusto attuò una vasta riforma amministrativa dello stato. Quali furono le innovazioni (almeno due) che vennero introdotte nell'amministrazione delle province?

(2 punti)

6. Augusto censì più volte il numero dei cittadini romani dell'Impero. Anche la Bibbia ne fa riferimento in alcuni passi.

(2 punti)

In quel tempo uscì un decreto da parte di Cesare Augusto, che ordinava il censimento di tutto l'impero.

Questo fu il primo censimento fatto quando Quirinio era governatore della Siria.

Tutti andavano a farsi registrare, ciascuno alla sua città.

Dalla Galilea, dalla città di Nazaret, anche Giuseppe salì in Giudea, alla città di Davide chiamata Betlemme, perché era della casa e famiglia di Davide,

per farsi registrare con Maria, sua sposa, che era incinta.

Mentre erano là, si compì per lei il tempo del parto;

ed ella diede alla luce il suo figlio primogenito, lo fasciò, e lo coricò in una mangiatoia, perché non c'era posto per loro nell'albergo.

(Fonte: *Il Nuovo Testamento*, 1968: pagg. 1555–1556. Ed. Paoline. Roma)

Perché Augusto decise di censire la popolazione?

Cercate di identificare la persona nata nel periodo di Augusto alla quale si fa riferimento nella fonte.

7. La romanizzazione (latinizzazione) dell'Impero procedette di pari passi con l'espansione dei confini.
Elencate e descrivete tre fattori alla base di tale processo.

(3 punti)

8. Nonostante la romanizzazione si diffondesse nelle province di tutto l'impero, essa era più marcata nella parte occidentale rispetto a quella orientale.
Perché? Descrivetene due cause.

(2 punti)

9. Alla base della scala sociale dell'Impero stavano gli schiavi, spesso impiegati nei lavori pesanti e a volte degradanti.
Come venivano impiegati i gladiatori e come i galeotti?

(2 punti)

Foto 1: Gladiatore



(Fonte: Brodnik, V., et. al., 2003: Zgodovina 1, pag. 171. DZS. Ljubljana)

10. L'espansione dell'Impero romano conobbe un arresto nel corso del II secolo d. C.
Indicate i nomi dei due fiumi (Dacia esclusa), che formavano il confine settentrionale dell'impero in Europa.

(2 punti)

11. La cittadinanza romana, conferiva, a chi la possedeva, particolari privilegi e diritti. Nel corso di un suo viaggio in Asia minore, l'apostolo Paolo, cittadino romano, narra di un episodio che viene riportato anche nel Nuovo Testamento.

Leggetene il passo riportato e rispondete alle domande.

“Stettero ad ascoltarlo fino a questo punto, poi si misero a gridare: “Leva dal mondo un uomo simile! Non è degno di vivere!” Siccome mandavano urla e gettavano via le loro vesti e buttavano della polvere in aria, il tribuno comandò di far entrare Paolo in fortezza e dette ordine di esaminarlo ...

Mentre però i soldati si disponevano a distenderlo con funi, Paolo si rivolse al centurione presente e gli disse: “Vi è forse permesso di flagellare un cittadino romano?” A sentir queste parole il centurione andò dal tribuno per avvertirlo e disse: “Che stai per fare? Quell'uomo è romano!”

Il tribuno allora andò da Paolo e gli chiese: “Dimmi, sei tu romano?” “Sì”, rispose Paolo: “A me, soggiunse il tribuno, questo diritto di cittadinanza costa un capitale”. “Io invece, l'ho fin dalla nascita”, rispose Paolo. Allora si ritirarono da lui quelli che ne dovevano far l'esame; il tribuno stesso, venuto a sapere che Paolo era cittadino romano, ebbe paura, perché lo aveva fatto legare.”

(Fonte: Il Nuovo Testamento, 1968: pagg. 1233–1234. Ed. Paoline. Roma)

A quale diritto dei cittadini romani fa riferimento la citazione?

Indicate il nome dell'imperatore e l'anno in cui venne concessa la cittadinanza a tutti i provinciali romani.

(3 punti)

12. Le influenze delle religioni ebraica e cristiana cominciarono a diffondersi nell'Impero dalle province orientali.

Specificate l'importanza delle espressioni riportate per la storia dell'ebraismo.

(3 punti)

Sion:

Mosè:

Canaan:

13. Gli ebrei costruirono numerosi luoghi di culto per le proprie funzioni religiose.

Indicate il nome dell'edificio dove ancora oggi gli ebrei si raccolgono in preghiera.

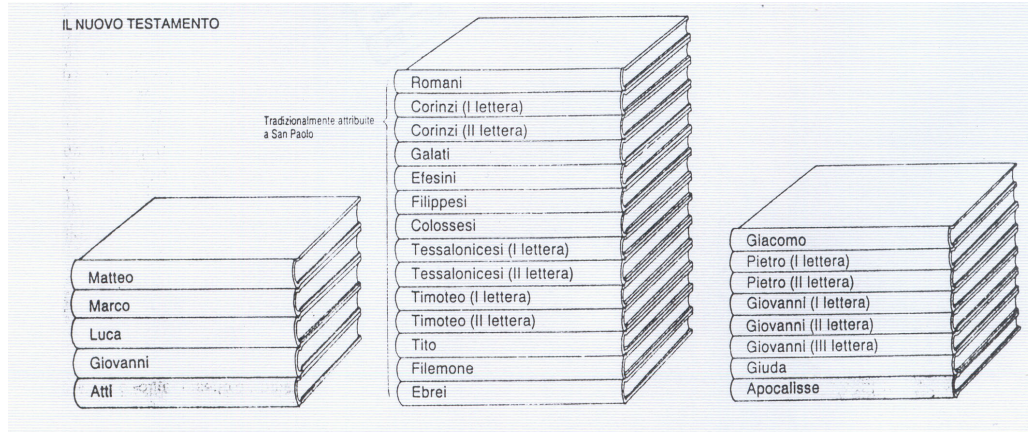
(1 punto)

14. Gli scritti del Nuovo testamento rappresentano un' importante fonte per lo studio della nascita e diffusione del cristianesimo. Particolarmente illuminanti sono gli scritti degli evangelisti che narrano le vicende di Cristo.

Elencate i nomi dei quattro evangelisti del Nuovo testamento.

(2 punti)

Foto 2



(Fonte: Camera, A., 1997: Corso di storia antica e medievale, pag 105. Zanichelli. Bologna)

15. Gesù fu l'iniziatore del cristianesimo.
Dove è nato Gesù?

(1 punto)

16. La predicazione di Gesù incontrò il favore di molti entusiasti che cominciarono a seguirlo. Allo stesso tempo l'opera di Cristo mobilitò numerosi oppositori tra i quali i più accesi erano i farisei (sacerdoti giudaici). Perché i farisei si opponevano a Gesù?

Quale governatore romano condannò Gesù?

Descrivete in quale modo fu eseguita la condanna.

(3 punti)

Ment'egli parlava, un fariseo lo invitò a pranzo da lui. Egli entrò e si mise a tavola. Il fariseo, veduto questo, si meravigliò che non si fosse lavato prima del pranzo.

(Fonte: Il Nuovo Testamento, 1968: pag. 1600, Ed. Paoline, Roma)

17. Prima di raggiungere la definitiva affermazione, il cristianesimo dovette affrontare numerose difficoltà ed ostacoli. Sottoforma di esposto descrivete la diffusione e l'affermazione del cristianesimo. Nell'esposizione vi serva da riferimento la seguente traccia: tre fattori della rapida diffusione del cristianesimo, due motivi delle persecuzioni verso i cristiani, la posizione della Chiesa dopo il riconoscimento da parte dello stato romano.

(5 punti)

18. Nel corso de IV secolo, il cristianesimo si affermò come religione ufficialmente riconosciuta.
Quale imperatore romano concesse la libertà di culto ai cristiani?
Quale imperatore romano proclamò il cristianesimo religione unica e obbligatoria in ogni parte dell'Impero?
In quale battaglia (combattuta nell'odierna Slovenia), venne sconfitto l'esercito dei seguaci pagani?

(3 punti)

19. La diffusione del cristianesimo fu anche merito dei proseliti e degli apostoli che con la loro opera contribuirono in maniera determinante alla sua affermazione.
Indicate il nome dell'apostolo che con i suoi viaggi e le sue lettere alle varie comunità cristiane diede un apporto fondamentale alla causa cristiana.
Indicate il nome del testo che contiene i principii del credo cristiano.

(2 punti)

20. La crisi dell'Impero fu temporaneamente arginata quando salì al trono Diocleziano (284–305). Egli cercò di ridare ordine e stabilità a tutto l'impero.

Con quale espressione viene chiamata la forma di governo che prevede due augusti e due cesari a reggere le sorti dell'Impero, introdotta da Diocleziano?

Con l'aiuto della fonte, cercate di spiegare in cosa si distingueva il modo di governare di Diocleziano rispetto ai suoi predecessori. Elencate e spiegate due riforme introdotte da Diocleziano.

(4 punti)

“Diocleziano di natura era astuto, sagace e d'ingegno sottile, e si preoccupava di fare in modo che la sua severità fosse imputata agli altri e non a lui. Cionondimeno era il più coscienzioso ed il più solerte dei principi. Per primo introdusse nell'impero romano degli usi che erano consoni a una monarchia piuttosto che alla libertà romana. Pretese infatti di essere fatto oggetto di adorazione, mentre tutti i suoi predecessori venivano semplicemente salutati, e adornò le sue vesti e i suoi calzari con pietre preziose, mentre in precedenza l'unico distintivo del potere era la clamide di porpora, essendoli resto dell'abbigliamento uguale al resto a quello degli altri cittadini.”

(Fonte: Santalucia, B., 2000: *Le istituzioni pubbliche romane*, pag. 86. La Nuova Italia)

21. Tra il I ed il II secolo d. C., si verificò l'affermazione del colonato.

Perché si affermò il colonato?

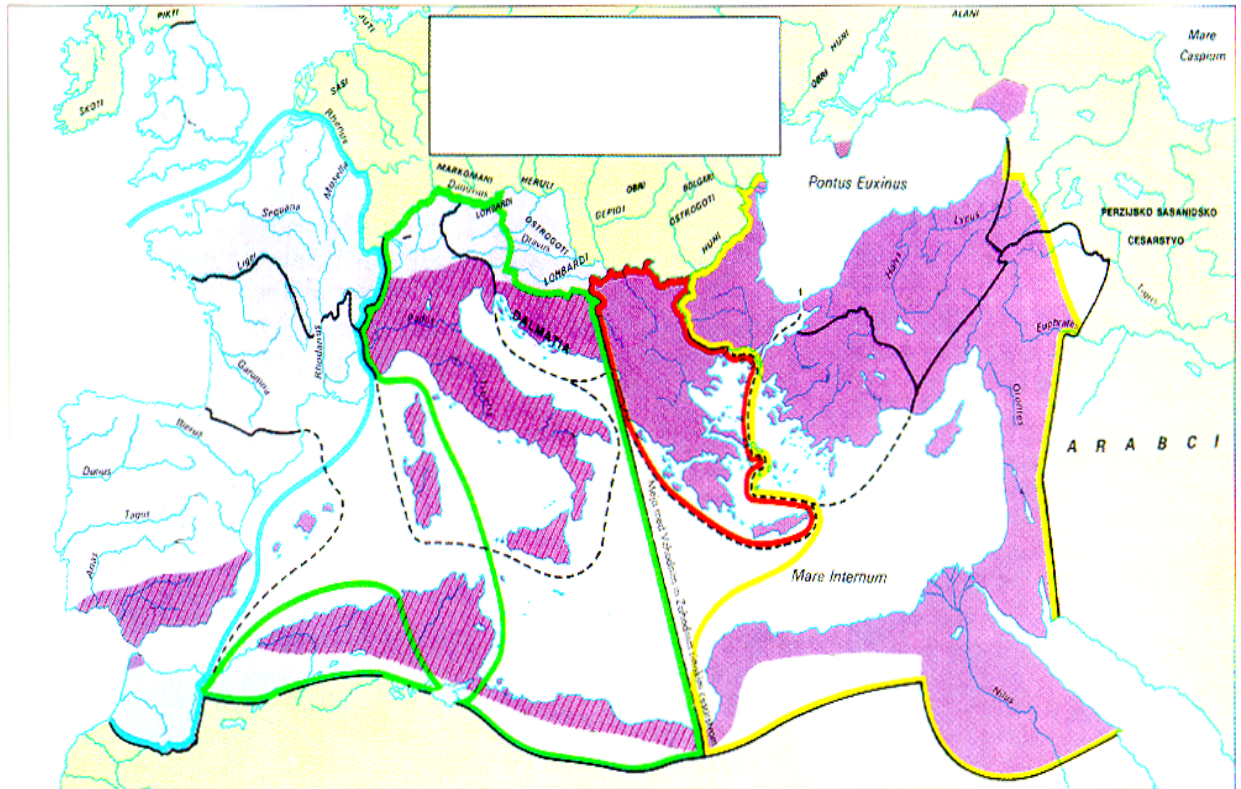
A quali classi sociali appartenevano solitamente i coloni?

(2 punti)

22. Nel 395, l'impero romano fu suddiviso in Impero d'Occidente ed Impero d'Oriente.
Indicate il nome dell'imperatore romano che suddivise l'Impero nella parte occidentale e quella orientale.
Elenca i nomi di tre luoghi che si trovavano lungo la linea di demarcazione delle due parti dell'Impero.

(3 punti)

Cartina 2



(Fonte: Camera, A., 1997: Corso di storia antica e medievale, pag. 450. Zanichelli. Bologna)

23. Diocleziano e Costantino il Grande, furono i più importanti tra gli imperatori che ressero le sorti dell'impero nell'ultimo periodo.

Indicate gli episodi nei quali gli imperatori furono direttamente coinvolti nel periodo del loro governo. Negli spazi vuoti che precedono le affermazioni della colonna di destra inserite il numero dell'imperatore coinvolto. Nel caso l'episodio non si riferisca a nessuno dei due protagonisti inserite il numero 3.

(3 punti)

- | | | |
|-------------------------|-----|--|
| 1. Diocleziano | ___ | Emanazione dell'Editto di Milano |
| 2. Costantino il Grande | ___ | Battaglia della foresta di Teutoburgo |
| 3. Nessuno dei due | ___ | Persecuzione dei cristiani |
| | ___ | Fondazione della nuova capitale in Oriente |
| | ___ | Divisione amministrativa nelle prefetture |

24. Nel 395, l'Impero fu diviso in Oriente ed Occidente. Sotto sono elencate alcune delle province dell'Impero. Cercate di stabilire a quale delle due parti appartengono.

Negli spazi vuoti che precedono i nomi delle province della colonna di destra inserite rispettivamente la lettera O se ritenete che appartengono alla parte occidentale oppure la lettera E se ritenete che appartengono alla parte orientale.

(3 punti)

- | | | |
|-----------------|-----|-----------|
| O (Occidentale) | ___ | Gallia |
| E (Orientale) | ___ | Ponto |
| | ___ | Tracia |
| | ___ | Britannia |
| | ___ | Egitto |
| | ___ | Hispaniae |

25. L'imperatore Costantino cercò di continuare l'opera di riforma dello stato iniziata da Diocleziano. Nel 330 decise di stabilire la sua residenza nella parte orientale dell'Impero. Indicate il nome della città (divenuta capitale) al momento della sua fondazione.

(1 punto)

PAGINA VUOTA

PAGINA VUOTA