



Codice del candidato:

Državni izpitni center



M 0 8 1 5 1 1 1 1 1

SESSIONE PRIMAVERILE

# **S T O R I A**

≡ Prova d'esame 1 ≡

Storia generale

**Mercoledì, 4 giugno 2008 / 90 minuti**

*Al candidato è consentito l'uso della penna stilografica o della penna a sfera.  
Al candidato vengono consegnate due schede di valutazione.*

**MATURITÀ GENERALE**

## **INDICAZIONI PER I CANDIDATI**

**Leggete con attenzione le seguenti indicazioni.**

**Non aprite la prova d'esame e non iniziate a svolgerla prima del via dell'insegnante preposto.**

Incollate o scrivete il vostro numero di codice negli spazi appositi su questa pagina in alto a destra e sulle due schede di valutazione.

La prova d'esame si compone di 25 quesiti, risolvendo correttamente i quali potete conseguire fino a un massimo di 60 punti. Il punteggio conseguibile in ciascun quesito viene di volta in volta espressamente indicato.

Scrivete le vostre risposte negli spazi appositamente previsti **all'interno della prova** utilizzando la penna stilografica o la penna a sfera. Scrivete in modo leggibile: in caso di errore, tracciate un segno sulla risposta scorretta e scrivete accanto ad essa quella corretta. Alle risposte e alle correzioni scritte in modo illeggibile verrà assegnato il punteggio di zero (0).

Abbiate fiducia in voi stessi e nelle vostre capacità. Vi auguriamo buon lavoro.

*La prova si compone di 16 pagine, di cui 2 bianche.*



# Pagina bianca

**VOLTATE IL FOGLIO.**

## LE CITTÀ MEDIEVALI ED IL CONTADO

1. La ripresa dei traffici con l'Oriente, che fece seguito alle crociate, ebbe importanti conseguenze anche sulla rinascita delle città medievali europee.  
Spiegate in quali modi le crociate contribuirono alla rinascita delle città.

(2 punti)

2. L'urbanizzazione medievale va collegata all'aumento demografico e alla crescita produttiva che accompagnarono i progressi compiuti dall'agricoltura.  
Elencate quattro innovazioni o tecniche che consentirono lo sviluppo agricolo e il conseguente aumento di produzione delle risorse alimentari.

(2 punti)

Immagine 1



(Fonte: Svetovna zgodovina, pag. 284. Cankarjeva založba. Lubiana, 1976)

3. L'aumentata richiesta di prodotti artigianali e di lusso indusse numerosi commercianti ed artigiani a scegliere una sede fissa per gestire meglio i propri affari. Elencate tre fra le più diffuse ubicazioni individuate per la costruzione delle città e spiegate i motivi per cui ciascuna di esse veniva scelta.

(3 punti)

4. Alcuni insediamenti sorsero su basi del tutto nuove. Leggete il brano riportato qui sotto e rispondete alle domande. Indicate chi ed in quale modo incoraggiava la fondazione di tali città. In base a quale principio giuridico gli abitanti della città venivano separati dai servi?

(3 punti)

“I signori che disponevano di molte terre incoraggiavano l’inserimento di nuovi coloni, consci del fatto che le terre, se lavorate, potevano produrre nuova ricchezza. Tuttavia i terreni incolti erano molti, ragion per cui si rendeva necessario offrire ai nuovi arrivati delle condizioni particolarmente favorevoli. La concessione di nuove libertà poteva rivelarsi un’attraente prospettiva per i coloni in cerca di terre da lavorare. Chi decideva di trasferirsi in città dalla campagna poteva godere della tutela e dei privilegi garantiti dalle leggi cittadine: non era più obbligato a lavorare la terra del signore, ma era semplicemente tenuto a pagare l’affitto, qualche volta in moneta, qualche volta in natura. Inoltre, né lui né i suoi discendenti erano più legati alla terra, e potevano decidere in qualsiasi momento di vendere i propri averi e trasferirsi in cerca di fortuna. È in questo contesto che nasce il detto “l’aria della città rende liberi”.

(Fonte: trad. da, Keen, M., 1993: *Srednjeveška Evropa*, pag. 72, Cankarjeva založba, Ljubljana)

5. Le fonti giunte sino a noi ci restituiscono un'immagine della città medievale ben diversa da quella della città contemporanea.  
Presentate, in un breve testo espositivo, l'aspetto e le attività che caratterizzavano la città medievale. Concentratevi in particolare sui seguenti elementi: la parte esterna della città, l'interno della città, il ruolo della piazza principale, le più frequenti situazioni di pericolo.


(5 punti)

Immagine 2



(Fonte: Mihelič, D., 1993: *Meščan sem*, pag. 11. Modrijan. Lubiana)

Immagine 3



(Fonte: Mihelič, D., 1993: *Meščan sem*, pag. 13. Modrijan. Lubiana)

Immagine 4



(Fonte: Mihelič, D., 1993: *Meščan sem*, pag. 9. Modrijan. Lubiana)



6. L'aspirazione a garantirsi un'autonomia sempre maggiore portò alcune città europee a cercare nuovi alleati.  
In quale paese europeo le città si allearono al sovrano per assicurarsi una maggiore libertà?  
Elencate gli obiettivi comuni ai contraenti.  
Qual era il più importante organo di autogoverno cittadino?  
(3 punti)
7. Le attività legate ai commerci presentavano numerose insidie: di conseguenza alcune città tedesche decisero di far fronte comune e di coalizzarsi.  
Indicate il nome della più importante lega che riuniva le città tedesche. Quale città ne era a capo?  
(1 punto)
8. Lo sviluppo della realtà urbana medievale traeva origine, più di ogni altra cosa, dal commercio e dai traffici.  
Cerchiate le lettere davanti alle tre affermazioni che ritenete corrette.  
(3 punti)
- A I mercanti veneziani detenevano il controllo del commercio dei prodotti provenienti dall'Oriente.
- B I mercanti della Serenissima acquistavano le merci orientali presso le fiere della Champagne, per poi rivenderle altrove.
- C Le regioni commerciali baltiche erano rinomate per via delle essenze e dei profumi.
- D I mercanti dell'area baltica e del Mare del Nord erano conosciuti per la vendita di pelli, cera, ambra, miele e grano.
- E Sale, vino, frutta tropicale, seta ed altri prodotti artigianali provenivano principalmente dai mercati del Mediterraneo.
- F I mercanti medievali potevano contare su guadagni ridotti a causa dei pericoli e delle difficoltà che dovevano spesso affrontare.



9. Le attività legate ai commerci presentavano numerosi inconvenienti e difficoltà. Descrivete due difficoltà che i mercanti medievali dovevano superare nel corso dei loro spostamenti.

(2 punti)

“Non di rado le vie erano rese a bello studio impraticabili dai proprietari dei fondi, i fiumi erano chiusi con catene e con pali ecc., per poter ottenere più abbondante gettito dei dazi stabiliti in questi punti.”

(Fonte: Kulischer, J., M., 1955: Storia economica del Medioevo e dell'epoca moderna, vol. I, pag. 459, Sansoni, Firenze.)

10. Ben presto le attività commerciali richiesero una sempre maggiore disponibilità di moneta per facilitare le transazioni. Chi aveva il diritto di battere moneta in epoca medievale? Quali espedienti venivano utilizzati per alterare il valore della moneta?

(3 punti)

Immagine 5



(Fonte: Mihelič, D., 1993: Meščan sem, pag. 23. Modrijan. Lubiana)

11. L'aumento della massa monetaria in circolazione e la diversità delle valute utilizzate negli scambi determinarono la nascita del prestito ad interesse e degli uffici di cambio.  
Cerchiate le lettere davanti alle due affermazioni corrette.

(2 punti)

- A Il cambio ed il prestito ad interesse erano attività che venivano praticate prevalentemente dagli Ebrei.
- B Il prestito di denaro facilitò soprattutto il commercio su brevi distanze, in quanto esso richiedeva somme maggiori.
- C Le prime banche comparvero già all'inizio del basso medioevo presso le fiere delle Champagne.
- D Il prestito a tassi di interesse molto elevati procurò una cattiva fama agli Ebrei, che venivano disprezzati e spesso segregati in appositi quartieri chiamati ghetti.

12. Le città medievali tutelarono gli interessi dei propri commercianti con apposite leggi.  
Spiegate il significato delle seguenti espressioni.

(2 punti)

DIRITTO DI SCALO E DEPOSITO:

ITINERARIO OBBLIGATORIO:

13. Le fiere erano i luoghi in cui i mercanti potevano vendere ed acquistare prodotti di ogni genere. L'importanza delle fiere è testimoniata dal fatto che in occasione del loro svolgimento venivano emanate speciali leggi, che restavano in vigore fino alla loro conclusione.  
Con l'aiuto della fonte indicate due diritti particolari che spettavano ai commercianti durante il periodo di fiera.

(2 punti)

... la fiera che si svolgeva agli inizi durante l'anno era quella di novembre, chiamata di Santa Caterina perché si effettuava dopo il giorno della festa, ossia dopo il 25 del Mese... durante la fiera vera e propria, in occasione delle quali era concessa franchigia per la merce importata e salvacondotto per le persone e merci per un periodo di otto giorni....

(Fonte: Allegri, R, 1972: Serravalle nella storia, pag. 211, Mondadori, Milano)

14. Il mestiere più diffuso tra gli abitanti delle città medievali era quello dell'artigiano. Con l'aiuto della fonte spiegate quando e perché nacquero le prime corporazioni di mestiere. Quale altra specifica funzione della corporazione è documentata dalla fonte?

(3 punti)

“Le Corporazioni erano associazioni professionali e di mestiere che sorsero e si diffusero nell'Europa comunale a partire dall'XI secolo con nomi vari: corporazioni o arti o compagnie in Italia, gilde nell'Inghilterra, nei Paesi Bassi e in Germania, confréries in Francia, gremios in Spagna.

Le gilde, inizialmente a carattere religioso e di mutua assistenza, si svilupparono a partire dall'XI secolo in Inghilterra, in Svezia, nei Paesi Bassi e in Germania come associazioni di mercanti.

Le gilde si assicuravano il monopolio delle attività produttive e del commercio delle città, controllando le varie attività e vendendo, sia all'ingrosso sia al dettaglio, ogni tipo di merce. I mercanti che non erano membri della gilda potevano vendere i loro prodotti solo all'ingrosso ed erano soggetti a speciali restrizioni...”

(Fonte: [http://it.encarta.msn.com/encyclopedia\\_761588872/Corporazioni.html](http://it.encarta.msn.com/encyclopedia_761588872/Corporazioni.html))

15. Le corporazioni svilupparono un elaborato sistema di norme che regolamentavano la loro attività. Indicate alcune delle regole che vigevano all'interno della corporazione rappresentata nell'immagine 6.

Elencate due compiti specifici della corporazione, che trovano riscontro anche nell'immagine.

(3 punti)

Immagine 6



(Fonte: Zgodovina na maturi 2004, pag. 46. Modrijan. Lubiana, 2003)

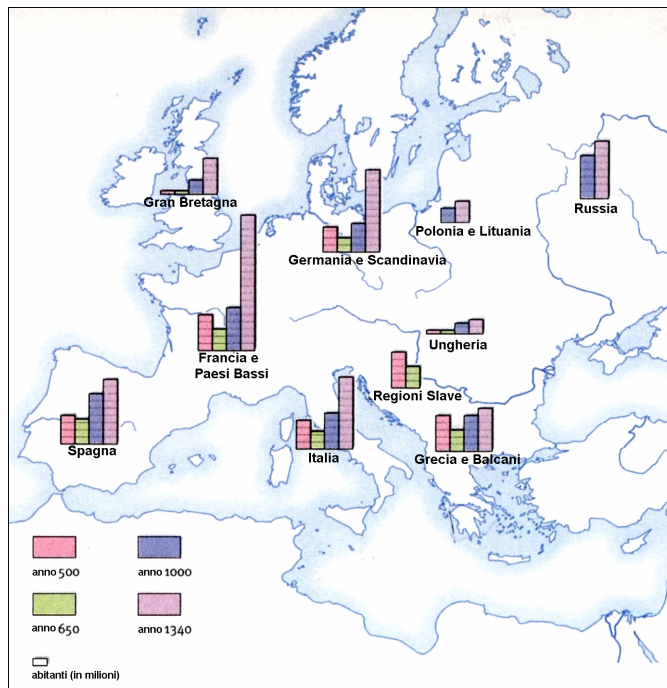
16. A un certo punto l'attività delle corporazioni non riuscì più a soddisfare le esigenze del mercato. Alcuni commercianti si organizzarono allora per rimediare alla scarsità di determinati prodotti. Elencate due forme assunte da questa prima e precoce fase di produzione capitalistica.

(1 punto)

17. L'andamento demografico europeo tra l'anno 1000 ed il 1340 secolo fu caratterizzato da una forte crescita.  
Di quante volte aumentò in questo periodo la popolazione europea?  
Elencate le cause di tale fenomeno.

(2 punti)

Cartina 1



(Fonte: Hozjan, A., Potočnik, D., 2000: Zgodovina 2, pag. 41. DZS. Lubiana)

18. La colonizzazione medievale fu particolarmente marcata nel periodo compreso tra il X e il XIV secolo.  
Spiegate il significato dell'espressione colonizzazione agraria.  
Chi e a quale scopo si fece promotore della colonizzazione?

(2 punti)

19. Nelle righe che trovate accanto alle definizioni della colonna di destra, scrivete la lettera che identifica le espressioni a esse corrispondenti della colonna di sinistra.

(3 punti)

|   |                        |       |   |
|---|------------------------|-------|---|
| A | Colonizzazione interna | _____ | Fondo rurale costituito da terreni coltivabili con annessa casa colonica.   |
| B | Colonizzazione esterna | _____ |   |
| C | Corvèe                 | _____ | Prestazione di lavoro gratuito che i coloni erano obbligati a svolgere per un certo numero di giorni l'anno sui terreni dominicali. |
| D | Urbario                | _____ |   |
| E | Decima                 | _____ | Tributo in natura o in denaro versato alla Chiesa.  |
| F | Podere                 | _____ | Immigrazione di popolazioni straniere su terreni incolti e disabitati.  |
|   |                        | _____ | Immigrazione da parte di popolazioni su terreni abbandonati e disabitati all'interno di uno stesso stato.                           |
|   |                        | _____ | Elenco degli obblighi e delle pendenze dei contadini nei confronti dei proprietari delle terre.                                     |

20. La conquista e messa a coltura di nuove terre avveniva in maniere diverse. In quali modi avveniva? Elencatene tre esempi.

(1 punto)

“Ai nuovi arrivati si presentavano terre incolte di estensioni smisurate, vaste lande deserte e solitarie, foreste, boscaglie e paludi che non erano di proprietà feudale, ma spettavano di diritto ai principi a capo della provincia”.

(Fonte: Trad. da: Pirenne, H., 1956: *Srednjeveška mesta*, pag. 213, DZS, Lubiana)

21. Al fine di incentivare la lavorazione della terra, ai nuovi coloni venivano molto spesso assegnati dai proprietari obblighi più leggeri di quelli cui venivano invece sottoposti i coloni “vecchi”. Anche i contratti agrari furono soggetti a diverse modifiche.

Spiegate il significato delle espressioni affitto temporaneo (vitalizio) ed affitto permanente.

(2 punti)

22. La migrazione in massa di popolazioni in epoca medievale portò alla trasformazione del quadro etnico delle terre colonizzate.

Le terre ad est dell'Elba, abitate ancora nel XII secolo prevalentemente da Slavi, conobbero una graduale e lenta assimilazione ad opera dei nuovi arrivati.

Quale minoranza linguistica slava vive ancora oggi in queste regioni a maggioranza tedesca?

Indicate almeno una conseguenza della colonizzazione tedesca nelle regioni dell'odierna Slovenia.

(2 punti)

23. La società medievale era comunque un mondo eterogeneo, con profonde differenze di classe. La vita, l'alimentazione e le abitazioni si differenziavano nettamente a seconda del ceto e delle condizioni economiche dei singoli. Collocate le lettere che precedono le seguenti affermazioni nelle rispettive caselle della tabella sottostante.

- A Modeste abitazioni in legno, ricoperte da paglia o tegole in legno.
- B Abitazioni costruite in pietra su più livelli con copertura in coppi.
- C L'abitazione svolge anche una funzione difensiva.
- D L'abitazione comprende un'unica stanza, raramente due.
- E L'abitazione consta di una stanza maggiore, un ripostiglio ed una cucina.
- F L'abitazione comprende più stanze, una zona notte separata dalla zona giorno e ambienti destinati ad ospitare qualche viandante e la servitù.
- G A tavola scarseggia la carne e prevalgono i cereali, i legumi ed altre verdure.
- H A pasto si consumano diverse pietanze e non mancano carne, vini ed altri prodotti forniti dai contadini.
- I I pasti comprendono la colazione al mattino, un robusto pranzo prima di mezzogiorno e un'abbondante cena dopo il tramonto, alla fine del lavoro.


(3 punti)

| Contadini | Nobiltà | Borghesi |
|-----------|---------|----------|
|           |         |          |
|           |         |          |
|           |         |          |

24. L'andamento demografico in epoca medievale fu condizionato da diversi fattori. Elencate tre diversi fattori che incisero sulla diminuzione della popolazione europea in epoca medievale.

(1 punto)

Immagine 7



(Fonte: *Človek in čas, Pozni srednji vek*, pag. 121. *Mladinska knjiga*. Lubiana, 1998)



25. Uno dei flagelli che maggiormente infierì sulla popolazione medievale era costituito dalla peste, che si manifestava in forme diverse.

Quali erano le cause della peste secondo quanto riportato dalla fonte sottostante?

Elencate le cause delle frequenti epidemie in epoca medievale.

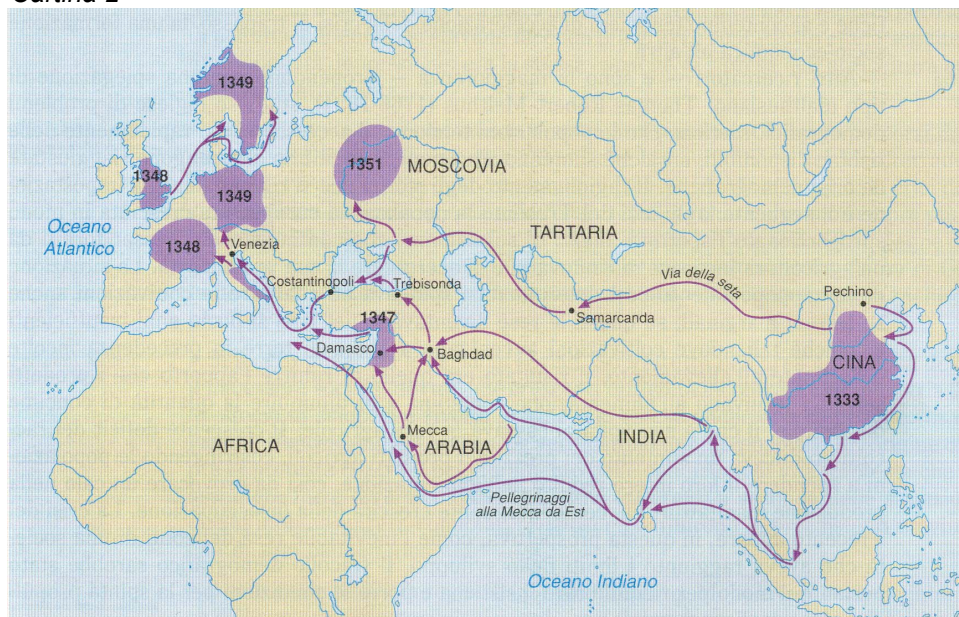
Da dove ed in quale modo tra il 1347 e il 1348 si diffuse in Europa la peste?

(4 punti)

“Dico adunque che già erano gli anni della fruttifera incarnazione del Figliuolo di Dio al numero pervenuti di milletrecentoquarantotto, quando nella egregia città di Fiorenza, oltre a ogn'altra italica bellissima, pervenne la mortifera pestilenza: la quale, per operatione de' corpi superiori o per le nostre inique opere da giusta ira di Dio a nostra correzione mandata sopra i mortali, alquanti anni davanti nelle parti orientali incominciata, quelle d'inerabile quantità de' viventi avendo private, senza ristare d'un luogo in uno altro continuandosi, verso l'Occidente miserabilmente s'era ampliata”.

(Fonte: Boccaccio, G., 1999: Decameron, pag.76, Le lettere, Firenze)

### Cartina 2



(Fonte: Pertugi, G., 1998: Corso di storia 1, pag. 160, Zanichelli, Bologna)

**Pagina bianca**