



Šifra kandidata:

Državni izpitni center



M 1 5 2 5 1 1 1 2

JESENSKI IZPITNI ROK

ZGODOVINA

≡ Izpitna pola 2 ≡

Narodna zgodovina

Četrtek, 27. avgust 2015 / 90 minut

*Dovoljeno gradivo in pripomočki:
Kandidat prinese nalivno pero ali kemični svinčnik.
Kandidat dobi ocenjevalni obrazec.
Izpitni poli je priložena barvna priloga.*

SPLOŠNA MATURA

NAVODILA KANDIDATU

Pazljivo preberite ta navodila.

Ne odpirajte izpitne pole in ne začenjajte reševati nalog, dokler vam nadzorni učitelj tega ne dovoli.

Prilepite kodo oziroma vpišite svojo šifro (v okvirček desno zgoraj na tej strani in na ocenjevalni obrazec).

Izpitna pola vsebuje 25 nalog. Število točk, ki jih lahko dosežete, je 60. Za posamezno nalogo je število točk navedeno v izpitni poli.

Rešitve, ki jih pišete z nalivnim peresom ali s kemičnim svinčnikom, vpisujte **v izpitno polo** v za to predvideni prostor. Pišite čitljivo. Če se zmotite, napisano prečrtajte in rešitev zapišite na novo. Nečitljivi zapisi in nejasni popravki bodo ocenjeni z 0 točkami.

Zaupajte vase in v svoje zmožnosti. Želimo vam veliko uspeha.

*Ta pola ima 16 strani (1–16), od tega 1 prazno.
Barvna priloga ima 4 strani (17–20).*



M 1 5 2 5 1 1 1 2 0 3

Slovensko nacionalno preoblikovanje

1. Marija Terezija in Jožef II. sta med drugimi reformami izvedla tudi šolsko.

Blaž Kumerdej je leta 1772 Mariji Tereziji poslal predlog organizacije šolstva na Kranjskem; d e v e t i č , v svojem prostem času iz ljubezni do domovine sam napiše ali iz najboljših francoskih, nemških itd. piscev prevede v kranjski jezik dobre knjige o poljedelstvu, trgovini in nemško slovnico, ki naj jih kdaj pa kdaj pošilja med ljudi, da bodo mogli spoznati, s čim se drugi narodi okoriščajo. V prvi vrsti pa naj d e s e t i č , gleda na to, kako bi spravil deželni jezik v sklad s hrvaščino, dalmatinščino in drugimi sorodnimi jeziki in to ljudem pismeno sporočil. Kar pa bi začetek tega tako koristnega dela najbolj pospešilo, bi bil e n a j s t i č , abecednik ali tako imenovana začetnica, ki bi jo mogli tiskati in brezplačno razdeliti med ljudi, in to bi bil pri tem edini izdatek.

(Vir: Schmidt, V., 1988: Zgodovina šolstva in pedagogike na Slovenskem 1, str. 170. Delavska enotnost. Ljubljana)

- 1.1. Glede na zgornje besedilo navedite dva razloga za uvedbo šolske reforme.
- 1.2. Za kateri učbenik bi morali po Kumerdejevem mnenju najprej poskrbeti, če bi hoteli doseči pričakovane cilje?
- 1.3. Kakšen je bil cilj začetnikov slovenskega narodnega gibanja pri jezikovnem vprašanju?

(3 točke)

2. V začetnem obdobju slovenskega narodnega gibanja so Slovenci dobili številne kulturne novosti, ki jih pred tem niso poznali.

- 2.1. Navedite ime in priimek razsvetljenca in mecen na sliki 1, pri katerem so se zbirali tedanji izobraženci.
- 2.2. Oglejte si sliko 1 v barvni prilogi in navedite tri kulturne novosti, ki so jih dobili Slovenci do francoske zasedbe dežel leta 1809.

(2 točki)



Slika 1: Razsvetljenec, mecen, mineralog

(Vir: <http://sl.wikipedia.org>. Pridobljeno: 13. 4. 2013.)



3. Knjige v slovenskem jeziku so bile od protestantizma pisane v bohoričici. Sredi dvajsetih let 19. stoletja so jezikoslovci z upoštevanjem načela, naj ima vsak glas svoj znak, sestavljali nove pisave.

Anton Murko v svoji slovnici iz leta 1832

Doslej smo bili štajerski Slovenci tako po jeziku kot pisavi tesno povezani s Kranjci, njihova kot naša pisateljska dela so bila skupna lastnina nas vseh. Sedaj pa se dviga med nas stena ločitve, ki je enako pogubna za jezikovno kot narodno kulturo in grozi, da bo uničila dosedanjo skupnost, potrebno za napredek in razvoj jezikovne in ljudske izobrazbe.

(Vir: Cvirn, J., in Studen, A., 2010: Zgodovina 3, str. 122. DZS. Ljubljana)

- 3.1. Navedite ime vsaj ene od novih pisav, ki so jih uporabljali v slovenskih knjigah.
- 3.2. Zakaj je Anton Murko, tako kot sta npr. tudi Matija Čop in France Prešeren, nasprotoval uporabi več različnih pisav?

(2 točki)

4. Leta 1843 so začele izhajati Kmetijske in rokodelske novice, ki jih je urejal Janez Bleiweis.
- 4.1. Pomagajte si s sliko 2 v barvni prilogi in navedite, v kateri deželi je bilo največ bralcev Kmetijskih in rokodelskih novic in v katerem delu današnje Republike Slovenije tega časopisa niso poznali.
- 4.2. Iz katerega sloja prebivalstva je prihajalo največ naročnikov Kmetijskih in rokodelskih novic in kolikšen je bil njihov delež med vsemi naročniki?
- 4.3. Zakaj med naročniki in posledično bralci skorajda ne najdemo večinskega kmečkega prebivalstva?

(3 točke)



5. Revolucionarno dogajanje v letu 1848 je zajelo tudi slovensko ozemlje. Obkrožite črke pred tremi pravilnimi trditvami, povezanimi z dogajanjem leta 1848 na Slovenskem.
- A Na Dunaju je bilo ustanovljeno prvo slovensko društvo z imenom Slovenija.
 - B Program Zedinjene Slovenije je zahteval vključitev v združeno Nemčijo.
 - C France Prešeren je revoluciji na čast spesnil ep Krst pri Savici.
 - D Matija Majar Ziljski je prvi zapisal slovenske zahteve v članku Kaj Slovenci terjamo.
 - E Peter Kozler se je lotil izdelave zemljevida slovenskih dežel.
 - F V Ljubljani je bila ustanovljena slovenska univerza.

(3 točke)

6. Z obnovo ustavnega življenja na začetku šestdesetih let 19. stoletja se je organizirala tudi narodna stranka, ki se je postavila za zagovornico slovenskih zahtev.

Iz političnega programa narodne stranke, objavljenega novembra 1861

Naše načelo ali princip tedaj o s r e d n j i h ali v i š i h šolah je: Popolno znanje tako maternega, kakor nemškega jezika, ter zahtevamo, na temelju prave paritetičnosti (e n a k o s t i), takošno osnovo omenjenih naših šol, da se bo mogel izrečeni naš namen doseči. Kar pa se tiče l j u d s k i h šol, moramo, gledé na njih namen in naravno pravo, zahtevati to, da mladina naša si ne zgubiva časa z vbijanjem jalovih nemških besed, (ker se nemškega jezika naučiti ne more), ampak da v p e r v i h t r e h r a z r e d i h se uči vse nauke, ki jih za življenje potrebuje, v domačem slovenskem in nji dobro razumljivem jeziku.

(Vir: <http://www.dlib.si>. Pridobljeno: 13. 4. 2013.)

- 6.1. Glede na zgornje besedilo navedite, na kateri stopnji šolanja naj bi po slovenskih zahtevah uporabljali zgolj slovenski jezik.
- 6.2. Na katerih stopnjah naj bi se po slovenskih zahtevah slovenščina uveljavila enakopravno ob državnem jeziku?
- 6.3. Navedite še eno področje državnega delovanja, za katero so Slovenci postavljali enake zahteve po enakopravni uporabi slovenskega jezika.

(3 točke)



7. Kako so se imenovala meščanska narodna društva, ustanovljena po letu 1861, ki so širila slovenske ideje in začela prirejati kulturne prireditve v slovenskem jeziku?

(1 točka)

8. Na začetku devetdesetih let 19. stoletja se je enotna narodna stranka razcepila na Katoliško narodno stranko in Narodno napredno stranko.

Katoliška narodna stranka je svojo politično moč naslanjala predvsem na kmečke množice, ki so se zatele vanjo pred izkoriščanjem kapitalističnih elementov na vasi, liberalnih vaških mogotcev. (...) Podlaga strankinega programa je bila resolucija prvega katoliškega shoda. Zahtevala je, da se življenje na vseh področjih vskladi z načeli katoliške vere. (...)

V Narodno napredni stranki se je organizirala predvsem slovenska liberalna buržoazija. V mestih se je opirala na večinoma liberalno inteligenco ter na večji del drobne buržoazije. (...) Težišče svojega programa je stranka postavljala na narodni program: zahtevala je narodno avtonomijo.

(Vir: Gestrin, F., in Melik, V., 1966: Slovenska zgodovina od konca osemnajstega stoletja do 1918, str. 272 in 273. DZS. Ljubljana)

Obkrožite črko pred izbrano stranko in odgovorite na vprašanja.

A KATOLIŠKA NARODNA STRANKA

B NARODNO NAPREDNA STRANKA

- 8.1. Kakšno idejno-politično usmeritev je zastopala stranka?
- 8.2. Kateri sloj je imel v stranki odločilno vlogo?
- 8.3. V katerih slojih prebivalstva je stranka uživala največjo podporo?
- 8.4. Pojasnite vsaj dve zahtevi političnega programa stranke.

(4 točke)



9. Tudi slovensko ozemlje je v 19. stoletju dosegel val industrializacije. Hitrejši gospodarski razvoj je spodbudila še gradnja železniške povezave med Dunajem in Trstom. Pomagajte si s sliko 3 v barvni prilogi.
- 9.1. Navedite štiri industrijske panoge, ki so do 1. svetovne vojne doživele hiter razvoj na slovenskem ozemlju.
- 9.2. Navedite tri območja industrializacije.
- 9.3. Pojasnite posledice gospodarskega razvoja na demografski razvoj slovenskega ozemlja.
- (3 točke)

10. Zaradi hitrega industrijskega razvoja so propadale nekatere obrti in dejavnosti, v katerih je zlasti kmečko prebivalstvo iskalo dodaten zaslužek. Posledice novosti povežite tako, da črko novosti v desnem stolpcu prepisete na črto pred starejšo dejavnost, ki je zaradi te novosti začela propadati.

_____ gorenjsko suknarstvo	A železnica
_____ fužinarstvo	B strojne predilnice
_____ tovorništvo	C steklarska industrija
_____ glažutarstvo	D železarska industrija

(2 točki)



11. Od šestdesetih let 19. stoletja je celotno Avstro-Ogrsko zajel val izseljevanja.

Luka Možina je leta 1871 iz Wisconsina staršem v Javorjah pri Škofji Loki pisal:

Dela se pa od solnčnega vzhoda do zahoda, ali ta čas se mora slednji kaj dobro dela poprijeti, ker gospodar je dolžan dobro plačati in pogostiti, delavec pa tudi odmerjeni čas po svoji moči delati brez vsega obotavljanja.

(...)

Marsikdo nese iz Amerike lepe denarje, in tukaj pride dostikrat ob vse ali gotovo ob veliko, in bi bil na boljsem doma, ko bi bil le nekoliko delal, kot je tukaj, če ravno ni posebne nesreče imel.

(Vir: Drnovšek, M., 1998: Usodna privlačnost Amerike: pričevanja izseljencev o prvih stikih z novim svetom, str. 172 in 173. Nova revija. Ljubljana)

- 11.1. Glede na zgornje besedilo navedite državo, v katero se je do začetka 20. stoletja izselilo največ Slovencev?
- 11.2. Pomagajte si z zgornjim besedilom in pojasnite, na kakšne življenjske razmere so naleteli v novem okolju.

(2 točki)

12. Izseljevanje je doseglo takšen obseg, da so o njem premišljevali kot o »rakrani« za slovenski narod.

Mihajlo Rostohar, predavatelj na univerzi v Pragi, leta 1912:

Ob tem je naredil konstrukt: če bi 34.000 slovenskih izseljencev v vsakem desetletju v zadnjih petindvajsetih letih pritegnili v Ljubljano, namesto da so odhajali v tujino, bi Ljubljana s 140.000 prebivalci lahko konkurirala Gradcu in Trstu – seveda ob predpostavki, da se slovenske dežele industrializirajo.

(Vir: Drnovšek, M., 2010: Izseljevanje rakrana slovenskega naroda: od misijonarja Friderika Barage do migracijske politike države Slovenije, str. 125. Nova revija. Ljubljana)

- 12.1. Kako bi lahko zajezili izseljevanje? Pomagajte si z zgornjim besedilom.
- 12.2. Katero mesto na obrobju slovenskega etničnega ozemlja je zaradi gospodarskega razvoja v tem času postalo območje priseljevanja tudi številnih iz notranjosti slovenskih dežel?

(2 točki)

**Razvoj slovenskega naroda v 20. stoletju**

13. Pred začetkom 1. svetovne vojne so Slovenci živeli v različnih upravnih enotah Avstro-Ogrske, manjši del pa tudi v Kraljevini Italiji.
- 13.1. Oglejte si sliko 4 v barvni prilogi in navedite vsaj štiri avstrijske dežele, v katerih so živeli Slovenci.
- 13.2. Navedite dve mesti v današnji Republiki Sloveniji, v katerih je na začetku 20. stoletja še živelo veliko Nemcev, in dve mesti v današnji Republiki Sloveniji, v katerih je tedaj živelo veliko Italijanov.
- 13.3. Zakaj so Slovenci zunaj Kranjske težje uveljavljali svoje narodne zahteve?

(3 točke)

14. Prva svetovna vojna je zajela tudi slovensko ozemlje.
- Obkrožite črki pred pravilnima trditvama, povezanima s posledicami vojne za Slovence.
- A Ob začetku vojne je oblast razpustila številna slovenska društva.
- B Avstrijski parlament je po začetku vojne še naprej sprejemal zakonske predloge.
- C Po slovenskem ozemlju je potekala solunska fronta.
- D Iz zaledja fronte je bilo izseljenega veliko civilnega prebivalstva.

(2 točki)



15. Maja 1917 je Anton Korošec na zasedanju državnega zbora na Dunaju prebral majniško deklaracijo.

Majniška deklaracija

Podpisani poslanci, ki so združeni v Jugoslovanskem klubu, izjavljajo, da zahtevajo na temelju narodnega načela in hrvaškega državnega prava, naj se vsa ozemlja monarhije, v katerih prebivajo Slovenci, Hrvati in Srbi, združijo pod žezlom habsburško-lotarinške dinastije v samostojno državno telo, ki bodi prosto vsakega narodnega gospostva tujcev in osnovano na demokratični podlagi. Za uresničenje te zahteve enotnega naroda bodo zastavili vse moči. S tem pridržkom se bodo podpisani udeležili parlamentarnega dela.

(Vir: Gabrič, A., in Režek, M., 2011: Zgodovina 4, str. 144. DZS. Ljubljana)



Slika 2: Tabor v podporo majniški deklaraciji v Žalcu 17. marca 1918

(Vir: Štepec, M., 2008: Vojne fotografije 1914–1918, str. 177. Defensor. Ljubljana)

- 15.1. Razložite temeljno zahtevo majniške deklaracije.
- 15.2. V čigavem imenu je Korošec prebral majniško deklaracijo?
- 15.3. Kako so Slovenci podpirali zahteve iz majniške deklaracije?

(3 točke)



M 1 5 2 5 1 1 1 2 1 1

16. Po vojni je Avstro-Ogrska razpadla. Na jugu nekdanje monarhije je za kratek čas nastala Država Slovencev, Hrvatov in Srbov, ki pa je že 1. decembra 1918 vstopila v nov državni okvir.
- 16.1. Zaradi katerih težav je vodstvo Države Slovencev, Hrvatov in Srbov hitelo v združitve v novo južnoslovansko državo?
- 16.2. Oglejte si sliko 5 v barvni prilogi in navedite imeni predvojnih kraljevin, ki sta z Državo Slovencev, Hrvatov in Srbov sestavljali del nove Kraljevine Srbov, Hrvatov in Slovencev.

(2 točki)

17. Reševanje mejnih sporov se je vleklo še več let po 1. svetovni vojni. V Kraljevino Srbov, Hrvatov in Slovencev je prišel večji del Slovencev, velik del pa jih je ostal kot manjšina v sosednjih državah.
- 17.1. V kateri državi je bila po 1. svetovni vojni najbolj številčna slovenska manjšina?
- 17.2. Oglejte si sliko 5 v barvni prilogi in navedite državi, ki sta v letih 1918–1920 izgubili del ozemlja, ki je bil dodeljen Kraljevini Srbov, Hrvatov in Slovencev.

(2 točki)

18. V Kraljevini Srbov, Hrvatov in Slovencev je najmočnejša politična stranka zagotavljala prevlado Srbov v državi, iz njenih vrst je prišla tudi večina predsednikov vlad.

Obkrožite črko pred to stranko.

- A Komunistična partija Jugoslavije
B Jugoslovanska demokratska stranka
C Narodna radikalna stranka



(1 točka)

Slika 3: Nikola Pašić

(Vir: <https://sl.wikipedia.org>.
Pridobljeno: 13. 4. 2013.)



19. Kralj Aleksander Karađorđević je januarja 1929 razpustil parlament in ukinil ustavo. Leta 1931 je bila izdana nova ustava Kraljevine Jugoslavije, ki se je oprijelo ime oktroirana ustava.

Pojasnite, zakaj jo imenujemo oktroirana ustava.

(1 točka)



Slika 4: Kralj Aleksander Karađorđević (1888–1934)

(Vir: <https://sl.wikipedia.org>.
Pridobljeno: 13. 4. 2013.)

20. Že ustava iz leta 1921 je kot uradni jezik predvidela neobstoječi srbsko-hrvaško-slovenski jezik. Ustvarjanje enotnega jugoslovanskega naroda je prišlo v novo fazo po letu 1929.

Iz časopisa Narodna odbrana, novembra 1932

(...) ko je bila politično realizirana Jugoslavija, je nujno prišel čas, da naredimo tudi Jugoslovane, a eden izmed prvih pogojev za to je nedvomno uvajanje enega knjižnega jezika za vse dele našega naroda brez razlik.

(...) Tu ni drugega izhoda in rešitve, kot da se sedanje slovensko knjižno narečje v celoti nameni tihi in postopni likvidaciji.

(Vir: Dolenc, E., Godeša, B., in Gabrič, A., 1999: Slovenska kultura in politika v Jugoslaviji, str. 39 in 40. Modrijan. Ljubljana)

- 20.1. Glede na zgornje besedilo pojasnite, kakšno usodo so unitaristično usmerjeni politiki in intelektualci predvideli za slovenski jezik.
- 20.2. S katerimi dejanji so Slovenci odgovorili v obrambo slovenstva?

(2 točki)



21. Z vstopom v novo jugoslovansko državo se je slovensko gospodarstvo znašlo v povsem novih okoliščinah delovanja in težišče gospodarske menjave preusmerilo proti jugu.

	1910	1921	1931
I. kmetijstvo, gozdarstvo in lov	68,71 %	64,09 %	60,53 %
II. obrt in industrija	12,14 %	17,26 %	19,92 %
III. trgovina in promet	5,50 %	7,95 %	7,42 %
IV. javne službe in svobodni poklici	4,45 %	5,41 %	5,37 %
V. rentniki in zavodniki	9,20 %	5,28 %	6,76 %

Preglednica 1: Poklicna struktura prebivalstva na slovenskem ozemlju v prvi Jugoslaviji

(Vir: Lazarevič, Ž., 1997: Slovensko gospodarstvo v prvi Jugoslaviji, str. 62. Modrijan. Ljubljana)

- 21.1. Glede na preglednico 1 pojasnite, kako se je spreminjala poklicna sestava prebivalstva na slovenskem ozemlju po vstopu v novo državo.
- 21.2. Katere prednosti pred drugimi deli države so slovenskemu ozemlju omogočale hitro industrializacijo?

(2 točki)

22. Aprila 1941 je bila v kratkotrajni vojni poražena Kraljevina Jugoslavija, ki je bila med 2. svetovno vojno razdeljena med okupatorje in njim naklonjene režime. Slovensko ozemlje je bilo med najbolj razkosanimi v Evropi.

- 22.1. Oglejte si sliko 6 v barvni prilogi in navedite, vojski katerih dveh držav sta napadli slovenski del države.
- 22.2. Navedite celotno ime države, v kateri so prevzeli oblast ustaši.

(2 točki)



23. Med 2. svetovno vojno sta se na Slovenskem oblikovala dva politična tabora. Osvobodilna fronta je svoja načela predstavila v Temeljnih točkah OF, Slovenska zaveza pa je sledila načelom iz t. i. Londonskih točk. Preberite spodnji besedili in opišite delovanje enega izmed političnih taborov ter obkrožite črko pred njim.

Temeljne točke OF

1. Proti okupatorjem je treba vršiti neizprosno oboroženo akcijo.
3. Stoječ na stališču naravne in usodne skupnosti jugoslovanskih narodov, OF ne priznava razkosanja Jugoslavije in deluje z vsemi silami za slogo in enotnost njenih narodov. Hkrati stremi k povezanosti slovanskih narodov pod vodstvom velikega ruskega naroda na temelju pravice slehernega naroda do samoodločbe.
6. Po narodni osvoboditvi prevzame na slovenskem ozemlju oblast Osvobodilna fronta slovenskega naroda kot celota.

(Vir: Gabrič, A., in Režek, M., 2011: Zgodovina 4, str. 170 in 171. DZS. Ljubljana)

Londonske točke

1. Obnovljena in razširjena Kraljevina Jugoslavija.
2. Samostojen in ravnopraven sestavni del Jugoslavije bodi svobodna Slovenija z vsem njej na podlagi narodnostnega načela pripadajočim gospodarsko in prometno zaokroženim ozemljem.
3. Notranja ureditev obnovljene Jugoslavije se mora izvršiti v soglasju vseh njenih sestavnih delov na podlagi enakosti pravic in dolžnosti na federativni osnovi.

(Vir: Gabrič, A., in Režek, M., 2011: Zgodovina 4, str. 172. DZS. Ljubljana)

A OSVOBODILNA FRONTA

B SLOVENSKA ZAVEZA

V obliki krajšega razmišljanja opišite: katera politična stranka je imela odločilno vlogo v političnem taboru, kako so si v svojem političnem programu predstavljali Jugoslavijo po vojni, kakšen je bil njihov odnos do oboroženega odpora, kako so ocenjevali nasprotni slovenski politični tabor in kaj je bilo z njihovimi političnimi voditelji ob koncu vojne.

(5 točk)



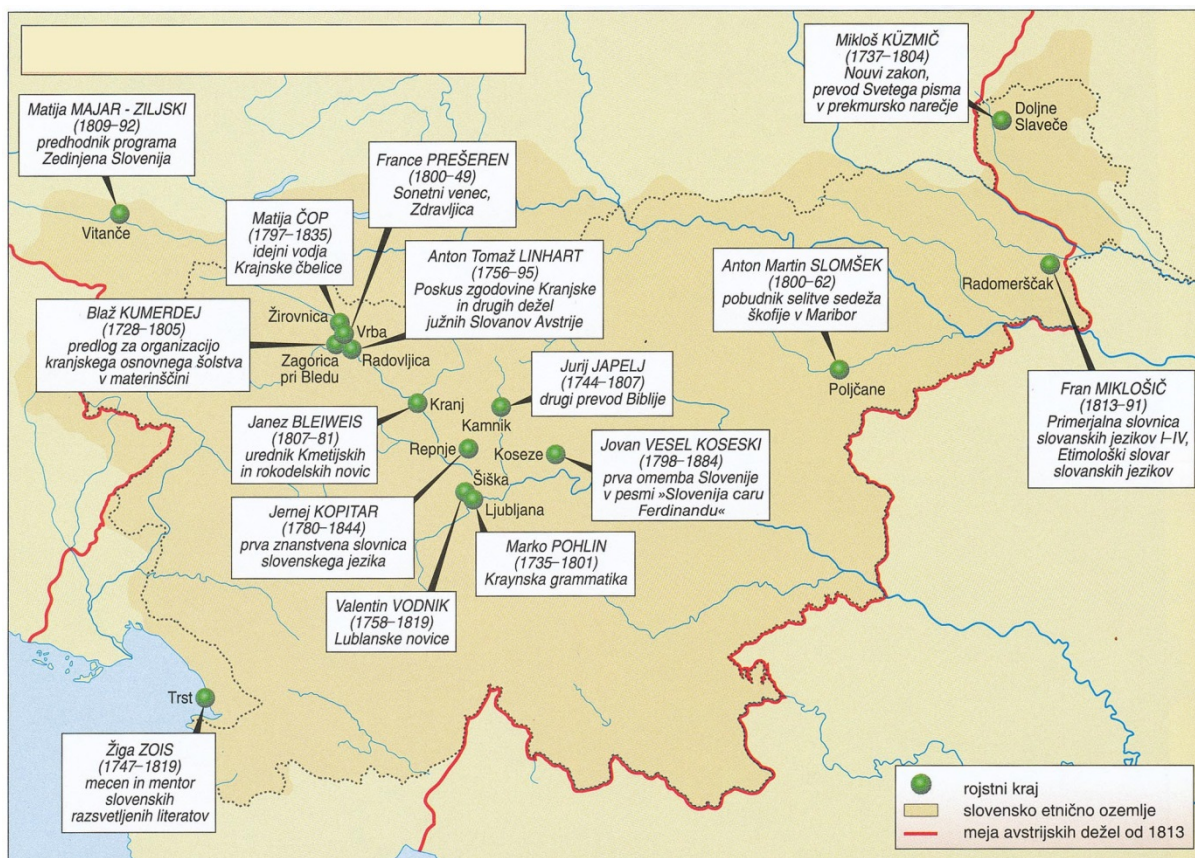
24. Boji na Slovenskem so potekali še po kapitulaciji nacistične Nemčije.
Obkrožite črki pred pravilnima trditvama, povezanimi s koncem vojne na Slovenskem.
- A Slovenija se je po 2. svetovni vojni osamosvojila.
 - B V Ajdovščini je bila imenovana Narodna vlada Slovenije.
 - C Slovenijo so osvobodile anglo-ameriške vojaške enote.
 - D Komunistična oblast je brez sodnih procesov pobila velik del slovenskih domobrancev.
- (2 točki)*
25. Razvrstite v pravilno časovno zaporedje navedene dogodke tako, da na črtico pred dogodkom vpišete ustrezno letnico: 1825, 1859, 1868, 1917, 1921, 1934.
- _____ Sprejeta je bila ustava Kraljevine Srbov, Hrvatov in Slovencev.
 - _____ Fran Metelko je predstavil metelčico.
 - _____ V atentatu v Marseillu je bil ubit jugoslovanski kralj Aleksander Karađorđević.
 - _____ V Ljutomeru je bil organiziran prvi slovenski tabor.
 - _____ V bitki pri Kobaridu so avstrijsko-nemške enote premagale italijansko vojsko.
 - _____ Anton Martin Slomšek je preselil sedež lavantinske škofije v Maribor.
- (3 točke)*



Prazna stran



Barvna priloga (k Izpitni poli 2)



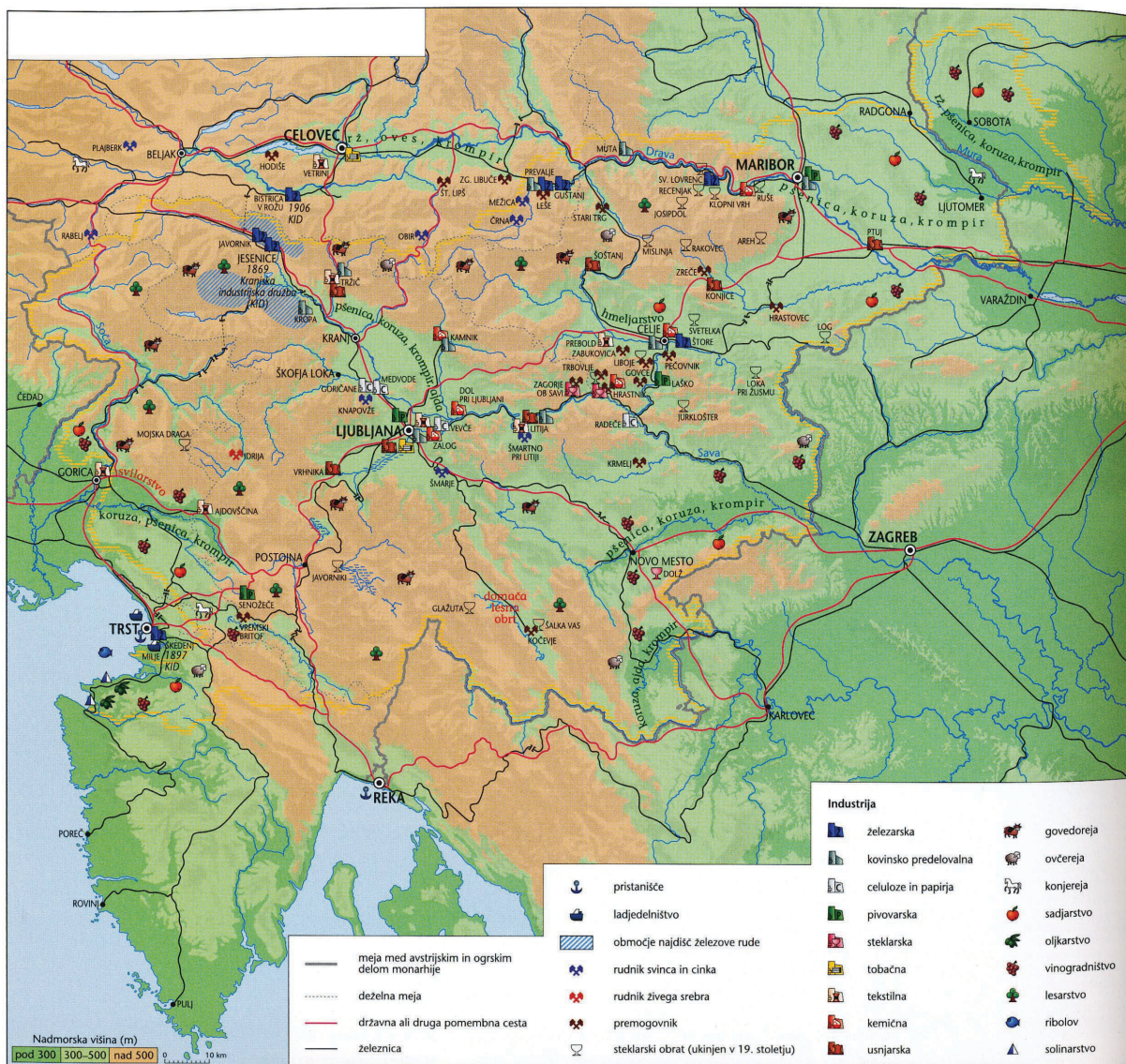
Slika 1: Začetek slovenskega narodnega prebujanja

(Vir: Mali zgodovinski atlas, str. 56. Modrijan. Ljubljana, 1999)

Sodni okraj	Duhovščina	Posestniki		Obrt. ind.	Trgovina	Inteligenca			Učitelji	Dijaki	Pisarnice	Razno	Ustanove	Brez	Skupaj	%
		metni	kmečki			svobodni poklici	uradniki									
Kranjska	308	18	84	49	28	16	39	18	7	23	9	9	13	621	50,90	
Slov. Štajerska	102	—	16	43	2	3	6	9	—	1	1	—	4	187	16,24	
Primorska	121	—	12	4	2	—	13	6	—	1	3	4	8	174	15,45	
Slov. Koroška	31	—	4	2	—	1	2	4	2	—	—	1	1	48	4,25	
Prekmurje	—	—	—	—	—	—	—	—	—	—	—	—	—	—	—	
Beneška Slovenija	1	—	—	—	—	—	—	—	—	—	—	—	—	1	0,08	
Drugo	31	1	2	3	2	4	10	6	2	2	—	34	4	101	8,86	
Skupaj	594	137	101	34	94	43	11	27	13	48	30	1132				
Odstotek	51,60	11,99	8,77	2,95	8,16	3,73	0,95	2,43	1,17	4,25	2,60					

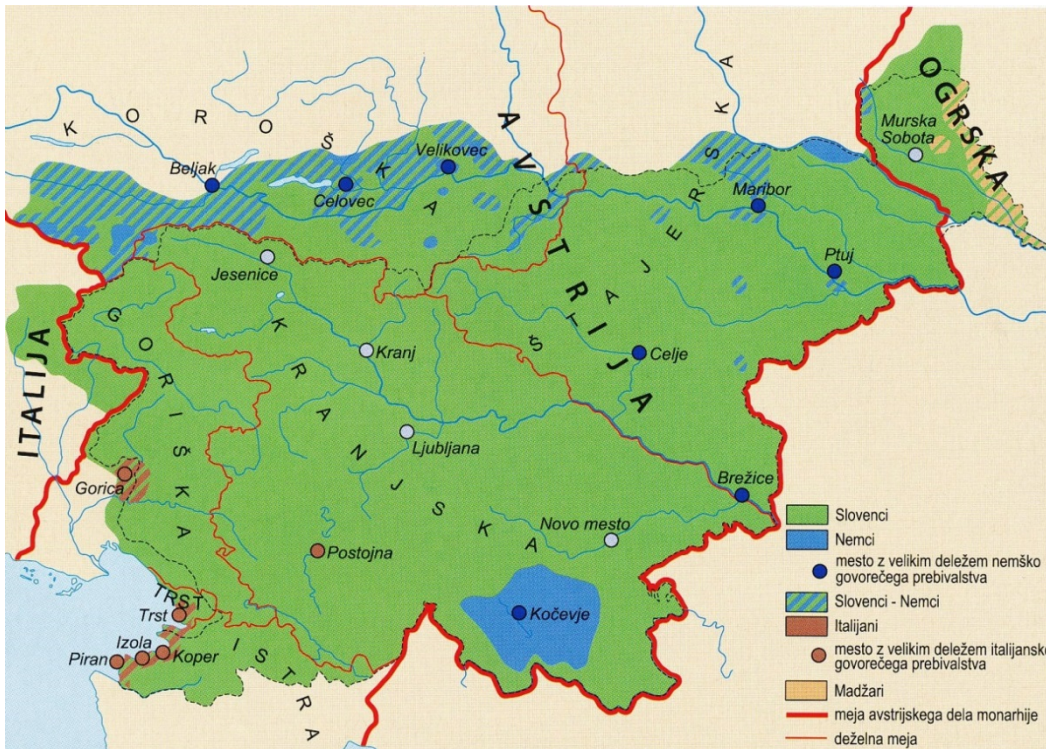
Slika 2: Naročniki Kmetijskih in rokodelskih novic v letu 1845

(Vir: <http://www.sistory.si/publikacije/prenos/?target=pdf&urn=SISTORY:ID:79>. Pridobljeno: 14. 3. 2013.)



Slika 3: Gospodarstvo pred 1. svetovno vojno

(Vir: Slovenski zgodovinski atlas, str. 152. Nova revija. Ljubljana, 2011)



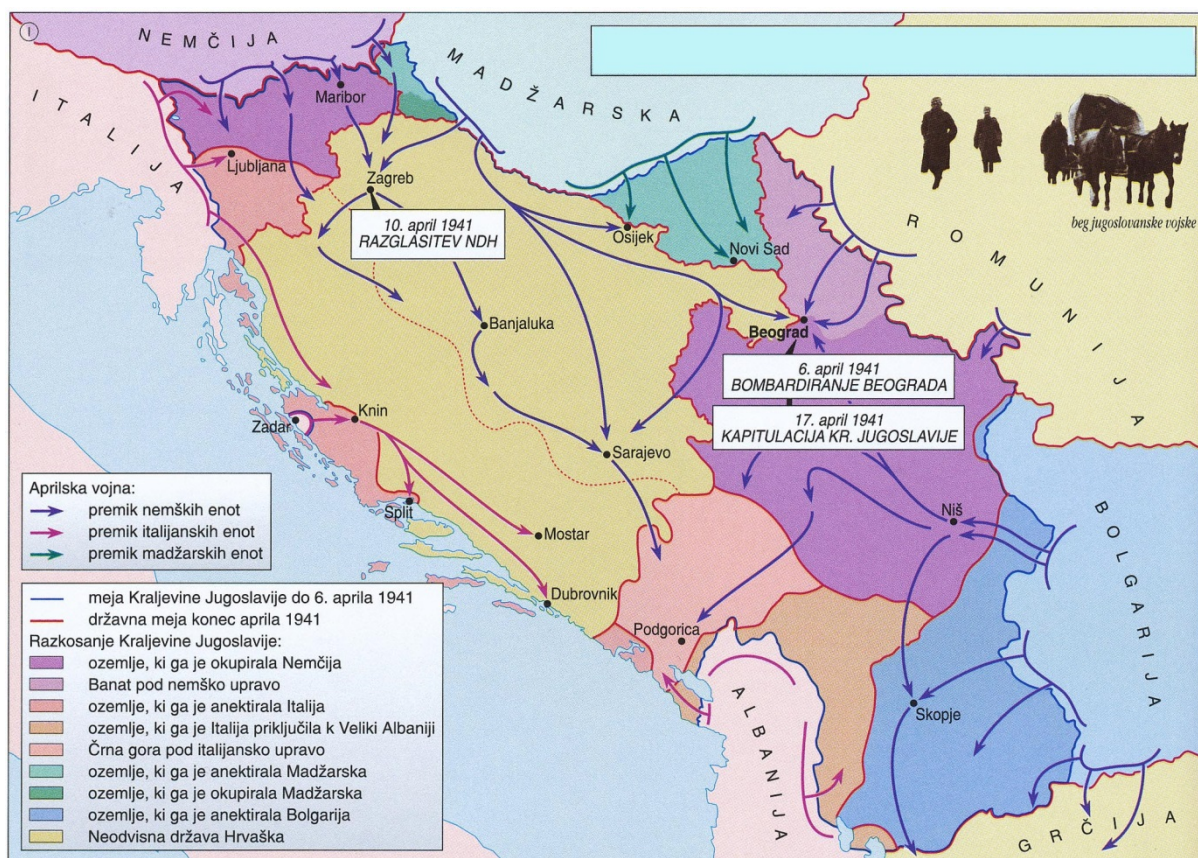
Slika 4

(Vir: Gabrič, A., in Režek, M., 2011: Zgodovina 4, str. 138. DZS. Ljubljana)



Slika 5: Nastanek Kraljevine Srbov, Hrvatov in Slovencev

(Vir: Slovenski zgodovinski atlas, str. 159. Nova revija. Ljubljana, 2011)



Slika 6: Napad na Kraljevino Jugoslavijo in njeno razkosanje

(Vir: Mali zgodovinski atlas, str. 76. Modrijan. Ljubljana, 1999)