



Šifra kandidata:

Državni izpitni center



M 1 6 1 5 1 1 1 2

SPOMLADANSKI IZPITNI ROK

ZGODOVINA

≡ Izpitna pola 2 ≡

Narodna zgodovina

Četrtek, 9. junij 2016 / 90 minut

*Dovoljeno gradivo in pripomočki:
Kandidat prinese nalivno pero ali kemični svinčnik.
Kandidat dobi ocenjevalni obrazec.
Izpitni poli je priložena barvna priloga.*

SPLOŠNA MATURA

NAVODILA KANDIDATU

Pazljivo preberite ta navodila.

Ne odpirajte izpitne pole in ne začenjajte reševati nalog, dokler vam nadzorni učitelj tega ne dovoli.

Prilepite kodo oziroma vpišite svojo šifro (v okvirček desno zgoraj na tej strani in na ocenjevalni obrazec).

Izpitna pola vsebuje 25 nalog. Število točk, ki jih lahko dosežete, je 60. Za posamezno nalogo je število točk navedeno v izpitni poli.

Rešitve, ki jih pišete z nalivnim peresom ali s kemičnim svinčnikom, vpisujte **v izpitno polo** v za to predvideni prostor. Pišite čitljivo. Če se zmotite, napisano prečrtajte in rešitev zapišite na novo. Nečitljivi zapisi in nejasni popravki bodo ocenjeni z 0 točkami.

Zaupajte vase in v svoje zmožnosti. Želimo vam veliko uspeha.

*Ta pola ima 16 strani (1–16), od tega 1 prazno.
Barvna priloga ima 4 strani (17–20).*



Razvoj zgodovinskih dežel in Slovenci

1. V obdobju preseljevanja se je čez sedanje slovensko ozemlje premikalo več ljudstev. Slovani so se v vzhodnoalpski prostor naseljevali v dveh večjih valovih. Prinašali so nove običaje, pravni red rimske države in sledi starih naseljencev pa so začeli izginjati. Pri reševanju si pomagajte s sliko 1 v barvni prilogi.
 - 1.1. Navedite obe smeri in čas obeh slovanskih valov poseljevanja vzhodnoalpskega prostora.
 - 1.2. Katere spremembe so doživela celinska rimska mesta po prodiranju Slovanov v vzhodnoalpski prostor?
 - 1.3. Kaj vse so od romanskih staroselcev prevzeli Slovani?

(3 točke)

2. Vzhodnoalpski Slovani so se s Slovani v severnejših deželah združili v Samovo plemensko zvezo, ki se je več desetletij upirala poskusom sosedov, da si jih podredijo.

Obkrožite črki pred ljudstvom, ki sta si poskušala podrediti Samovo plemensko zvezo.

- A Huni
- B Franki
- C Rimljani
- D Avari

(2 točki)



3. Enega izmed prvih zapisov o vzhodnoalpskih Slovanih najdemo v Zgodovini Langobardov, ki jo je v 8. stoletju napisal Pavel Diakon. Med drugimi je omenil boje Slovanov s sosedi.

V tem času so po smrti Tasila, bavarskega vojvode, njegovega sina Garibalda premagali Slovani v mestu Aguntum in opustošili bavarsko ozemlje. (...) Kljub temu so Slovani v tem letu v Istri ubijali vojake in neusmiljeno plenili.

(Vir: Diakon, P., 1988: Zgodovina Langobardov, str. 173. Založba Obzorja. Maribor)

- 3.1. Pomagajte si s sliko 1 v barvni prilogi in navedite, na ozemlju katere današnje države so Slovani premagali Bavarce.
- 3.2. Pojasnite, zakaj Pavel Diakon ni imel dobrega mnenja o Slovanih.

(2 točki)



Slika 1: Menih in zgodovinopisec Pavel Diakon

(Vir: <http://sl.wikipedia.org>. Pridobljeno: 26. 9. 2014.)

4. V dokumentu *Conversio Bogoariorum et Carantanorum* (Spreobrnjenje Bavarcev in Karantancev) iz leta 871 so ohranjeni zapisi o pokristjanjevanju Slovanov v vzhodnih Alpah.

S sabo so od njih odpeljali talce na Bavarsko. Med njimi je bil tudi Borutov sin, po imenu Gorazd, za katerega je njegov oče prosil, naj ga vzgojijo v krščanskih šegah in naredijo kristjana. In tako se je tudi zgodilo. Isto je prosil tudi za Hotimirja, sina svojega brata.

(Vir: Mlacović, D., in Urankar, N., 2010: Zgodovina 2, str. 141. DZS. Ljubljana)

- 4.1. Kateri sloj Slovanov je najprej sprejel krščansko vero?
- 4.2. Opišite način pokristjanjevanja, ki ga je v Karantaniji uvajal škof Modest.

(2 točki)



5. Z vključitvijo v nemško kraljestvo oz. pozneje Sveto rimsko cesarstvo je bilo slovensko ozemlje vključeno v fevdalni sistem širšega srednjeevropskega prostora. Velike zemljiške posesti so dobivale v fevd pomembne plemiške rodbine in cerkvene ustanove.

Na črto pred imeni velikih plemiških ali škofijskih zemljiških posestnikov v levem stolpcu prepisite ustrezno črko iz desnega stolpca.

_____ Weimar-Orlamünde	
_____ Eppenstein	P plemiška posest
_____ Freising	
_____ Spanheim	Š škofijska posest
_____ Salzburg	
_____ Brixen	

(3 točke)

6. Zemljiški gospodje oz. fevdalci so zemljo razdelili na kmetije.

Kako se je imenovala osnovna kmetijska enota, ki naj bi zadostovala za preživetje ene družine?

(1 točka)

7. Obveznosti podložnikov na zemljiških posestih so se skozi stoletja spreminjale.

Pri reševanju si pomagajte s spodnjim besedilom, ki ga je po proučevanju položaja podložnikov in urbarjev zapisal zgodovinar Pavle Blaznik.

Na pojemanje tlaške obveznosti je vplivalo že samo naseljevanje novih podložnikov, kajti s prilivom novih delovnih sil se je delo, ki ga je bilo treba opraviti na dominikalni zemlji, razdelilo na večje število podložnikov. Še v večji meri so kopnele tlaške obveznosti spričo opuščanja pridvornega gospodarstva, ki pa ni enakomerno zajelo slovenskega ozemlja.

(Vir: Gospodarska in družbena zgodovina Slovencev: Zgodovina agrarnih panog. Zv. 2. Družbena razmerja in gibanja, str. 255. DZS. Ljubljana, 1980)

- 7.1. Pojasnite vzroke za zmanjševanje obveznosti do tlake na nekaterih gospodstvih.

- 7.2. Pojasnite razliko med zakupno kmečko posestjo in dominikalno zemljo.

(2 točki)



8. V času interregnuma v nemškem kraljestvu (v letih 1254 do 1273) je oblast nad deželami na jugovzhodu države dobil češki kralj Otokar II. Přemysl. Potegoval se je tudi za vladarski naslov v celotni državi, a so volilni knezi raje izvolili Rudolfa I. Habsburškega.

Otokarjev kancler je leta 1273 pisal papežu o volilnih knezih sledeče:
 Bojijo se prevelike moči, zato za kralje izbirajo rajši takšne, ki bi jim morali biti podrejeni in ne nadrejeni, ali pa se v svoji izbiri razdelijo (...). Ne svetni ne cerkveni knezi nočejo slišati za močnega cesarja, želijo si dobrotnega in modrega cesarja, ne pa mogočnega, čeprav hotenje in znanje brez zmožnosti ne pomenita ničesar.

(Vir: Pohl, W., in Vocelka, K., 1994: Habsburžani: zgodovina evropske rodbine, str. 36–37. Mladinska knjiga. Ljubljana)

- 8.1. Glede na sliko 2 v barvni prilogi pojasnite, zakaj je bil v času interregnuma Otokar II. Přemysl politično pomembnejši od Rudolfa I. Habsburškega.
- 8.2. S pomočjo zgornjega besedila pojasnite, zakaj so volilni knezi za cesarja raje izvolili Rudolfa I. Habsburškega.
- 8.3. Do kdaj so Habsburžani, ko so po zmagi prevzeli posesti Otokarja II. Přemysla, vladali deželam, poseljenim s Slovenci?

(3 točke)

9. V poznem srednjem veku se je na jugovzhodu Rimsko-nemškega cesarstva utrdil položaj dežel, znotraj katerih so se za moč potegovala dinastične rodbine in različni stanovi.

Deželni stanovi so korporacija privilegiranih oseb, ki jih mora deželni knez na podlagi deželnih privilegijev in običajev v določenih zadevah vprašati za nasvet ali dovoljenje. Predvsem v starejši literaturi je zato govor o pravici do sovladanja (...). Članov stanovske korporacije ne povezujejo fevdne vezi s skupnim gospodom, temveč skupno ozemlje (dežela), skupno deželno pravo in deželni gospod.

(Vir: Nared, A., 2009: Dežela–knez–stanovi: oblikovanje kranjskih deželnih stanov in zborov do leta 1518, str. 255. Založba ZRC. Ljubljana)

- 9.1. S pomočjo zgornjega besedila pojasnite odnos med deželnim knezom in deželnim plemstvom.
- 9.2. Pripadnike katerih treh stanov je skliceval deželni knez na deželni zbor Kranjske?

(2 točki)



10. Ob prevladujoči agrarni dejavnosti so se v poznem srednjem veku preživljali še z različnimi drugimi dejavnostmi. Pri reševanju si pomagajte s sliko 3 v barvni prilogi.

10.1. V katerem delu današnje Slovenije se je najbolj razvilo fužinarstvo?

10.2. Po katerih dveh vrstah prometnih poti so tovorili izdelke na daljše razdalje?

(2 točki)

11. Od 12. stoletja je bilo na večinoma kmečkem območju različnih zemljiških gospostev ustanovljenih vse več mest, ki so ob ustanovitvi dobila nekatere avtonomne pravice.

Deželni knez Rudolf IV. je leta 1365 v ustanovni listini Novega mesta določil tudi:

Dal je mestu načelnika, mestnega sodnika, nemški »Stadtrichter« zvanega. Podelil mu je pravico: 1. sprejeti med meščane vsakega, kdor bi se želel v mestu naseliti; 2. razsojevati prepire med meščani ter soditi tujce, ki bi mesto, bodisi kakorkoli, žalili. Nobena druga gosposka nej ne bi smela segati po ljudeh, ki bi stanovali že najmenj jedno leto v mestu. Podložnika, ki je, recimo, ušel kaki bližnji grajščini, le-ta ni smela več nazaj tirjati in ga klicati pred svoj sodni stol, če je med tem že leto minulo; 3. meščane je smel, kakor drugod po mestih, soditi le meščan.

(Vir: Vrhovec, I., 1891: Zgodovina Novega mesta, str. 12. Matica Slovenska. Ljubljana)

11.1. Katere pravice so ob ustanovitvi dobili meščani Novega mesta?

11.2. S pomočjo zgornjega besedila utemeljite rek, da »mestni zrak osvobaja«.

(2 točki)



12. Mesta v notranjosti in obalna mesta so imela v srednjem veku nekatere skupne značilnosti, a so imela zaradi različnih zgodovinskih okoliščin in drugačnega razvoja tudi svoje posebnosti.

Obalne mestne naselbine so imele razvito samoupravo že v časih, iz katerih nimamo prav veliko pisnih pričevanj. Severnoistrske komune so (...) najprej sklepale zavezništvo, nato pa so se jim v 13. stoletju predale v nadoblast. (...) so v njih nastavljali svoje načelnike, podestate in vojaške posadke.

(Vir: Mlacović, D., in Urankar, N., 2010: Zgodovina 2, str. 160. DZS. Ljubljana)

Obkrožite črko pred izbranim mestom.

A NOVO MESTO

B KOPER

Z upoštevanjem zgornjega besedila, besedila pri nalogi 11 in slike 3 v barvni prilogi v obliki krajšega razmišljanja navedite, v okvir katere države je spadalo mesto v poznem srednjem veku, kdo je zastopal osrednjo državno/deželno oblast v mestu, v katerem jeziku je uradovala mestna oblast, kakšen geografski položaj je mestu, poleg obzidja, omogočal obrambo pred morebitnimi napadalci in s katerimi gospodarskimi dejavnostmi so se ukvarjali prebivalci mesta.

(5 točk)



13. Od 14. stoletja se je na Balkanu širila država osmanskih Turkov, v 15. stoletju so se začeli tudi že turški vpadi na slovensko ozemlje.

V zvezi s prošnjo cerkniških podložnikov je leta 1567 deželni knez izdal ukaz deželnemu glavarju in vicedomu, da tabor v Cerknici pregledata in, če je potrebno, oskrbita s strelivom ter podložnikom dovolita utrditi obzidje, poleg tega pa dovolita shranjevati žito v tem taboru tudi kmetom iz drugih okoliških vasi.

(Vir: Simoniti, V., 1991: Vojaška organizacija na Slovenskem v 16. stoletju, str. 204. Slovenska Matica. Ljubljana)

- 13.1. Kako imenujemo utrjene obzidane postojanke, običajno okoli cerkve, kot je na sliki 2, v katere se je pred turškimi vpadi zatekalo kmečko prebivalstvo?
- 13.2. Zakaj je bilo med turškim vpadom kmečko prebivalstvo bolj izpostavljeno nevarnosti kakor plemstvo ali meščani?

(2 točki)



Slika 2: Cerovo pri Grosupljem

(Vir: <http://www.geocaching.com>.
Pridobljeno: 12. 9. 2014.)

14. Turški vpadi so imeli različne posledice, od gospodarskih, upravnih in političnih do demografskih.

Povežite posledice turških vpadov tako, da črke pred pojmi v desnem stolpcu zapišete na ustrezna mesta pred opise v levem stolpcu.

- | | |
|---|-----------------|
| _____ nemusliman, izbran za turškega vojaka | A turkerija |
| _____ umetniška zbirka turških podob | B Vojna krajina |
| _____ pravoslavni Vlah, ubežnik pred Turki | C grmada |
| _____ opozorilni znak pred nevarnostjo | D pustota |
| _____ zaradi vpadov opustele kmetije | E janičar |
| _____ obrambni sistem z utrdami | F Uskok |

(3 točke)



15. Začetnik reformacije in nato glavni organizator protestantske cerkve na Slovenskem Primož Trubar je leta 1550 izdal Katekizem, prikazan na sliki 3. Na koncu knjige je pred seznamom napak dodal to pojasnilo.

Da je v tej knjigi nekaj napak v besedah in črkah, izvira od tod, ker se ta jezik prej nikoli ni pisal niti tiskal. Tiskovne napake, ki tukaj slede, naj se torej popravijo ...

(Vir: Slovenski protestantski pisci, str. 60. DZS. Ljubljana, 1966)

- 15.1. Razložite, zakaj je bilo v prvih Trubarjevih knjigah dosti tiskovnih napak.
- 15.2. S kakšnimi ukrepi so Trubar in drugi protestanti poskušali doseči, da se v prihodnje take napake ne bi več ponavljale?

(2 točki)



Slika 3: Trubarjev Katekizem

(Vir: <http://www.dedi.si>.
Pridobljeno: 26. 9. 2014.)

16. Leta 1584 je bil natisnjen prvi prevod Biblije v slovenskem jeziku. Prevajalec Jurij Dalmatin je v posvetilu v Bibliji med drugim zapisal:

Usmiljeni, dobri Bog pa je v poslednjem času milostno in očetovsko razodel ne samo Nemcem, ampak tudi drugim narodom in ljudstvom svojo čisto besedo v njihovih posebnih jezikih (...). Tako so se pojavili pred kratkim (Bogu bodi večna hvala) že omenjeni biblijski in drugi iz njih izvirajoči krščanski koristni spisi tudi v francoskem, laškem, ogrskem, poljskem, češkem, ruskem, danskem in v več drugih jezikih ...

(Vir: Slovenski protestantski pisci, str. 334. DZS. Ljubljana, 1966)

- 16.1. Navedite vsaj sedem jezikov, v katerih je bila v 15. in 16. stoletju natisnjena Biblija.
- 16.2. Kateri smeri reformacije so sledili protestanti na Kranjskem?
- 16.3. Zakaj je protestantsko gibanje spodbujalo prevajanje Biblije v različne jezike?

(3 točke)



Slovensko nacionalno preoblikovanje

17. Habsburško monarhijo je poskušala v sodobno centralizirano državo preurediti Marija Terezija. Kako naj bi izvedli šolsko reformo, je predhodno povprašala šolske strokovnjake.

Marca 1772 je Blaž Kumerdej v predlogu o organizaciji šolstva na Kranjskem Mariji Tereziji potrebo po osnovnem šolanju utemeljeval takole:

Med razlogi vsega tega ni najmanjši pri podeželskem ljudstvu tako zelo razširjeno neznanje branja in pisanja; v tem je tako neizkušeno, da zna razen redkih študentov, duhovščine, nekaterih meščanov v mestih in v grajskih pisarnah v vsej vojvodini komaj sto oseb brati in pisati. (...) Če bi znali pisati in brati, bi bilo prav lahko jim dopovedati voljo deželnega kneza, ako bi jo natisnili v deželnem jeziku ter jo preprostemu človeku razglasili, kakor to delajo v drugih deželah. S pomočjo knjig bi jih mogli seznaniti tako z verskimi kakor tudi z gospodarskimi nauki, da bi laže pridobivali in proizvode izmenjavali ter davke plačevali.

(Vir: Schmidt, V., 1988: Zgodovina šolstva na Slovenskem: I. del, str. 169. Delavska enotnost. Ljubljana)

- 17.1. S pomočjo zgornjega besedila pojasnite, kakšno korist bi od šolske reforme imeli preprosti ljudje.
- 17.2. S pomočjo zgornjega besedila pojasnite tudi, kakšno korist bi od šolske reforme imela država.

(2 točki)

18. Prva desetletja slovenskega narodnega gibanja so povečala pomen slovenskega jezika na področjih, na katerih pred tem še ni bil uveljavljen.

Povežite novosti tako, da črke pred imeni pomembnih izobražencev vpišete v desnem stolpcu na ustrezna mesta pred opise njihovega pomembnega dela v levem stolpcu.

_____ prvi katoliški prevod Biblije v slovenščino	A Anton Tomaž Linhart
_____ prvi časopis v slovenskem jeziku	B Marko Pohlin
_____ prva narodno zasnovana zgodovina	C Valentin Vodnik
_____ prva slovnica po Bohoričevi	D Jurij Japelj

(2 točki)




19. Vse od protestantizma so bile knjige v slovenskem jeziku tiskane v bohoričici. Ko so se pojavile težnje po novem črkopisu, je nastalo več predlogov, toda uvajanju metelčice in dajničice so številni nasprotovali.

19.1. Kakšnemu načelu so, v nasprotju z bohoričico, v kateri so bile tiskane še prve številke literarnega zbornika Kranjska čbelica, sledili novi črkopisi?

19.2. Kateri črkopis se je nato uveljavil in v njem še danes pišemo v slovenščini?

(2 točki)



Slika 4: Kranjska zbeliza, 1834

(Vir: <http://www.dedi.si>.
Pridobljeno: 26. 9. 2014.)

20. Po več neuspešnih poskusih izdajanja časopisa v slovenskem jeziku so leta 1843 naposled začele izhajati Kmetijske in rokodelske novice. Predlagatelji novega časopisa so takole opredelili njegov program:

(...) bo list docela izogibal takih člankov, ki imajo politično barvo ali verski značaj. (...) razširjati na kolikor mogoče občerazumljiv način splošnokoristne vednosti, zlasti take, ki bi utegnile pospeševati in poživljati industrijo, poljedelske interese in izpopolnitev obrti.

(Vir: Slovenska kronika XIX. stoletja: 1800–1860, str. 260. Nova revija. Ljubljana, 2001)

20.1. S pomočjo zgornjega besedila navedite, kakšni so bili cilji izdajateljev časopisa.

20.2. Kakšne so bile zasluge Kmetijskih in rokodelskih novic za slovenski kulturni razvoj?

(2 točki)



21. Spreminjanje gospodarskih načel od začetka industrijske revolucije in reform v kmetijstvu je v prvi polovici 19. stoletja že pustilo močan pečat tudi v habsburški monarhiji.

Štiri velike in očitne stopnje (...): prva, de so začeli okoli 1770. leta pogostoma deteljo sejati in živino v hlevih rediti; druga, de so jeli korun (krompir) saditi; tretja, da so jeli setev žit in družih sadežev umno vrstiti in primerno premenovati, četrta pa, de so jeli za pomnoženje gnoja bolj skrbeti.

Leta 1819 so montirali parni stroj v tržaški mlin. Potem so si sledili parni stroji z velikimi časovnimi presledki: leta 1835 so ga vgradili v ljubljanski čistilnici sladkorja, štiri leta nato v mehanični predilnici v istem letu, leta 1844 še v podobnem obratu v Preboldu.

(Vir: Cvirn, J., in Studen, A., 2010: Zgodovina 3, str. 150–151. DZS. Ljubljana)

Obkrožite črko pred izbrano gospodarsko dejavnostjo.

A KMETIJSTVO B INDUSTRIJA

Z uporabo zgornjega besedila in slike 4 v barvni prilogi v obliki krajšega razmišljanja navedite pet panog te gospodarske dejavnosti, s katerimi se je preživljal del slovenskega prebivalstva, katere novosti so spodbudno vplivale na razvoj dejavnosti, pojasnite, zakaj so se sredi stoletja začele pojavljati krize in kako je napredek v dejavnosti vplival na demografski razvoj ozemlja.

(4 točke)



22. Kmetijstvo je doživljalo spremembe zaradi reform, ki sta jih v drugi polovici 18. stoletja vpeljala Marija Terezija in Jožef II.

- 22.1. Katera novost v kmetijstvu je omogočala boljšo izrabo zemlje in podaljšanje nekdanjega triletnega kolobarja na daljše obdobje, kot je prikazano v preglednici 1?
- 22.2. Glede na sliko 4 v barvni prilogi navedite, kateri nekmečki dejavnosti sta bili razviti na Litijskem.

	Glavni pridelek	Strniščni pridelek
Prvo leto	ječmen	detelja
Drugo leto	detelja	
Tretje leto	proso	
Četrto leto	pšenica	repa
Peto leto	koruza	

Preglednica 1: Setveni koledar za njive prvega kakovostnega razreda na Litijskem

(Vir: Kačičnik Gabrič, A., 2011: Litija in Litijsko v prvi polovici 19. stoletja. Kronika: časopis za slovensko krajevno zgodovino, 59, št. 3, str. 500)

(2 točki)

23. Maksim Gaspari je s sliko Brodniki in »vlačugarji« prikazal prevoz dobrin po reki z brzicami in slapovi tako, kakor je potekal tudi na Savi na Litijskem.

Katera sodobnejša prometna povezava je prevzela prevoz dobrin in sprožila propadanje prevoza, prikazanega na sliki 5?

(1 točka)



Slika 5: Maksim Gaspari: Brodniki in »vlačugarji«

(Vir: Holz, E., 2011: Zanimivosti o prometnicah na območju nekdanjega litijskega okrajnega glavarstva v 18. in 19. stoletju. Kronika, 59, št. 3, str. 531)



24. V revolucionarnem letu 1848 so nemiri zajeli tudi ozemlje, na katerem so živeli Slovenci. Pripadniki različnih slojev so zahtevali spremembe v političnem, gospodarskem in nacionalnem življenju. Pri reševanju si pomagajte s sliko 5 v barvni prilogi.

24.1. Na katerem delu Kranjske je kmečko nezadovoljstvo zajelo največ vasi?

24.2. Navedite pet mest, v katerih so ustanovili društvo, ki je zagovarjalo slovenske narodne interese.

24.3. Kakšne politične spremembe so v Avstriji sledile po izbruhu revolucije v letu 1848?

(3 točke)

25. V revoluciji je bil leta 1848 oblikovan prvi slovenski politični program Zedinjena Slovenija.

Obkrožite črke pred tremi pravilnimi rešitvami, povezanimi s programom Zedinjene Slovenije.

A Slovenci so se z navdušenjem udeležili prvih volitev v frankfurtski parlament.

B Program Zedinjene Slovenije je zahteval slovenščino v šolah, uradih in na sodiščih.

C V Novem mestu so izdajali časopis v slovenskem jeziku v podporo Zedinjeni Sloveniji.

D V letaku Kaj Slovenci terjamo? je temelje programa zapisal France Prešeren.

E Program Zedinjene Slovenije so natančneje opredelili intelektualci in študentje na Dunaju.

F Največ ohranjenih podpisanih peticij v podporo programu je s Štajerskega.

(3 točke)

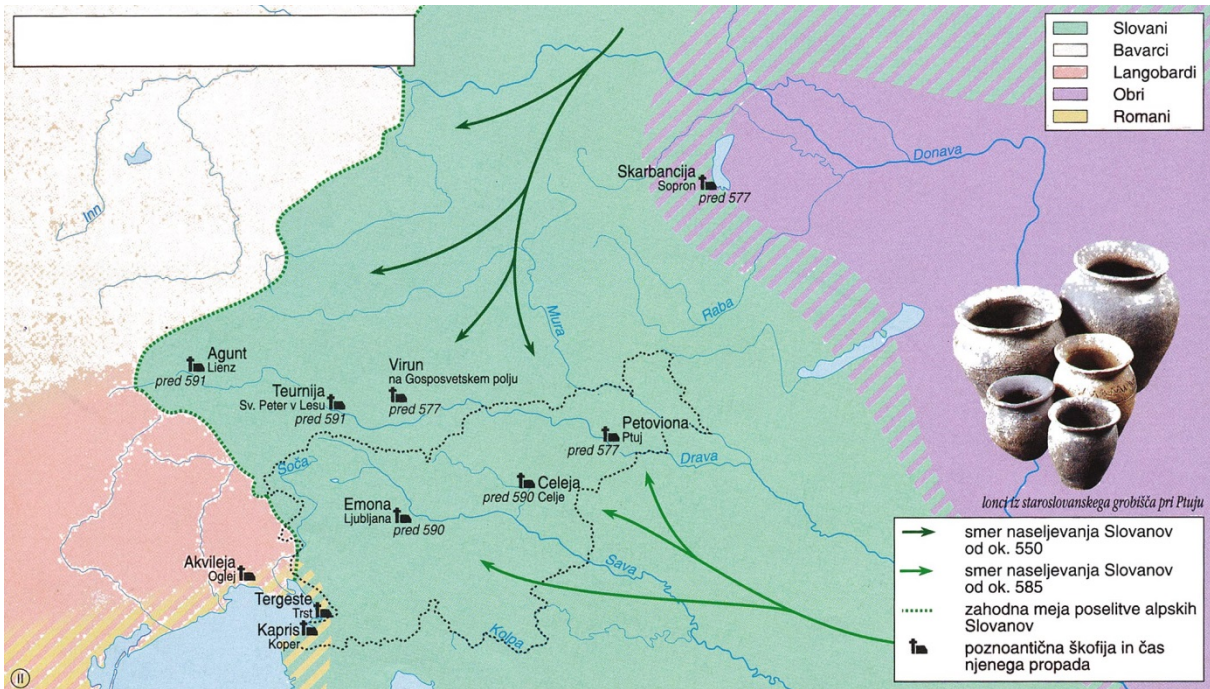


Prazna stran



V sivo polje ne pišite.

Barvna priloga (k Izpitni poli 2)



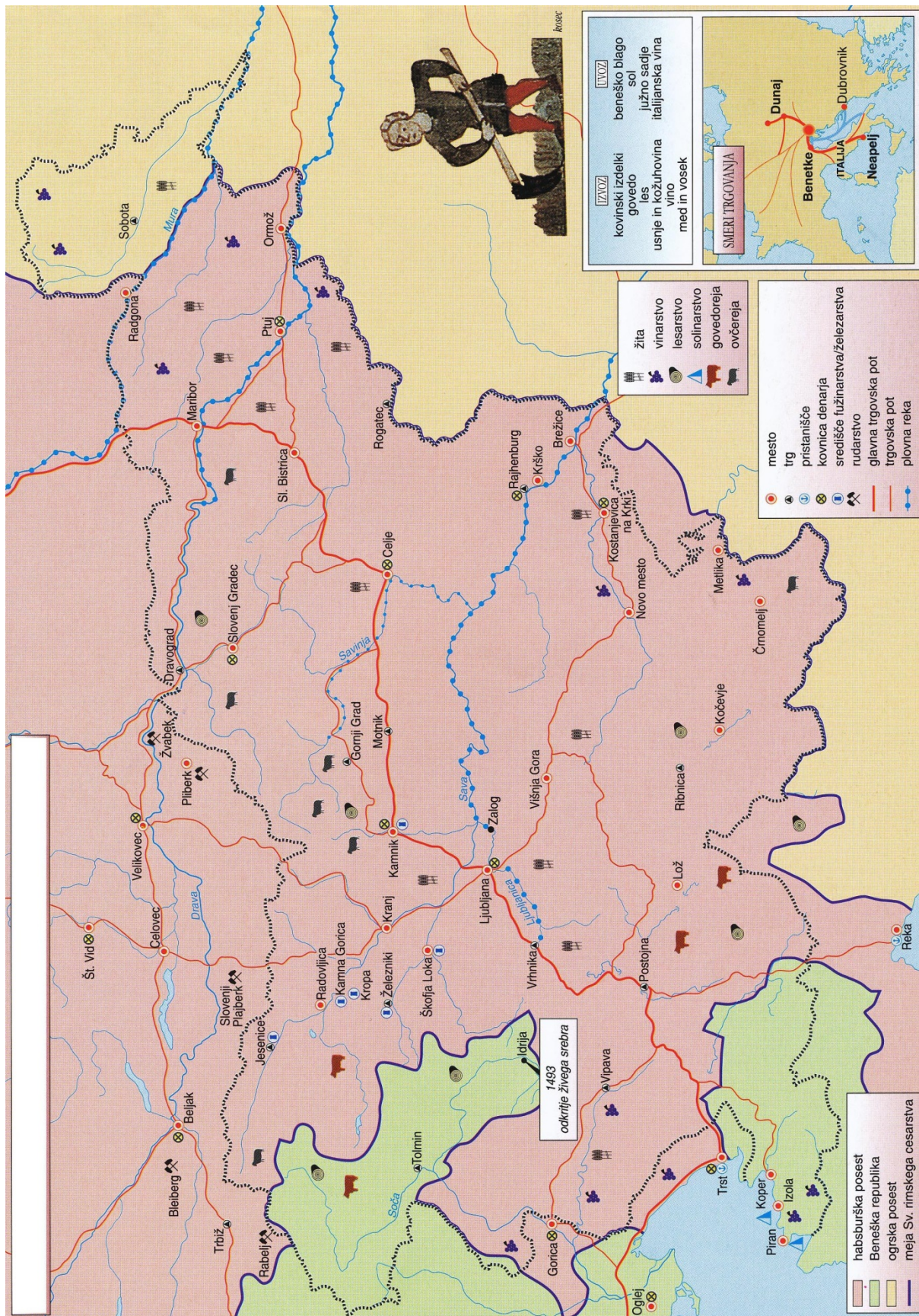
Slika 1: Slovanska poselitvev vzhodnih Alp

(Prirejeno po: Mali zgodovinski atlas, str. 28. Modrijan. Ljubljana, 1999)



Slika 2: Posesti Otokarja II. Přemysla (oranžno) in Rudolfa I. Habsburškega (rumeno)

(Vir: Pohl, W., in Vocolka, K., 1994: Habsburžani: zgodovina evropske rodbine, str. 36. Mladinska knjiga. Ljubljana)



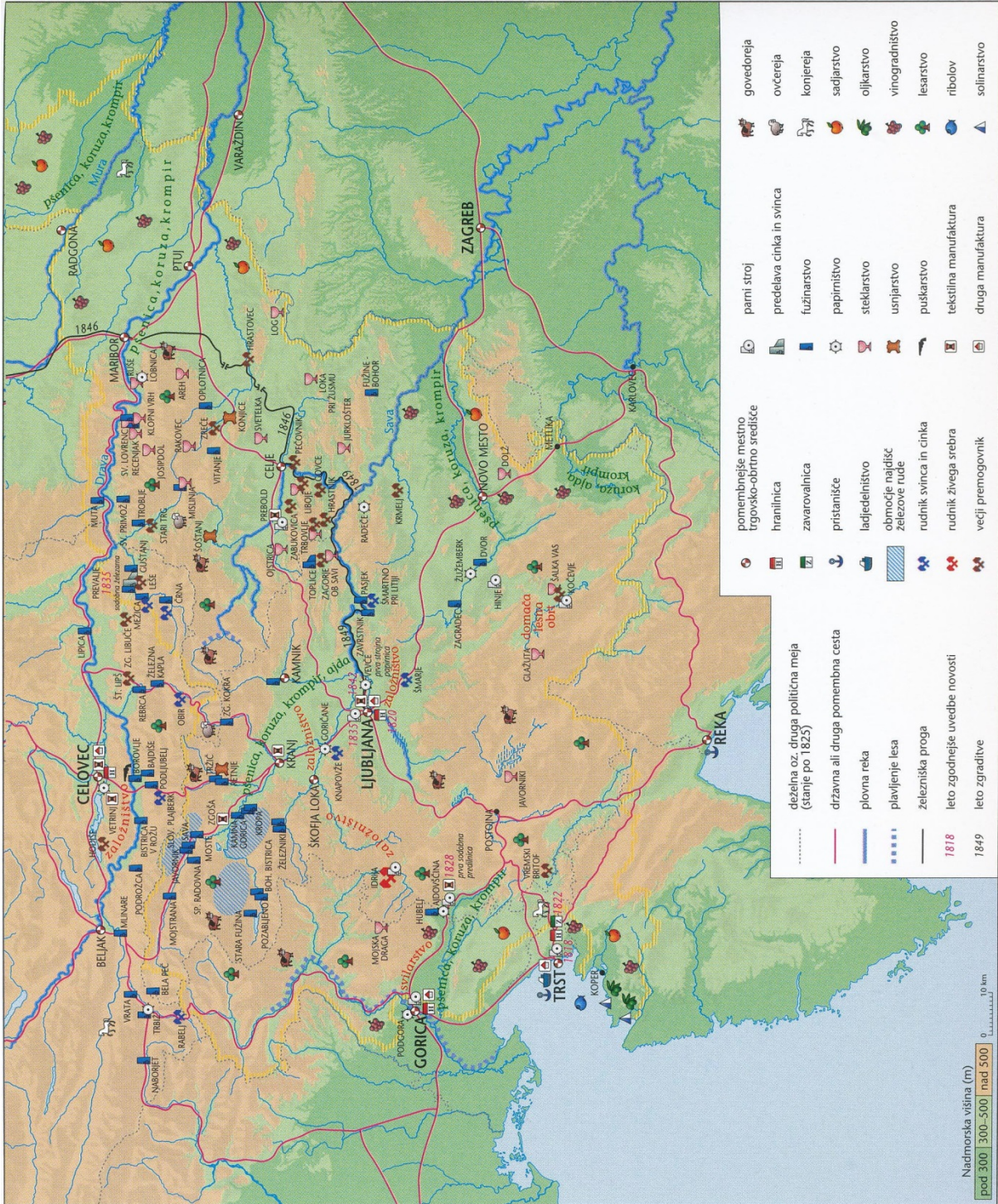
Slika 3: Gospodarstvo in trgovina na Slovenskem v poznem srednjem veku

(Vir: Mali zgodovinski atlas, str. 32. Modrijan. Ljubljana, 1999)



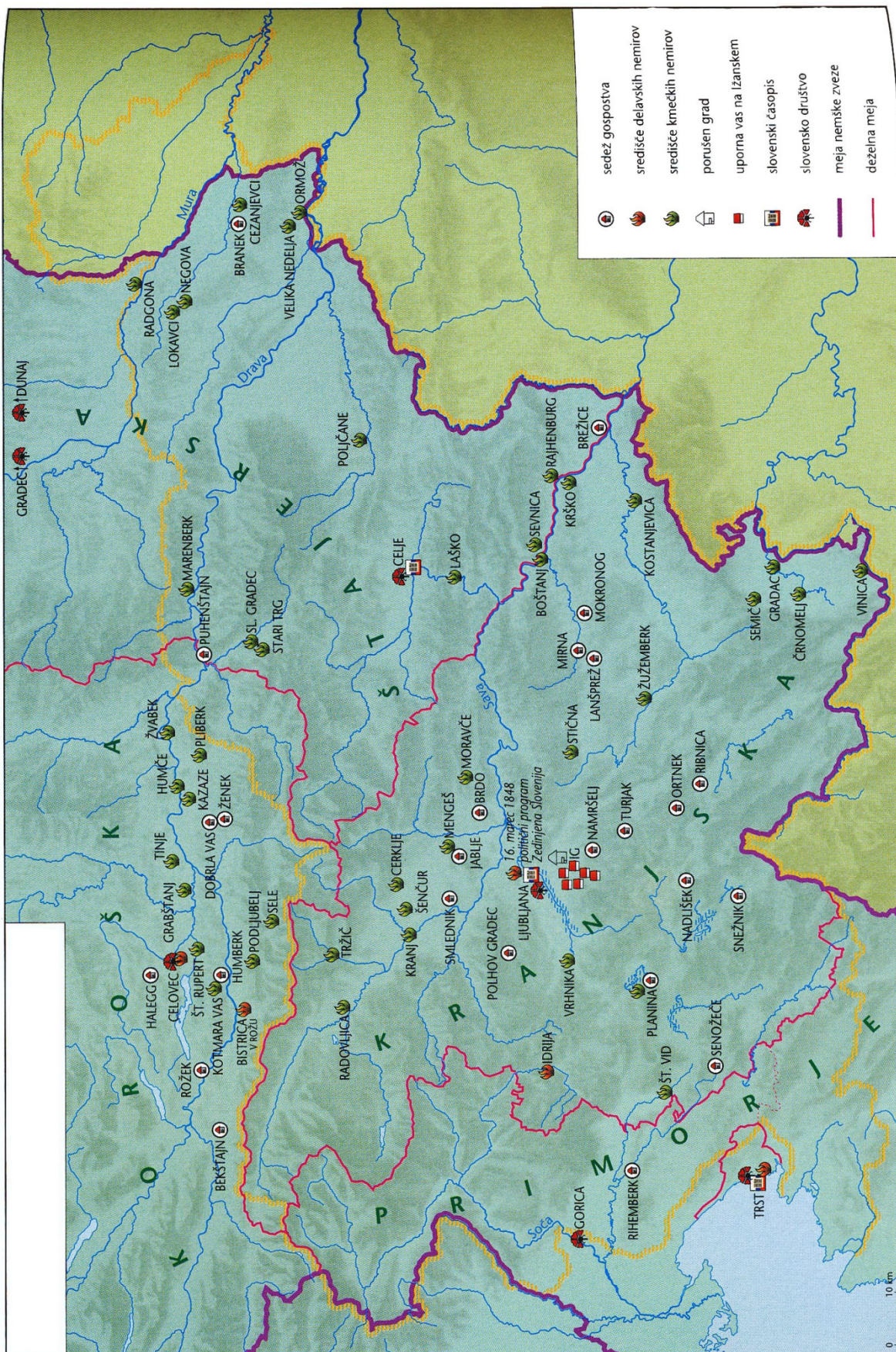
M 1 6 1 5 1 1 1 2 1 9

V sivo polje ne pišite.



Slika 4: Gospodarstvo v prvi polovici 19. stoletja

(Vir: Slovenski zgodovinski atlas, str. 132. Nova revija. Ljubljana, 2011)



Slika 5: Leto 1848 na slovenskem ozemlju

(Vir: Slovenski zgodovinski atlas, str. 146. Nova revija, Ljubljana, 2011)